

# RRBPO MAINS (PACKAGE) -03 2020

**Q-1** How many such pairs of letters are there in the word ‘**OXFORDDICTION**’ each of which has as many letters between them in the word as in the English alphabet?  
*eng*

01. None  
02. One  
03. Two  
04. Three  
05. More than three

**Q-1** शब्द 'OXFORDDICTION' में, अक्षरों के ऐसे कितने जोड़े हैं जिनमें से प्रत्येक के बीच शब्द में उतने ही अक्षर हैं जितने की उनके बीच अंग्रेजी वर्णमाला में होते हैं?  
**hi**

01. कोई नहीं  
02. एक  
03. दो  
04. तीन  
05. तीन से अधिक

### Solution for Question 1

eng OXFORD DICTIONARY

hi OXFORD DICTIONARY

**Q-2** How many such digits are there in the number ‘**768995231220**’ each of which is as far away from the beginning of the number as when the digits are arranged in ascending order within the number from right end?

01. None  
03. Two  
05. More than three
02. One  
04. Three

**Q-2** संख्या '768995231220' में ऐसे कितने अंक हैं जिनमें से प्रत्येक संख्या के प्रारम्भ से उतनी ही दूरी पर है, जितने कि वह संख्या के अंदर दायाँ छोर से अंको को आरोही क्रम में व्यवस्थित करने पर होते हैं?

01. कोई नहीं  
02. एक  
03. दो  
04. तीन  
05. तीन से अधिक

### Solution for Question 2

eng 7 6 8 9 9 5 2 3 1 2 2 0  
9 9 8 7 6 5 3 2 2 2 1 0

hi

7	6	8	9	9	5	2	3	1	2	2	0
9	9	8	7	6	5	3	2	2	2	1	0

**Passage for Question 3, 4, 13, 14, 15 (ST-2054RRBPOMAINS(34-38R)2019)**

## eng Passage

**Study the given information carefully and answer the following questions.**

When a word and number arrangement machine is given an input line of words and numbers, it arranges them following a particular rule. The following is an illustration of input and its rearrangement.

**Input:** acon robi zoya 23 48 hdu 34 iuew 87 ffu 39 hnfu 3

**Step I:** 87 acon robi 23 48 hdu 34 iuew ffu 39 hnfu 32 zoya

**Step II:** acon 87 robi 48 hdu 34 iuew ffu 39 hnfu 32 zoya 23

**Step III:** 48 acon 87 hdu 34 iuew ffu 39 hnfu 32 zoya 23 robi

**Step IV:** iuew 48 acon 87 hdu 34 ffu 39 hnfu zoya 23 robi 32

**Step V:** 39 iuew 48 acon 87 hdu 34 ffu zoya 23 robi 32 hnfu

**Step VI:** ffu 39 iuew 48 acon 87 hdu zoya 23 robi 32 hnfu 34

**Step VII:** ffu 39 iuew 48 acon 87 zoya 23 robi 32 hnfu 34 hdu

Step VII is the last step of the above arrangement, now answer the questions on this basis.

**Input: 34 hgb ked 85 hhh 84 juf 23 fjjf 32 djf 20 43**

## hi Passage

दी गयी जानकारी का ध्यानपूर्वक अध्ययन करें और निम्नलिखित प्रश्नों के उत्तर दें।

एक शब्द और संख्या व्यवस्था मशीन को जब शब्दों और संख्याओं का एक इनपुट दिया जाता है, तो वह प्रत्येक चरण में एक निश्चित नियम का अनुसरण करते हुए उन्हें व्यवस्थित करती है। निम्नलिखित इनपुट और पुनर्व्यवस्था का एक उदहारण है।  
**इनपुट:** acon robi zoya 23 48 hdu 34 iuew 87 ffu 39 hnfu 32  
**चरण I:** 87 acon robi 23 48 hdu 34 iuew ffu 39 hnfu 32 zoya  
**चरण II:** acon 87 robi 48 hdu 34 iuew ffu 39 hnfu 32 zoya 23  
**चरण III:** 48 acon 87 hdu 34 iuew ffu 39 hnfu 32 zoya 23 robi  
**चरण IV:** iuew 48 acon 87 hdu 34 ffu 39 hnfu zoya 23 robi 32  
**चरण V:** 39 iuew 48 acon 87 hdu 34 ffu zoya 23 robi 32 hnfu  
**चरण VI:** ffu 39 iuew 48 acon 87 hdu zoya 23 robi 32 hnfu 34  
**चरण VII:** ffu 39 iuew 48 acon 87 zoya 23 robi 32 hnfu 34 hdu  
चरण VI उपरोक्त व्यवस्था का अंतिम चरण है अब इसी आधार पर दिए गए प्रश्नों के उत्तर दीजिये।

**इनपुट:** 34 hgb ked 85 hhh 84 juf 23 fijfj 32 djk 20 43

**Q-3** How many digits are there in between 43 and 23 in the step 4?  
**eng**

- 01.** 1
- 02.** 2
- 03.** 3
- 04.** None
- 05.** None of these

**Q-3** चरण 4 में 43 और 23 के बीच में कितनी संख्या है ?  
**hi**

- 01.** 1
- 02.** 2
- 03.** 3
- 04.** कोई नहीं
- 05.** इनमे से कोई नहीं

**Solution for Question 3**

**eng** **INPUT-** 34 hgb ked 85 hhh 84 juf 23 fijfj 32 djk 20 43  
**STEP 1-** 85 34 hgb hhh 84 juf 23 fijfj 32 djk 20 43 ked  
**STEP 2-** djk 85 34 hgb hhh 84 juf 23 fijfj 32 43 ked 20  
**STEP 3-** 84 djk 85 34 hgb hhh 23 fijfj 32 43 ked 20 juf  
**STEP 4-** fijfj 84 djk 85 34 hgb hhh 32 43 ked 20 juf 23  
**STEP 5-** 43 fijfj 84 djk 85 34 hgb 32 ked 20 juf 23 hhh  
**STEP 6-** hgb 43 fijfj 84 djk 85 34 ked 20 juf 23 hhh 32  
**STEP 7-** 34 hgb 43 fijfj 84 djk 85 ked 20 juf 23 hhh 32

**hi** इनपुट- 34 hgb ked 85 hhh 84 juf 23 fijfj 32 djk 20 43  
चरण **1-** 85 34 hgb hhh 84 juf 23 fijfj 32 djk 20 43 ked  
चरण **2-** djk 85 34 hgb hhh 84 juf 23 fijfj 32 43 ked 20  
चरण **3-** 84 djk 85 34 hgb hhh 23 fijfj 32 43 ked 20 juf  
चरण **4-** fijfj 84 djk 85 34 hgb hhh 32 43 ked 20 juf 23  
चरण **5-** 43 fijfj 84 djk 85 34 hgb 32 ked 20 juf 23 hhh  
चरण **6-** hgb 43 fijfj 84 djk 85 34 ked 20 juf 23 hhh 32  
चरण **7-** 34 hgb 43 fijfj 84 djk 85 ked 20 juf 23 hhh 32

**Q-4** In the second last step, what is the position of 43 from left side?  
**eng**

- 01.** Second
- 02.** Third
- 03.** Fourth
- 04.** Eighth
- 05.** None of these

**Q-4** दूसरे से अंतिम चरण में, बाएं ओर से 43 की स्थिति क्या है?  
**hi**

- 01.** दूसरी
- 02.** तीसरी
- 03.** चौथी
- 04.** आठवीं
- 05.** इनमे से कोई नहीं

**Solution for Question 4**

**eng** **INPUT-** 34 hgb ked 85 hhh 84 juf 23 fijfj 32 djk 20 43  
**STEP 1-** 85 34 hgb hhh 84 juf 23 fijfj 32 djk 20 43 ked  
**STEP 2-** djk 85 34 hgb hhh 84 juf 23 fijfj 32 43 ked 20  
**STEP 3-** 84 djk 85 34 hgb hhh 23 fijfj 32 43 ked 20 juf  
**STEP 4-** fijfj 84 djk 85 34 hgb hhh 32 43 ked 20 juf 23  
**STEP 5-** 43 fijfj 84 djk 85 34 hgb 32 ked 20 juf 23 hhh  
**STEP 6-** hgb 43 fijfj 84 djk 85 34 ked 20 juf 23 hhh 32  
**STEP 7-** 34 hgb 43 fijfj 84 djk 85 ked 20 juf 23 hhh 32

**hi** इनपुट- 34 hgb ked 85 hhh 84 juf 23 fijfj 32 djk 20 43

चरण 1- 85 34 hgb hhh 84 juf 23 fijfj 32 djc 20 43 ked  
चरण 2- djc 85 34 hgb hhh 84 juf 23 fijfj 32 43 ked 20  
चरण 3- 84 djc 85 34 hgb hhh 23 fijfj 32 43 ked 20 juf  
चरण 4- fijfj 84 djc 85 34 hgb hhh 32 43 ked 20 juf 23  
चरण 5- 43 fijfj 84 djc 85 34 hgb 32 ked 20 juf 23 hhh  
चरण 6- hgb 43 fijfj 84 djc 85 34 ked 20 juf 23 hhh 32  
चरण 7- 34 hgb 43 fijfj 84 djc 85 ked 20 juf 23 hhh 32

## Passage for Question 5, 6, 7, 8 (ST-2054RRBPOMAINS(30-33R)2019)

eng Passage

Study the given information carefully and answer the given questions.

In a certain code,

‘GOOD FOR LIFE’ is written as ‘N9 H22 N23’,

‘STARTING OF BUSINESS’ is written as ‘T8 S20 E21’, and

‘DOING GREAT DEAL’ is written as ‘D15 Q7 N20’. Then...

hi Passage

दिए गए प्रश्नों के उत्तर देने के लिए निम्नलिखित जानकारी को ध्यान-पूर्वक पढ़ें।

एक कोड भाषा में,

‘GOOD FOR LIFE’ को ‘N9 H22 N23’,

‘STARTING OF BUSINESS’ को ‘T8 S20 E21’, और

‘DOING GREAT DEAL’ को ‘D15 Q7 N20’ लिखा जाता है तो .....

**Q-5** What is the code for ‘CNFERENE’?

eng

01. E20

02. M22

03. T26

04. O23

05. N21

**Q-5** ‘CNFERENE’ का क्या कोड होगा?

hi

01. E20

02. M22

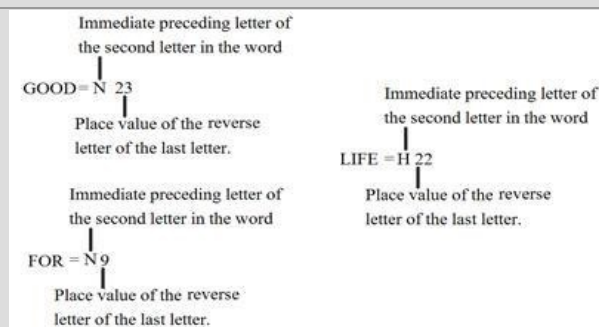
03. T26

04. O23

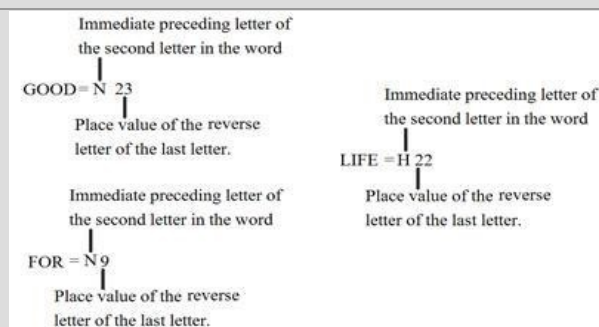
05. N21

## Solution for Question 5

eng



hi



**Q-6** What is the code for ‘SHARING’?

eng

01. B20

02. G20

03. H20

05. W20
01. B20

03. H20

05. W20
04. J20

02. G20

04. J20

Solution for Question 6

eng	<div><div>Immediate preceding letter of the second letter in the word</div><div>GOOD= N 23</div><div>Place value of the reverse letter of the last letter.</div><div>Immediate preceding letter of the second letter in the word</div><div>FOR = N 9</div><div>Place value of the reverse letter of the last letter.</div></div> <div><div>Immediate preceding letter of the second letter in the word</div><div>LIFE = H 22</div><div>Place value of the reverse letter of the last letter.</div></div>
hi	<div><div>Immediate preceding letter of the second letter in the word</div><div>GOOD= N 23</div><div>Place value of the reverse letter of the last letter.</div><div>Immediate preceding letter of the second letter in the word</div><div>FOR = N 9</div><div>Place value of the reverse letter of the last letter.</div></div> <div><div>Immediate preceding letter of the second letter in the word</div><div>LIFE = H 22</div><div>Place value of the reverse letter of the last letter.</div></div>

Q-7

- eng

What is the code for ‘TIRADEK’?

01. A12

03. H16

05. N21

02. G21

04. O19
- hi

‘TIRADEK’ का क्या कोड होगा?

01. A12

03. H16

05. N21

02. G21

04. O19

Solution for Question 7

eng	<div><div>Immediate preceding letter of the second letter in the word</div><div>GOOD= N 23</div><div>Place value of the reverse letter of the last letter.</div><div>Immediate preceding letter of the second letter in the word</div><div>FOR = N 9</div><div>Place value of the reverse letter of the last letter.</div></div> <div><div>Immediate preceding letter of the second letter in the word</div><div>LIFE = H 22</div><div>Place value of the reverse letter of the last letter.</div></div>
hi	<div><div>Immediate preceding letter of the second letter in the word</div><div>GOOD= N 23</div><div>Place value of the reverse letter of the last letter.</div><div>Immediate preceding letter of the second letter in the word</div><div>FOR = N 9</div><div>Place value of the reverse letter of the last letter.</div></div> <div><div>Immediate preceding letter of the second letter in the word</div><div>LIFE = H 22</div><div>Place value of the reverse letter of the last letter.</div></div>

Q-8

- eng

What is the code for ‘TRAINING’?

01. Q20

02. R23

03. O5

04. D24

05. S19

Q-8 'TRAINING' का क्या कोड होगा?

hi

01. Q20

02. R23

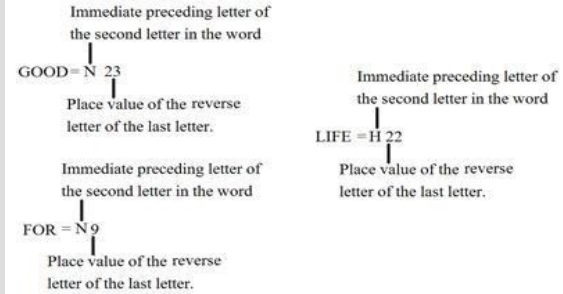
03. O5

04. D24

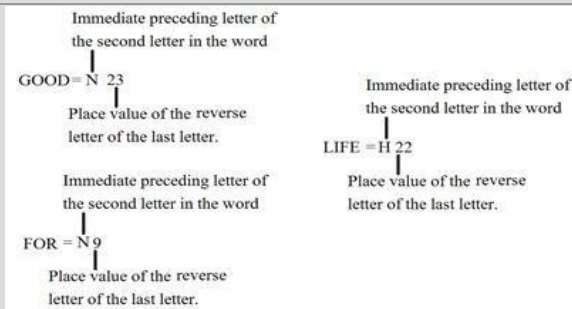
05. S19

## Solution for Question 8

eng



hi



## Passage for Question 9, 16, 17, 18 (ST-2054RRBPOMAINS(26-29R)2019)

eng Passage

Study the following information carefully and answer the questions given below.

'A @ B' means 'Some B are A'.

'A # B' means 'Some B are not A'.

'A \$ B' means 'All B are A'.

'A % B' means 'No B is A'.

'A & B' means 'Some A are not B'.

'A \* B' means 'All A are B'.

hi Passage

निम्नलिखित जानकारी का ध्यानपूर्वक अध्ययन करें और नीचे दिए गए प्रश्नों के उत्तर दीजिये।

'A @ B' का अर्थ है 'कुछ B, A है'।

'A # B' का अर्थ है 'कुछ B, A नहीं है'।

'A \$ B' का अर्थ है 'सभी B, A है'।

'A % B' का अर्थ है 'कोई B, A नहीं है'।

'A & B' का अर्थ है 'कुछ A, B नहीं है'।

'A \* B' का अर्थ है 'सभी A, B है'।

Q-9 Which of the following conclusion is Definitely False?

eng

Statement :

G @ U # L \$ S % H @ A @ N.

Conclusions :

01. N & A

02. H \$ S

03. L % U

04. N & H

05. H & U

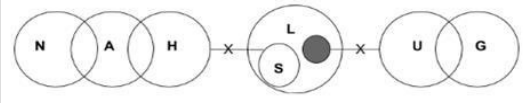
Q-9 निम्नलिखित निष्कर्षों में से कौन सा निष्कर्ष पूर्णतया असत्य है?

hi कथन :  
 G @ U # L \$ S % H @ A @ N.  
 निष्कर्ष :

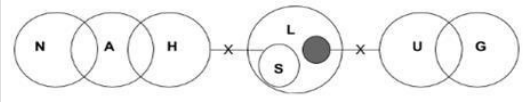
01. N & A  
03. L % U  
05. H & U
02. H \$ S  
04. N & H

Solution for Question 9

eng



hi



Passage for Question 10, 12, 28, 29, 30 (ST-2054RRBPOMAINS(11-15R)2019)

eng Passage

Study the following information carefully and answer the questions given below.

Twelve people are sitting in two parallel rows containing six people in such a way that there is an equal distance between adjacent persons. In row I- A, B, Z, D, E and M are seated and all of them are facing south. In row II- P, K, R, S, T and G are seated and all of them are facing north. Therefore, in the given seating arrangement each member seated in a row faces the member of the other row.

Immediate neighbours of D have the same gender but opposite with respect to D.

The person who is sitting in front of each other is married couples.

P and B are married couples and is sitting one of the extreme ends of the line.

G sits third to the right of S who is facing the person who is an immediate right of T's wife.

D sits fourth to the right of Z who is the husband of R.

K is the husband of E and the immediate neighbours of K are not females.

M is sitting to the left of B and is not the spouse of T.

hi Passage

निम्नलिखित जानकारी का ध्यानपूर्वक अध्ययन करें और नीचे दिए गए प्रश्नों के उत्तर दीजिये।

बारह व्यक्ति दो समान्तर रेखाओं में प्रत्येक पर छः व्यक्ति इस प्रकार से बैठे हैं कि सन्निकट व्यक्तियों के बीच की दूरी समान हैं। पंक्ति-I में A, B, Z, D, E और M बैठे हैं और वें सभी दक्षिण की ओर देख रहे हैं। पंक्ति-II में P, K, R, S, T और G बैठे हैं और वे सभी उत्तर की ओर देख रहे हैं। इसलिए, दी गयी बैठक व्यवस्था में एक पंक्ति का प्रत्येक सदस्य दूसरी पंक्ति के अन्य सदस्यों के सम्मुख है।

D के तुरंत पड़ोसीयों का जेंडर समान है लेकिन D के संबंध में विपरीत है। एक दूसरे के सामने बैठने वाले व्यक्ति विवाहित हैं।

P और B विवाहित जोड़े हैं और पंक्ति के किसी एक अंतिम छोर पर बैठे हैं।

G, S के दायें तीसरा बैठा है जो T की पत्नी के तुरंत दायें बैठे व्यक्ति की ओर देख रहा है।

D, Z के दायें चौथा बैठा है, जो R का पति है।

K, E का पति है और K के तुरंत पड़ोसी महिलाएं नहीं हैं।

M, B के बाएं बैठा है और T का/की पति/पत्नी नहीं है।

Q-10 Who amongst the following represents the females facing north?

eng

01. G, P  
03. S, R  
05. A, G
02. S, P  
04. A, Z

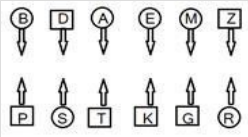
Q-10 निम्नलिखित में से कौन-सा उन महिलाओं को दर्शाता है जो उत्तर में देख रही है?

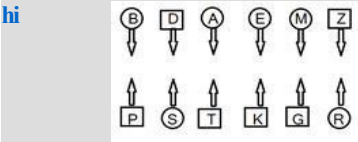
hi

01. G, P  
03. S, R  
05. A, G
02. S, P  
04. A, Z

Solution for Question 10

eng





**Passage for Question 11, 24, 25, 26, 27 (ST-2054RRBPOMAINS(16-20R)2019)**  
eng Passage

**Study the following information carefully and answer the questions given below.**

Nine person Z, B, X, D, V, F, T, H and Q lives in a building but not necessarily in the same order. There are nine floors in that building and only one person live on each floor. There are four colours Green, Blue, White and Black, each colour liked by two person and one colour liked by three person, but not necessarily in the same order. The ground floor is numbered one and above the floor is numbered two and so on till the topmost floor numbered nine. H likes Green colour and lives on even numbered floor. Z lives on even floor that is below from floor in which H lives. Only one person lives between Z and the person who likes Black colour. The one who likes White colour lives on the second floor. V likes Blue only with one other person who lives immediately above to V. The person lives on the top floor and the third floor from the top likes the same colour. D lives on the immediate above from floor that Q lives floor who likes Green colour. There is one floor between those floors in which F and T live. Both F and T like the same colour. D does not like White colour. X lives immediately above to the one who likes Black. Q does not live on floor 5.

hi Passage

**निम्नलिखित जानकारी का ध्यानपूर्वक अध्ययन करें और नीचे दिए गए प्रश्नों के उत्तर दीजिये।**

नौ व्यक्ति Z, B, X, D, V, F, T, H और Q एक इमारत में रहते हैं, लेकिन जरूरी नहीं कि इसी क्रम में हो। इमारत में नौ मंजिलें हैं और एक मंजिल पर केवल एक व्यक्ति रहता है। चार रंग हरा, नीला, सफ़ेद और काला हैं, प्रत्येक रंग दो व्यक्ति पसंद करते हैं और एक रंग तीन व्यक्ति पसंद करते हैं, लेकिन जरूरी नहीं कि इसी क्रम में हो। भूतल की संख्या '1' है उसके ऊपर की मंजिल की संख्या '2' है और इसी तरह आगे भी यथा सबसे ऊपरी मंजिल की संख्या '9' है। H को हरा रंग पसंद है और वह सम संख्या तल पर रहता है। Z एक सम संख्या तल पर H के तल से नीचे रहता है। Z और काला रंग पसंद करने वाले व्यक्ति के बीच में केवल एक व्यक्ति रहता है। जिस व्यक्ति को सफ़ेद रंग पसंद है वह दूसरे तल पर रहता है। V केवल एक अन्य व्यक्ति के साथ नीला रंग पसंद करता है जो V के तुरंत ऊपर वाले तल पर रहता है। जो व्यक्ति सबसे ऊपर के तल पर रहता है और जो व्यक्ति ऊपर से तीसरे तल पर रहता है एक ही रंग पसंद करते हैं। D, Q के तल से तुरंत ऊपर वाले तल पर रहता है जो हरा रंग पसंद करता है। F और T के तल के बीच में केवल एक तल है। F और T दोनों एक ही रंग पसंद करते हैं। D सफ़ेद रंग पसंद नहीं करता है। X, काला रंग पसंद करने वाले व्यक्ति के तुरंत ऊपर रहता है। Q तल 5 पर नहीं रहता है।

**Q-11** How many floors between the floors on which Q and X live?  
eng

01. One

02. Two

03. None

04. Three

05. More than three

**Q-11** Q और X जिस मंजिल पर रहते हैं, उसके बीच कितनी मंजिलें हैं?  
hi

01. एक

02. दो

03. कोई नहीं

04. तीन

05. तीन से अधिक

**Solution for Question 11**

eng	9	F/T	White
	8	H	Green
	7	F/T	White
	6	Z	Blue
	5	V	Blue
	4	D	Black
	3	Q	Green
	2	X	White
	1	B	Black
hi	9	F/T	सफ़ेद
	8	H	हरा
	7	F/T	सफ़ेद
	6	Z	नीला
	5	V	नीला
	4	D	काला
	3	Q	हरा
	2	X	सफ़ेद
	1	B	काला

**Passage for Question 10, 12, 28, 29, 30 (ST-2054RRBPOMAINS(11-15R)2019)**  
eng Passage

**Study the following information carefully and answer the questions given below.**



Twelve people are sitting in two parallel rows containing six people in such a way that there is an equal distance between adjacent persons. In row I- A, B, Z, D, E and M are seated and all of them are facing south. In row II- P, K, R, S, T and G are seated and all of them are facing north. Therefore, in the given seating arrangement each member seated in a row faces the member of the other row.

Immediate neighbours of D have the same gender but opposite with respect to D.

The person who is sitting in front of each other is married couples.

P and B are married couples and is sitting one of the extreme ends of the line.

G sits third to the right of S who is facing the person who is an immediate right of T’s wife.

D sits fourth to the right of Z who is the husband of R.

K is the husband of E and the immediate neighbours of K are not females.

M is sitting to the left of B and is not the spouse of T.

hi Passage

निम्नलिखित जानकारी का ध्यानपूर्वक अध्ययन करें और नीचे दिए गए प्रश्नों के उत्तर दीजिये।

बारह व्यक्ति दो समान्तर रेखाओं में प्रत्येक पर छः व्यक्ति इस प्रकार से बैठे हैं कि सन्निकट व्यक्तियों के बीच की दूरी समान हैं। पंक्ति-1 में A, B, Z, D, E और M बैठे हैं और वें सभी दक्षिण की ओर देख रहे हैं। पंक्ति-II में P, K, R, S, T और G बैठे हैं और वे सभी उत्तर की ओर देख रहे हैं। इसलिए, दी गयी बैठक व्यवस्था में एक पंक्ति का प्रत्येक सदस्य दूसरी पंक्ति के अन्य सदस्यों के सम्मुख है।

D के तुरंत पड़ोसीयों का जेंडर समान है लेकिन D के संबंध में विपरीत है।

एक दूसरे के सामने बैठने वाले व्यक्ति विवाहित हैं।

P और B विवाहित जोड़े हैं और पंक्ति के किसी एक अंतिम छोर पर बैठे हैं।

G, S के दायें तीसरा बैठा है जो T की पत्नी के तुरंत दायें बैठे व्यक्ति की ओर देख रहा है।

D, Z के दायें चौथा बैठा है, जो R का पति है।

K, E का पति है और K के तुरंत पड़ोसी महिलाएं नहीं हैं।

M, B के बाएं बैठा है और T का/की पति/पत्नी नहीं है।

Q-12 Four of the following five are alike in a certain way and so form a group, which one does not belong to that group?

eng

01.

G-M
02.

A-T
03.

E-K
04.

D-R
05.

P-B

Q-12 निम्नलिखित पांच में से चार एक निश्चित तरीके से समान हैं और इसलिए एक समूह बनाते हैं, जो उस समूह से संबंधित नहीं है?

hi

01.

G-M
02.

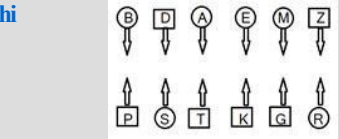
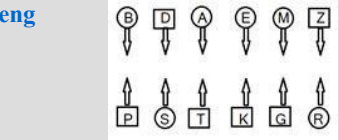
A-T
03.

E-K
04.

D-R
05.

P-B

Solution for Question 12



Passage for Question 3, 4, 13, 14, 15 (ST-2054RRBPOMAINS(34-38R)2019)

eng Passage

Study the given information carefully and answer the following questions.

When a word and number arrangement machine is given an input line of words and numbers, it arranges them following a particular rule. The following is an illustration of input and its rearrangement.

**Input:** acon robi zoya 23 48 hdu 34 iuew 87 ffu 39 hnfu 3

**Step I:** 87 acon robi 23 48 hdu 34 iuew ffu 39 hnfu 32 zoya

**Step II:** acon 87 robi 48 hdu 34 iuew ffu 39 hnfu 32 zoya 23

**Step III:** 48 acon 87 hdu 34 iuew ffu 39 hnfu 32 zoya 23 robi

**Step IV:** iuew 48 acon 87 hdu 34 ffu 39 hnfu zoya 23 robi 32

**Step V:** 39 iuew 48 acon 87 hdu 34 ffu zoya 23 robi 32 hnfu

**Step VI:** ffu 39 iuew 48 acon 87 hdu zoya 23 robi 32 hnfu 34

**Step VII:** ffu 39 iuew 48 acon 87 zoya 23 robi 32 hnfu 34 hdu

Step VII is the last step of the above arrangement, now answer the questions on this basis.

**Input:** 34 hgb ked 85 hhh 84 juf 23 fijfj 32 djf 20 43



दी गयी जानकारी का ध्यानपूर्वक अध्ययन करें और निम्नलिखित प्रश्नों के उत्तर दें।

एक शब्द और संख्या व्यवस्था मशीन को जब शब्दों और संख्याओं का एक इनपुट दिया जाता है, तो वह प्रत्येक चरण में एक निश्चित नियम का अनुसरण करते हुए उन्हें व्यवस्थित करती है। निम्नलिखित इनपुट और पुनर्व्यवस्था का एक उद्धारण है।  
**इनपुट:** acon robi zoya 23 48 hdu 34 iuew 87 ffu 39 hnfu 32  
**चरण I:** 87 acon robi 23 48 hdu 34 iuew ffu 39 hnfu 32 zoya  
**चरण II:** acon 87 robi 48 hdu 34 iuew ffu 39 hnfu 32 zoya 23  
**चरण III:** 48 acon 87 hdu 34 iuew ffu 39 hnfu 32 zoya 23 robi  
**चरण IV:** iuew 48 acon 87 hdu 34 ffu 39 hnfu zoya 23 robi 32  
**चरण V:** 39 iuew 48 acon 87 hdu 34 ffu zoya 23 robi 32 hnfu  
**चरण VI:** ffu 39 iuew 48 acon 87 hdu zoya 23 robi 32 hnfu 34  
**चरण VII:** ffu 39 iuew 48 acon 87 zoya 23 robi 32 hnfu 34 hdu  
चरण VI उपरोक्त व्यवस्था का अंतिम चरण है अब इसी आधार पर दिए गए प्रश्नों के उत्तर दीजिये।

**इनपुट:** 34 hgb ked 85 hhh 84 juf 23 fijfj 32 djk 20 43

**Q-13** How many elements are there to the right of 32 in the fourth last step?  
**eng**

01.

4
02.

5
03.

2
04.

3
05.

None of these

**Q-13** चौथे से अंतिम चरण में, 32 के दायें ओर कितने तत्व हैं?  
**hi**

01.

4
02.

5
03.

2
04.

3
05.

इनमे से कोई नहीं

Solution for Question 13

**eng** **INPUT-** 34 hgb ked 85 hhh 84 juf 23 fijfj 32 djk 20 43  
**STEP 1-** 85 34 hgb hhh 84 juf 23 fijfj 32 djk 20 43 ked  
**STEP 2-** djk 85 34 hgb hhh 84 juf 23 fijfj 32 43 ked 20  
**STEP 3-** 84 djk 85 34 hgb hhh 23 fijfj 32 43 ked 20 juf  
**STEP 4-** fijfj 84 djk 85 34 hgb hhh 32 43 ked 20 juf 23  
**STEP 5-** 43 fijfj 84 djk 85 34 hgb 32 ked 20 juf 23 hhh  
**STEP 6-** hgb 43 fijfj 84 djk 85 34 ked 20 juf 23 hhh 32  
**STEP 7-** 34 hgb 43 fijfj 84 djk 85 ked 20 juf 23 hhh 32

**hi** इनपुट- 34 hgb ked 85 hhh 84 juf 23 fijfj 32 djk 20 43  
चरण 1- 85 34 hgb hhh 84 juf 23 fijfj 32 djk 20 43 ked  
चरण 2- djk 85 34 hgb hhh 84 juf 23 fijfj 32 43 ked 20  
चरण 3- 84 djk 85 34 hgb hhh 23 fijfj 32 43 ked 20 juf  
चरण 4- fijfj 84 djk 85 34 hgb hhh 32 43 ked 20 juf 23  
चरण 5- 43 fijfj 84 djk 85 34 hgb 32 ked 20 juf 23 hhh  
चरण 6- hgb 43 fijfj 84 djk 85 34 ked 20 juf 23 hhh 32  
चरण 7- 34 hgb 43 fijfj 84 djk 85 ked 20 juf 23 hhh 32

**Q-14** What is the position of 43 in respect of hhh in step 3?  
**eng**

01.

Immediate left
02.

Second to the left
03.

Second to the right
04.

Immediate right
05.

None of these

**Q-14** चरण 3 में hh के संबंध में 43 की स्थिति क्या है?  
**hi**

01.

तुरंत बायें
02.

बायें से दूसरा
03.

दायें से दूसरा
04.

तुरंत दायें
05.

इनमे से कोई नहीं

Solution for Question 14

**eng** **INPUT-** 34 hgb ked 85 hhh 84 juf 23 fijfj 32 djk 20 43  
**STEP 1-** 85 34 hgb hhh 84 juf 23 fijfj 32 djk 20 43 ked  
**STEP 2-** djk 85 34 hgb hhh 84 juf 23 fijfj 32 43 ked 20  
**STEP 3-** 84 djk 85 34 hgb hhh 23 fijfj 32 43 ked 20 juf

	<b>STEP 4-</b> fijfj 84 djk 85 34 hgb hhh 32 43 ked 20 juf 23 <b>STEP 5-</b> 43 fijfj 84 djk 85 34 hgb 32 ked 20 juf 23 hhh <b>STEP 6-</b> hgb 43 fijfj 84 djk 85 34 ked 20 juf 23 hhh 32 <b>STEP 7-</b> 34 hgb 43 fijfj 84 djk 85 ked 20 juf 23 hhh 32
hi	इनपुट- 34 hgb ked 85 hhh 84 juf 23 fijfj 32 djk 20 43 चरण <b>1-</b> 85 34 hgb hhh 84 juf 23 fijfj 32 djk 20 43 ked चरण <b>2-</b> djk 85 34 hgb hhh 84 juf 23 fijfj 32 43 ked 20 चरण <b>3-</b> 84 djk 85 34 hgb hhh 23 fijfj 32 43 ked 20 juf चरण <b>4-</b> fijfj 84 djk 85 34 hgb hhh 32 43 ked 20 juf 23 चरण <b>5-</b> 43 fijfj 84 djk 85 34 hgb 32 ked 20 juf 23 hhh चरण <b>6-</b> hgb 43 fijfj 84 djk 85 34 ked 20 juf 23 hhh 32 चरण <b>7-</b> 34 hgb 43 fijfj 84 djk 85 ked 20 juf 23 hhh 32

**Q-15** How many total steps are required for the given input?  
**eng**

- 01.** 6
- 02.** 5
- 03.** 7
- 04.** 8
- 05.** None of these

**Q-15** दिए गए इनपुट के लिए कुल कितने चरणों की आवश्यकता है?  
**hi**

- 01.** 6
- 02.** 5
- 03.** 7
- 04.** 8
- 05.** इनमे से कोई नहीं

**Solution for Question 15**

**eng** **INPUT-** 34 hgb ked 85 hhh 84 juf 23 fijfj 32 djk 20 43  
**STEP 1-** 85 34 hgb hhh 84 juf 23 fijfj 32 djk 20 43 ked  
**STEP 2-** djk 85 34 hgb hhh 84 juf 23 fijfj 32 43 ked 20  
**STEP 3-** 84 djk 85 34 hgb hhh 23 fijfj 32 43 ked 20 juf  
**STEP 4-** fijfj 84 djk 85 34 hgb hhh 32 43 ked 20 juf 23  
**STEP 5-** 43 fijfj 84 djk 85 34 hgb 32 ked 20 juf 23 hhh  
**STEP 6-** hgb 43 fijfj 84 djk 85 34 ked 20 juf 23 hhh 32  
**STEP 7-** 34 hgb 43 fijfj 84 djk 85 ked 20 juf 23 hhh 32

**hi** इनपुट- 34 hgb ked 85 hhh 84 juf 23 fijfj 32 djk 20 43  
चरण **1-** 85 34 hgb hhh 84 juf 23 fijfj 32 djk 20 43 ked  
चरण **2-** djk 85 34 hgb hhh 84 juf 23 fijfj 32 43 ked 20  
चरण **3-** 84 djk 85 34 hgb hhh 23 fijfj 32 43 ked 20 juf  
चरण **4-** fijfj 84 djk 85 34 hgb hhh 32 43 ked 20 juf 23  
चरण **5-** 43 fijfj 84 djk 85 34 hgb 32 ked 20 juf 23 hhh  
चरण **6-** hgb 43 fijfj 84 djk 85 34 ked 20 juf 23 hhh 32  
चरण **7-** 34 hgb 43 fijfj 84 djk 85 ked 20 juf 23 hhh 32

**Passage for Question 9, 16, 17, 18 (ST-2054RRBPOMAINS(26-29R)2019)**

**eng** Passage

**Study the following information carefully and answer the questions given below.**

- ‘A @ B’ means ‘Some B are A’.  
‘A # B’ means ‘Some B are not A’.  
‘A \$ B’ means ‘All B are A’.  
‘A % B’ means ‘No B is A’.  
‘A & B’ means ‘Some A are not B’.  
‘A \* B’ means ‘All A are B’.

**hi** Passage

**निम्नलिखित जानकारी का ध्यानपूर्वक अध्ययन करें और नीचे दिए गए प्रश्नों के उत्तर दीजिये।**

- ‘A @ B’ का अर्थ है ‘कुछ B, A है’।  
‘A # B’ का अर्थ है ‘कुछ B, A नहीं है’।  
‘A \$ B’ का अर्थ है ‘सभी B, A है’।  
‘A % B’ का अर्थ है ‘कोई B, A नहीं है’।  
‘A & B’ का अर्थ है ‘कुछ A, B नहीं है’।  
‘A \* B’ का अर्थ है ‘सभी A, B है’।

Q-16 Which of the following conclusion is Definitely True?

eng

Statement :

G @ U # L \$ S % H @ A @ N.

Conclusions :

01. G % N
02. S @ U
03. L & H
04. N & H
05. U & H

Q-16 निम्नलिखित निष्कर्षों में से कौन सा निष्कर्ष पूर्णतया सत्य है?

hi

कथन :

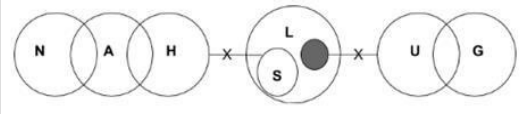
G @ U # L \$ S % H @ A @ N.

निष्कर्ष :

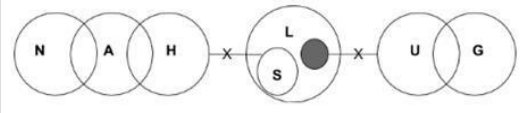
01. G % N
02. S @ U
03. L & H
04. N & H
05. U & H

Solution for Question 16

eng



hi



Q-17 Which of the following conclusion is Definitely True?

eng

Statement :

G @ U # L \$ S % H @ A @ N.

Conclusions :

01. A & L
02. S @ U
03. L # H
04. G \$ H
05. S & H

Q-17 निम्नलिखित निष्कर्षों में से कौन सा निष्कर्ष पूर्णतया सत्य है?

hi

कथन :

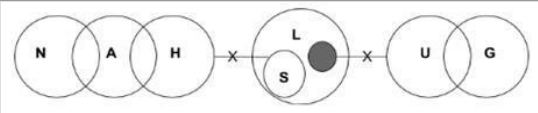
G @ U # L \$ S % H @ A @ N.

निष्कर्ष :

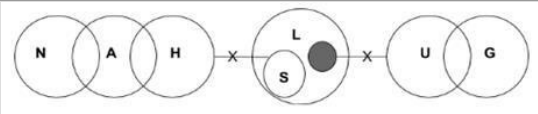
01. A & L
02. S @ U
03. L # H
04. G \$ H
05. S & H

Solution for Question 17

eng



hi



Q-18 Which of the following conclusion is Definitely True?

eng

Statement :

G @ U # L \$ S % H @ A @ N.

Conclusions :

01. U @ S
02. L & A

### 03. L\$G

#### 04. A & S

## 05. N % G

निम्नलिखित निष्कर्षों में से कौन सा निष्कर्ष पूर्णतया सत्य है?

**कथनः**

G@U#L\$S%H@A@N.

**निष्कर्ष :**

**01.** U @ S

## 02. L & A

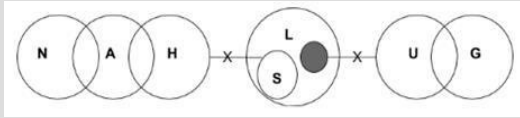
**03. L\$G**

#### 04. A & S

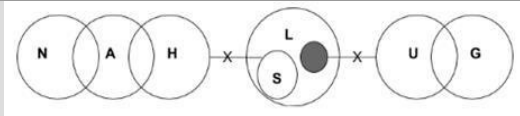
## 05. N % G

### Solution for Question 18

eng



hi

**Passage for Question 19, 20, 21, 22, 23 (ST-2054RRBPOMAINS(21-25R)2019)**

eng Passage

**Study the following information carefully and answer the questions given below.**

There are 5 members of a family G, H, I, J and K standing randomly. H is to the north-east of K. J is 2 m to the east of K, who is 6 m to the west of G. I is to the north-west of J and is exactly in the mid of the line of KH. J is 4 m to the south of H.

hi Passage

निम्नलिखित जानकारी का ध्यानपूर्वक अध्ययन करें और नीचे दिए गए प्रश्नों के उत्तर दीजिये।

एक परिवार के 5 सदस्य G, H, I, J और K हैं जो अनियमित रूप से खड़े हैं। H, K के उत्तर-पूर्व में है। J, K के पूर्व में 2 मीटर की दूरी पर है, जो G के पश्चिम में 6 मीटर की दूरी पर है। I, J के उत्तर-पश्चिम में और KH की रेखा के ठीक मध्य में है। J, H के दक्षिण में 4 मीटर की दूरी पर है।

**Q-19** In which direction is G with respect to H?

eng

## 01. South-east

## 02. South-west

### 03. North-west

#### 04. North-east

**05.** None of these

H के संदर्भ में G किस दिशा में है?

### 01. दक्षिण-पूर्व

## 02. दक्षिण-पश्चिम

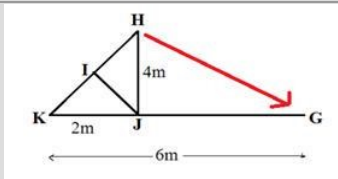
**03. उत्तर-पश्चिम**

#### 04. उत्तर-पर्व

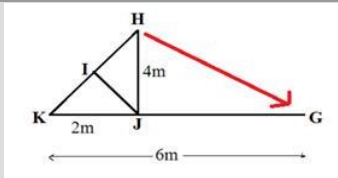
**05.** इनमें से कोई नहीं

### Solution for Question 19

eng



hi



**O-20** What is the shortest distance between H and K?

eng

01.  $2\sqrt{7}$  m  
 02.  $5\sqrt{2}$  m  
 03.  $7\sqrt{2}$  m  
 04.  $2\sqrt{5}$  m  
 05. None of these

**Q-20** H और K बीच के न्यूनतम दूरी क्या है?

hi

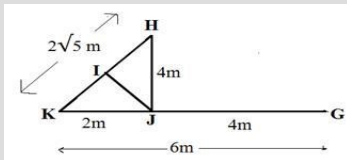
01.  $2\sqrt{7}$  मीटर  
 02.  $5\sqrt{2}$  मीटर  
 03.  $7\sqrt{2}$  मीटर  
 04.  $2\sqrt{5}$  मीटर  
 05. इनमें से कोई नहीं

### Solution for Question 20

eng

Shortest distance between H and K =  $4^2 + 2^2 = 16 + 4$

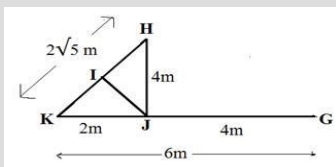
$$= 20 = 2\sqrt{5} \text{ m}$$



hi

H और K बीच के बीच न्यूनतम दूरी =  $4^2 + 2^2 = 16 + 4$

$$= 20 = 2\sqrt{5} \text{ m}$$



**Q-21** What is the shortest distance between H and G?

eng

01.  $5\sqrt{7}$  m  
 02.  $4\sqrt{2}$  m  
 03.  $6\sqrt{2}$  m  
 04.  $3\sqrt{5}$  m  
 05. None of these

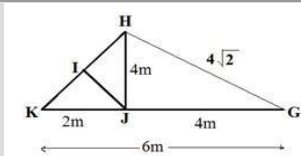
**Q-21** H और G के बीच न्यूनतम दूरी क्या है?

hi

01.  $5\sqrt{7}$  मीटर  
 02.  $4\sqrt{2}$  मीटर  
 03.  $6\sqrt{2}$  मीटर  
 04.  $3\sqrt{5}$  मीटर  
 05. इनमें से कोई नहीं

### Solution for Question 21

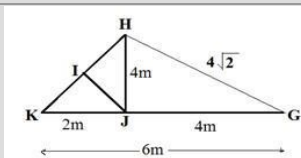
eng



Shortest distance between H and G =  $16 + 16 = 32$

$$= 4\sqrt{2}$$

hi



H और G के बीच न्यूनतम दूरी =  $16 + 16 = 32$

$$= 4\sqrt{2}$$

**Q-22** What is the distance between J and G?

eng

01. 5 m  
 02. 4 m

03. 6 m

04. 3 m

05. None of these

Q-22 J और G के बीच की दूरी क्या है?

hi

01. 5 मीटर

02. 4 मीटर

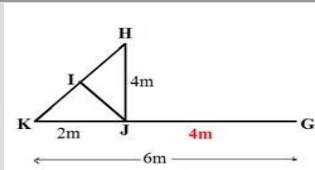
03. 6 मीटर

04. 3 मीटर

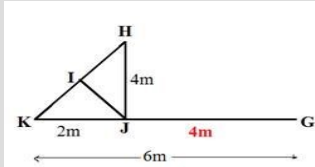
05. इनमें से कोई नहीं

### Solution for Question 22

eng



hi



Q-23 In which direction is I with respect to G?

eng

01. South-west

02. South-east

03. North-east

04. North-west

05. None of these

Q-23 G के संदर्भ में I किस दिशा में है?

hi

01. दक्षिण-पश्चिम

02. दक्षिण-पूर्व

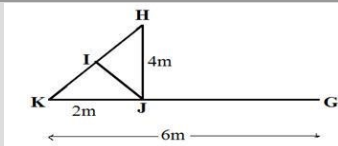
03. उत्तर-पूर्व

04. उत्तर-पश्चिम

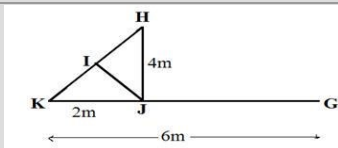
05. इनमें से कोई नहीं

### Solution for Question 23

eng



hi



Passage for Question 11, 24, 25, 26, 27 (ST-2054RRBPOMAINS(16-20R)2019)

eng Passage

Study the following information carefully and answer the questions given below.

Nine person Z, B, X, D, V, F, T, H and Q lives in a building but not necessarily in the same order. There are nine floors in that building and only one person live on each floor. There are four colours Green, Blue, White and Black, each colour liked by two person and one colour liked by three person, but not necessarily in the same order. The ground floor is numbered one and above the floor is numbered two and so on till the topmost floor numbered nine.

H likes Green colour and lives on even numbered floor. Z lives on even floor that is below from floor in which H lives. Only one person lives between Z and the person who likes Black colour. The one who likes White colour lives on the second floor. V likes Blue only with one other person who lives immediately above to V. The person lives on the top floor and the third floor from the top likes the same colour. D lives on the immediate above from floor that Q lives floor who likes Green colour. There is one floor between those floors in which F and T live. Both F and T like the same colour. D does not like White colour. X lives immediately above to the one who likes Black. Q does not live on floor 5.

hi Passage

निम्नलिखित जानकारी का ध्यानपूर्वक अध्ययन करें और नीचे दिए गए प्रश्नों के उत्तर दीजिये।

नौ व्यक्ति Z, B, X, D, V, F, T, H और Q एक इमारत में रहते हैं, लेकिन जरूरी नहीं कि इसी क्रम में हो। इमारत में नौ मंजिलें हैं और एक मंजिल पर केवल एक व्यक्ति रहता है। चार रंग हरा, नीला, सफ़ेद और काला हैं, प्रत्येक रंग दो व्यक्ति पसंद करते हैं और एक रंग तीन व्यक्ति पसंद करते हैं, लेकिन जरूरी नहीं कि इसी क्रम में हो। भूतल की संख्या '1' है उसके ऊपर की मंजिल की संख्या '2' है और इसी तरह आगे भी यथा सबसे ऊपरी मंजिल की संख्या '9' है।

H को हरा रंग पसंद है और वह सम संख्या तल पर रहता है। Z एक सम संख्या तल पर H के तल से नीचे रहता है। Z और काला रंग पसंद करने वाले व्यक्ति के बीच में केवल एक व्यक्ति रहता है। जिस व्यक्ति को सफ़ेद रंग पसंद है वह दूसरे तल पर रहता है। V केवल एक अन्य व्यक्ति के साथ नीला रंग पसंद करता है जो V के तुरंत ऊपर वाले तल पर रहता है। जो व्यक्ति सबसे ऊपर के तल पर रहता है और जो व्यक्ति ऊपर से तीसरे तल पर रहता है एक ही रंग पसंद करते हैं। D, Q के तल से तुरंत ऊपर वाले तल पर रहता है जो हरा रंग पसंद करता है। F और T के तल के बीच में केवल एक तल है। F और T दोनों एक ही रंग पसंद करते हैं। D सफ़ेद रंग पसंद नहीं करता है। X, काला रंग पसंद करने वाले व्यक्ति के तुरंत ऊपर रहता है। Q तल 5 पर नहीं रहता है।

**Q-24** If F lives on prime number floor then who lives on top floor and likes which colour?  
eng

01. B - Black

02. T - White

03. Q - Green

04. Z - White

05. V - Blue

**Q-24** यदि F अभाज्य संख्या तल पर रहता है तो कौन शीर्ष तल पर रहता है और किस रंग को पसंद करता है?  
hi

01. B - काला

02. T - सफेद

03. Q - हरा

04. Z - सफेद

05. V - नीला

Solution for Question 24

eng

9	F/T	White
8	H	Green
7	F/T	White
6	Z	Blue
5	V	Blue
4	D	Black
3	Q	Green
2	X	White
1	B	Black

hi

9	F/T	सफ़ेद
8	H	हरा
7	F/T	सफ़ेद
6	Z	नीला
5	V	नीला
4	D	काला
3	Q	हरा
2	X	सफ़ेद
1	B	काला

**Q-25** Which of the following colour does X like?  
eng

01. Green

02. Blue

03. White

04. Black

05. None of these

**Q-25** निम्न में से कौन सा रंग X द्वारा पसंद किया जाता है?  
hi

01. हरा

02. नीला

03. सफेद

04. काला

05. इनमें से कोई नहीं

Solution for Question 25

eng

9	F/T	White
8	H	Green
7	F/T	White
6	Z	Blue
5	V	Blue
4	D	Black
3	Q	Green
2	X	White
1	B	Black

hi

9	F/T	सफ़ेद
8	H	हरा
7	F/T	सफ़ेद
6	Z	नीला
5	V	नीला
4	D	काला
3	Q	हरा
2	X	सफ़ेद
1	B	काला

**Q-26** Which of the following combination is true?



eng

01.

F - Blue
02.

T - Green
03.

V - Black
04.

X - Black
05.

Z - Blue

Q-26 निम्नलिखित में से कौन सा संयोजन सही है?

hi

01.

F - नीला
02.

T - हरा
03.

V - काला
04.

X - काला
05.

Z - नीला

Solution for Question 26

eng

9	F/T	White
8	H	Green
7	F/T	White
6	Z	Blue
5	V	Blue
4	D	Black
3	Q	Green
2	X	White
1	B	Black

hi

9	F/T	सफ़ेद
8	H	हरा
7	F/T	सफ़ेद
6	Z	नीला
5	V	नीला
4	D	काला
3	Q	हरा
2	X	सफ़ेद
1	B	काला

Q-27 On which of the following floor T lives?

eng

01.

First
02.

Sixth
03.

Fifth
04.

Seventh
05.

None of these

Q-27 T निम्नलिखित में से किस मंजिल पर रहता है?

hi

01.

पहली
02.

छठी
03.

पांचवी
04.

सातवीं
05.

इनमें से कोई नहीं

Solution for Question 27

eng

9	F/T	White
8	H	Green
7	F/T	White
6	Z	Blue
5	V	Blue
4	D	Black
3	Q	Green
2	X	White
1	B	Black

hi

9	F/T	सफ़ेद
8	H	हरा
7	F/T	सफ़ेद
6	Z	नीला
5	V	नीला
4	D	काला
3	Q	हरा
2	X	सफ़ेद
1	B	काला

Passage for Question 10, 12, 28, 29, 30 (ST-2054RRBPOMAINS(11-15R)2019)

eng Passage

Study the following information carefully and answer the questions given below.

Twelve people are sitting in two parallel rows containing six people in such a way that there is an equal distance between adjacent persons. In row I- A, B, Z, D, E and M are seated and all of them are facing south. In row II- P, K, R, S, T and G are seated and all of them are facing north. Therefore, in the given seating arrangement each member seated in a row faces the member of the other row.

Immediate neighbours of D have the same gender but opposite with respect to D.

The person who is sitting in front of each other is married couples.

P and B are married couples and is sitting one of the extreme ends of the line.

G sits third to the right of S who is facing the person who is an immediate right of T's wife.  
D sits fourth to the right of Z who is the husband of R.  
K is the husband of E and the immediate neighbours of K are not females.  
M is sitting to the left of B and is not the spouse of T.

hi Passage

निम्नलिखित जानकारी का ध्यानपूर्वक अध्ययन करें और नीचे दिए गए प्रश्नों के उत्तर दीजिये।

बारह व्यक्ति दो समान्तर रेखाओं में प्रत्येक पर छः व्यक्ति इस प्रकार से बैठे हैं कि सन्निकट व्यक्तियों के बीच की दूरी समान हैं। पंक्ति-I में A, B, Z, D, E और M बैठे हैं और वें सभी दक्षिण की ओर देख रहे हैं। पंक्ति-II में P, K, R, S, T और G बैठे हैं और वे सभी उत्तर की ओर देख रहे हैं। इसलिए, दी गयी बैठक व्यवस्था में एक पंक्ति का प्रत्येक सदस्य दूसरी पंक्ति के अन्य सदस्यों के सम्मुख है।  
D के तुरंत पड़ोसीयों का जेंडर समान है लेकिन D के संबंध में विपरीत है।  
एक दूसरे के सामने बैठने वाले व्यक्ति विवाहित हैं।  
P और B विवाहित जोड़े हैं और पंक्ति के किसी एक अंतिम छोर पर बैठे हैं।  
G, S के दायें तीसरा बैठा है जो T की पत्नी के तुरंत दायें बैठे व्यक्ति की ओर देख रहा है।  
D, Z के दायें चौथा बैठा है, जो R का पति है।  
K, E का पति है और K के तुरंत पड़ोसी महिलाएं नहीं हैं।  
M, B के बाएं बैठा है और T का/की पति/पत्नी नहीं है।

Q-28 Which amongst the following is true regarding A?

eng

01. A is in front of R
02. A and B are the immediate neighbour of each other
03. A is opposite of T
04. A is not the immediate neighbour of E
05. A is the wife of K

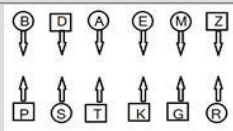
Q-28 निम्न में से A के सन्दर्भ में कौन-सा सत्य है?

hi

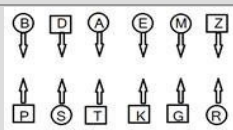
01. A, R के सामने हैं
02. A और B एक-दूसरे के तुरन्त पड़ोसी हैं
03. A, T के विपरीत है
04. A, E का तुरंत पड़ोसी नहीं है
05. A, K की पत्नी है

Solution for Question 28

eng



hi



Q-29 How many persons are seated between R and T?

eng

01. One
02. Two
03. Three
04. Four
05. More than four

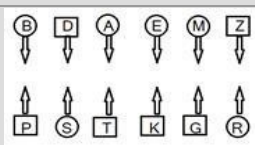
Q-29 R और T के बीच कितने व्यक्ति बैठे हैं?

hi

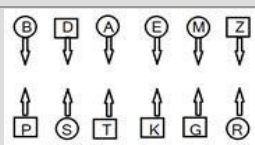
01. एक
02. दो
03. तीन
04. चार
05. चार से अधिक

Solution for Question 29

eng



hi



**Q-30** Who amongst the following sits third to the left of S's husband?  
eng

01. G

03. A

05. M
02. K

04. B

**Q-30** निम्नलिखित में से कौन S के पति के बायें तीसरा बैठा है?  
hi

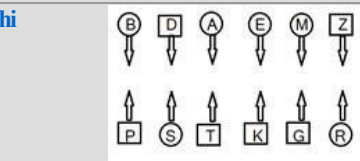
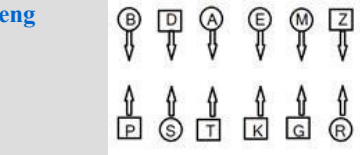
01. G

03. A

05. M
02. K

04. B

Solution for Question 30



**Passage for Question 31, 32, 33, 34, 35** (ST-2054RRBPOMAINS(6-10R)2019)  
eng Passage

Study the following information carefully and answer the questions given below.

Eight students are A, B, C, D, E, F, G and H. Each person has different heights like -165, 173, 175, 180, 183, 185, 187 and 188 (in cm.), but not necessarily in the same order. Each person likes different colour like- Red, Green, Pink, Purple, Yellow, Blue, White and Black, but not necessarily in the same order. G does not like Yellow or Pink. More than three-people is taller than the one who likes Green. D is shorter than A but taller than G whose height is 183 cm. Only the one who likes Red colour is shorter than the one who likes White colour. H likes blue colour. E is taller than H but shorter than C. B's height is less than 180 cm. B is shorter than D but taller than F. The person whose height is 187 cm likes Purple colour. H is not the shortest person. Height of E is 180 cm. The height of A is not 188 cm and is taller than the one who likes Yellow colour.

hi Passage

निम्नलिखित जानकारी का ध्यानपूर्वक अध्ययन करें और नीचे दिए गए प्रश्नों के उत्तर दीजिये।

आठ छात्र A, B, C, D, E, F, G और H हैं। प्रत्येक व्यक्ति की अलग-अलग लंबाई 165, 173, 175, 180, 183, 185, 187 और 188 (सेमी. में) है, लेकिन जरूरी नहीं कि इसी क्रम में हो। प्रत्येक व्यक्ति अलग-अलग रंग लाल, हरा, गुलाबी, बैंगनी, पीला, नीला, सफेद और काला पसंद करता है, लेकिन जरूरी नहीं कि इसी क्रम में हो। G को पीला या गुलाबी रंग पसंद नहीं है। तीन से अधिक व्यक्ति हरा रंग पसंद करने वाले व्यक्ति से लंबे हैं। D, A से छोटा है, लेकिन G से लंबा है, जिसकी ऊंचाई 183 सेमी है। केवल एक जिसे लाल रंग पसंद है वह सफेद रंग पसंद करने वाले से छोटा है। H को नीला रंग पसंद है। E, H से लंबा है, लेकिन C से छोटा है। B की लंबाई 180 सेमी से कम है। B, D से छोटा है, लेकिन F से लंबा है। जिस व्यक्ति की ऊंचाई 187 सेमी है, उसे बैंगनी रंग पसंद है। H सबसे छोटा व्यक्ति नहीं है। E की लंबाई 180 सेमी है। A की लंबाई 188 सेमी नहीं है और वह पीला रंग पसंद करने वाले व्यक्ति से लंबा है।

**Q-31** Who among the following likes White colour?  
eng

01. D

03. C

05. A
02. F

04. B

**Q-31** निम्नलिखित में से किसे सफेद रंग पसंद है?  
hi

01. D

03. C

05. A
02. F

04. B

Solution for Question 31



गुलाबी	बैंगनी	पीला	काला	हरा	नीला	सफेद	लाल
--------	--------	------	------	-----	------	------	-----

**Q-32** How many of them are definitely shorter than the one who likes Green colour?  
**eng**

01. Three

02. Four
03. Five

04. Two
05. None of these

**Q-32** इनमें से कितने हरा रंग पसंद करने वाले व्यक्ति से निश्चित तौर पर छोटे हैं?  
**hi**

01. तीन

02. चार
03. पांच

04. दो
05. इनमें से कोई नहीं

**Solution for Question 32**

<b>eng</b>	188 C Pink	>	187 A Purple	>	185 D Yellow	>	183 G Black	>	180 E Green	>	175 H Blue	>	173 B White	>	165 F Red
<b>hi</b>	188 C गुलाबी	>	187 A बैंगनी	>	185 D पीला	>	183 G काला	>	180 E हरा	>	175 H नीला	>	173 B सफेद	>	165 F लाल

**Q-33** Which of the following person is third from the left?  
**eng**

01. D

02. F
03. G

04. B or G
05. Cannot be determined

**Q-33** निम्नलिखित में से कौन-सा व्यक्ति बाएं से तीसरा है?  
**hi**

01. D

02. F
03. G

04. B या G
05. तय नहीं कर सकते

**Solution for Question 33**

<b>eng</b>	188 C Pink	>	187 A Purple	>	185 D Yellow	>	183 G Black	>	180 E Green	>	175 H Blue	>	173 B White	>	165 F Red
<b>hi</b>	188 C गुलाबी	>	187 A बैंगनी	>	185 D पीला	>	183 G काला	>	180 E हरा	>	175 H नीला	>	173 B सफेद	>	165 F लाल

**Q-34** If another student J who is taller than E but shorter than D is added to the group, which of the following will be definitely true?  
**eng**

01. G and J are of same height

02. J is taller than D
03. J is shorter than H

04. J is taller than G
05. None of these

**Q-34** यदि एक अन्य छात्र J इस समूह में सम्मिलित किया जाए, जो E से लंबा लेकिन D से छोटा है तो निम्न में से कौनसा निश्चित रूप से सत्य होगा ?  
**hi**

01. G और J की लंबाई समान हैं

02. J, D से लंबा है
03. J, H से छोटा है

04. J, G से लम्बा है
05. इनमें से कोई नहीं

**Solution for Question 34**

<b>eng</b>	188 C Pink	>	187 A Purple	>	185 D Yellow	>	183 G Black	>	180 E Green	>	175 H Blue	>	173 B White	>	165 F Red
<b>hi</b>	188 C गुलाबी	>	187 A बैंगनी	>	185 D पीला	>	183 G काला	>	180 E हरा	>	175 H नीला	>	173 B सफेद	>	165 F लाल

**Q-35** Which of the following is definitely true?  
**eng**

01. G is shorter than F
02. C is shorter than the one who likes Pink
03. F is taller than the one who likes Red
04. B is taller than the one who likes Red
05. All are false

निम्न में से कौन सा निश्चित रूप से सत्य है?

01. G, F से छोटा है
02. C, गुलाबी रंग पसंद करने वाले व्यक्ति से छोटा है
03. F, लाल रंग पसंद करने वाले व्यक्ति से लंबा है
04. B, लाल रंग पसंद करने वाले व्यक्ति से लंबा है
05. सभी असत्य हैं

### Solution for Question 35

188	187	185	183	180	175	173	165							
C	>	A	>	D	>	G	>	E	>	H	>	B	>	F
Pink		Purple		Yellow		Black		Green		Blue		White		Red

188	187	185	183	180	175	173	165							
C	>	A	>	D	>	G	>	E	>	H	>	B	>	F
गुलाबी		बैंगनी		पीला		काला		हरा		नीला		सफेद		लाल

### Passage for Question 36, 37, 38, 39, 40 (ST-2054RRBPOMAINS(1-5R)2019)

eng Passage

Study the following information carefully and answer the questions given below.

P, Q, R, S, T, U, V, Y and W are students of a school. Each of them studies in different standard from Standard IV to Standard XII but not necessarily in the same order. Each of them has a favourite subject is English, Science, History, Geography, Mathematics, Hindi, Marathi, Biology and Sanskrit not necessarily in the same order.

The one who likes Biology does not study in Standard VII or Standard IV.

The one who likes History study in either Standard XI or Standard XII.

P like History. W does not study in Standard IX and Standard VI.

Q studies in VII Standard and does not like Mathematics.

R likes English and does not study either in Standard V or Standard IX. T studies in Standard VIII and likes Hindi.

The one who likes Science studies in Standard X. S studies in Standard IV.

W likes Sanskrit. V does not study in Standard X and Standard V.

The one who likes Geography studies in Standard V.

hi Passage

निम्नलिखित जानकारी का ध्यानपूर्वक अध्ययन करें और नीचे दिए गए प्रश्नों के उत्तर दीजिये।

P, Q, R, S, T, U, V, Y और W एक स्कूल के छात्र हैं। उनमें से प्रत्येक कक्षा IV से कक्षा XII तक अलग-अलग कक्षा में अध्ययन करते हैं, लेकिन जरूरी नहीं कि इसी क्रम में हो। उनमें से प्रत्येक का पसंदीदा विषय -अंग्रेजी, विज्ञान, इतिहास, भूगोल, गणित, हिंदी, मराठी, जीव विज्ञान और संस्कृत है, लेकिन जरूरी नहीं कि इसी क्रम में हो।

जो व्यक्ति जीव विज्ञान पसंद करता है वह कक्षा VII या कक्षा IV में अध्ययन नहीं करता है।

वह व्यक्ति जो इतिहास पसंद करता है, कक्षा XI या कक्षा XII में अध्ययन करता है।

P, इतिहास पसंद करता है। W, कक्षा IX और कक्षा VI में अध्ययन नहीं करता है।

Q, कक्षा VII में अध्ययन करता है और गणित पसंद नहीं करता है।

R अंग्रेजी पसंद करता है और वह कक्षा V या कक्षा IX में अध्ययन नहीं करता है। T, कक्षा VIII में पढ़ता है और हिंदी पसंद करता है।

वह व्यक्ति जो विज्ञान पसंद करता है कक्षा X में पढ़ता है। S, कक्षा IV में पढ़ता है।

W को संस्कृत पसंद है। V, कक्षा X और कक्षा V में नहीं पढ़ता है।

वह व्यक्ति जो भूगोल पसंद करता है कक्षा V में पढ़ता है।

Q-36 Which of the following combination of student-standard-subject is correct?

01. T-VIII-Mathematics
02. W-VII-Sanskrit
03. Q-VII-Geography
04. V-X-Science
05. V-IX-Biology

विद्यार्थी -कक्षा - विषय का निम्नलिखित में से कौन-सा संयोजन सही है ?

01. T-VIII-गणित
02. W-VII-संस्कृत
03. Q-VII-भूगोल
04. V-X-विज्ञान
05. V-IX-जीव विज्ञान

### Solution for Question 36

eng	P	XI/XII	History
	Q	VII	Marathi
	R	VI	English

S	IV	Mathematics
T	VIII	Hindi
U	V	Geography / X Science
V	IX	Biology
W	XI/XII	Sanskriti
Y	X	Science / V Geography

P	XI/XII	इतिहास
Q	VII	मराठी
R	VI	अंग्रेज़ी
S	IV	गणित
T	VIII	हिंदी
U	V	भूगोल / X विज्ञान
V	IX	जीव विज्ञान
W	XI/XII	संस्कृति
Y	X	विज्ञान / V भूगोल

In which standard does V study?

01.

IV
02.

VII
03.

IX
04.

X
05.

XII

V किस कक्षा में पढ़ता है?

01.

IV
02.

VII
03.

IX
04.

X
05.

XII

### Solution for Question 37

P	XI/XII	History
Q	VII	Marathi
R	VI	English
S	IV	Mathematics
T	VIII	Hindi
U	V	Geography / X Science
V	IX	Biology
W	XI/XII	Sanskriti
Y	X	Science / V Geography

P	XI/XII	इतिहास
Q	VII	मराठी
R	VI	अंग्रेज़ी
S	IV	गणित
T	VIII	हिंदी
U	V	भूगोल / X विज्ञान
V	IX	जीव विज्ञान
W	XI/XII	संस्कृति
Y	X	विज्ञान / V भूगोल

Which subject does Y like?

01.

History
02.

Geography
03.

Mathematics
04.

Science
05.

Either option 02 or 04

Y को कौन सा विषय पसंद है?

01.

इतिहास
02.

भूगोल
03.

गणित
04.

विज्ञान
05.

या तो विकल्प 02 या 04

### Solution for Question 38

P	XI/XII	History
Q	VII	Marathi
R	VI	English
S	IV	Mathematics
T	VIII	Hindi
U	V	Geography / X Science
V	IX	Biology
W	XI/XII	Sanskriti
Y	X	Science / V Geography

P	XI/XII	इतिहास
Q	VII	मराठी

R	VI	अंग्रेज़ी
S	IV	गणित
T	VIII	हिंदी
U	V	भूगोल / X विज्ञान
V	IX	जीव विज्ञान
W	XI/XII	संस्कृति
Y	X	विज्ञान / V भूगोल

Which subject does S like?

01.

Geography
02.

Mathematics
03.

English
04.

History
05.

None of these

S को कौन सा विषय पसंद है?

01.

भूगोल
02.

गणित
03.

अंग्रेज़ी
04.

इतिहास
05.

इनमें से कोई नहीं

Solution for Question 39

P	XI/XII	History
Q	VII	Marathi
R	VI	English
S	IV	Mathematics
T	VIII	Hindi
U	V	Geography / X Science
V	IX	Biology
W	XI/XII	Sanskriti
Y	X	Science / V Geography

P	XI/XII	इतिहास
Q	VII	मराठी
R	VI	अंग्रेज़ी
S	IV	गणित
T	VIII	हिंदी
U	V	भूगोल / X विज्ञान
V	IX	जीव विज्ञान
W	XI/XII	संस्कृति
Y	X	विज्ञान / V भूगोल

In which standard does W study?

01.

VII
02.

IX
03.

X
04.

XII
05.

V

W किस कक्षा में पढ़ता है?

01.

VII
02.

IX
03.

X
04.

XII
05.

V

Solution for Question 40

P	XI/XII	History
Q	VII	Marathi
R	VI	English
S	IV	Mathematics
T	VIII	Hindi
U	V	Geography / X Science
V	IX	Biology
W	XI/XII	Sanskriti
Y	X	Science / V Geography

P	XI/XII	इतिहास
Q	VII	मराठी
R	VI	अंग्रेज़ी
S	IV	गणित
T	VIII	हिंदी
U	V	भूगोल / X विज्ञान
V	IX	जीव विज्ञान
W	XI/XII	संस्कृति
Y	X	विज्ञान / V भूगोल



**Q-41** What approximate value will come in the place of (?) in the following question ?

eng  $(107.98)^2 + (29.12)^2 - ? = 8424.15$

01. 5400

02. 4800
03. 4180

04. 5500
05. 4080

**Q-41** निम्नलिखित प्रश्न में प्रश्नवाचक चिन्ह (?) के स्थान पर लगभग क्या मान आयेगा?

hi  $(107.98)^2 + (29.12)^2 - ? = 8424.15$

01. 5400

02. 4800
03. 4180

04. 5500
05. 4080

**Solution for Question 41**

eng  $11664 + 841 - 8424 = ?$   
 $12505 - 8424 = ?$   
 $? \sim 4080$

hi  $11664 + 841 - 8424 = ?$   
 $12505 - 8424 = ?$   
 $? \approx 4080$

**Q-42** What approximate value will come in the place of (?) in the following question ?

eng  $7.89\% \text{ of } 798.98 \times 13.79\% \text{ of } 840.79 = ?$

01. 7000

02. 6800
03. 8200

04. 7550
05. 8500

**Q-42** निम्नलिखित प्रश्न में प्रश्नवाचक चिन्ह (?) के स्थान पर लगभग क्या मान आयेगा ?

hi  $798.98 \text{ का } 7.89\% \times 840.79 \text{ का } 13.79\% = ?$

01. 7000

02. 6800
03. 8200

04. 7550
05. 8500

**Solution for Question 42**

eng  $\frac{800 \times 8}{100} \times \frac{840 \times 14}{100} = ?$   
 $? = 64 \times 117.6$   
 $? \sim 7526$

hi  $\frac{800 \times 8}{100} \times \frac{840 \times 14}{100} = ?$   
 $? = 64 \times 117.6$   
 $? \approx 7526$

**Q-43** What approximate value will come in the place of (?) in the following question ?

eng  $\sqrt{7400} \times \sqrt{7750} = ? - \sqrt{13450}$

01. 6800

02. 7200
03. 7700

04. 8100
05. 8210

**Q-43** निम्नलिखित प्रश्नों में प्रश्नवाचक चिन्ह (?) के स्थान पर लगभग क्या मान आयेगा?

hi  $\sqrt{7400} \times \sqrt{7750} = ? - \sqrt{13450}$



eng	1 5 23 91 263 521 515
	01. 23 02. 91
	03. 263 04. 521
	05. 5
Q-46	निम्न संख्या श्रृंखलाओं में गलत संख्या ज्ञात कीजिए।
hi	1 5 23 91 263 521 515
	01. 23 02. 91
	03. 263 04. 521
	05. 5
Solution for Question 46	
eng	The series is $\times 6 - 1, \times 5 - 2, \times 4 - 3, \times 3 - 4, \dots$
hi	श्रृंखला है- $\times 6 - 1, \times 5 - 2, \times 4 - 3, \times 3 - 4, \dots$

Q-47	Find out the wrong number in the following number series.
eng	-2 +5 -1 12 29 166 981
	01. 5 02. -1
	03. 166 04. 981
	05. 29
Q-47	निम्न संख्या श्रृंखलाओं में गलत संख्या ज्ञात कीजिए।
hi	-2 +5 -1 12 29 166 981
	01. 5 02. -1
	03. 166 04. 981
	05. 29
Solution for Question 47	
eng	The series is $\times 1 + 7, \times 2 - 11, \times 3 + 15, \times 4 - 19, \dots$
hi	श्रृंखला है- $\times 1 + 7, \times 2 - 11, \times 3 + 15, \times 4 - 19, \dots$

Q-48	Find out the wrong number in the following number series.
eng	15 136 55 104 79 89
	01. 55 02. 79
	03. 89 04. 104
	05. 136
Q-48	निम्न संख्या श्रृंखलाओं में गलत संख्या ज्ञात कीजिए।
hi	15 136 55 104 79 89
	01. 55 02. 79
	03. 89 04. 104
	05. 136
Solution for Question 48	
eng	The series is $+ 11^2, -9^2, +7^2, -5^2, +3^2$
hi	श्रृंखला है- $+ 11^2, -9^2, +7^2, -5^2, +3^2$

**Q-49** Find out the wrong number in the following number series.

eng 120 15 100 25 75 37.5

01.

15
02.

25
03.

75
04.

100
05.

37.5

**Q-49** निम्न संख्या श्रृंखलाओं में गलत संख्या ज्ञात कीजिए।

hi 120 15 100 25 75 37.5

01.

15
02.

25
03.

75
04.

100
05.

37.5

Solution for Question 49

eng The series is  
÷6, ×5, ÷ 4, ×3, ÷ 2

hi श्रृंखला है-  
÷6, ×5, ÷ 4, ×3, ÷ 2

**Q-50** Find out the wrong number in the following number series.

eng 24 12 12 18 27 90 270

01.

27
02.

90
03.

18
04.

12
05.

270

**Q-50** निम्न संख्या श्रृंखलाओं में गलत संख्या ज्ञात कीजिए।

hi 24 12 12 18 27 90 270

01.

27
02.

90
03.

18
04.

12
05.

270

Solution for Question 50

eng The series is  
 $\times \frac{1}{2}, \times 1, \times \frac{3}{2}, \times 2, \times \frac{5}{2}$

hi श्रृंखला है-  
 $\times \frac{1}{2}, \times 1, \times \frac{3}{2}, \times 2, \times \frac{5}{2}$

**Q-51** In an examination 35% of the students failed in one subject and 48% failed in another subject while 18% failed in both subjects. If 1200 candidates appeared in the examination, how many students passed in either subject not in both.

01.

465
02.

465
03.

564
04.

560
05.

546

**Q-51** एक परीक्षा में 35% विद्यार्थी एक विषय में अनुत्तीर्ण होते हैं तथा 48% दूसरे विषय में; जबकि 18% दोनों विषयों में अनुत्तीर्ण होते हैं। यदि परीक्षा में 1200 विद्यार्थी सम्मिलित हुए हो तो बताये कि कितने विद्यार्थी या तो पहले विषय में या तो दूसरे विषय में पास हुए हो लेकिन दोनों में नहीं।

01.

465
02.

465
03.

564
04.

560
05.

546

Solution for Question 51

eng  $\frac{1200}{100\%} \times ((35 - 18) + (48 - 18))\% = 564$

hi  $\frac{1200}{100\%} \times ((35 - 18) + (48 - 18))\% = 564$

100%

Passage for Question 52 (passge for question (16-20))

eng Passage

Study the following table carefully and answer the question.

Percentage of unemployed male and female and the total population for different states in 2008 and 2009.

State	2008			2009		
	Male	Female	Total population	Male	Female	Total population
	M	F	T	M	F	T
A	12	15	32	7	8	35
B	8	7	18	10	9	20
C	9	10	28	10	12	34
D	10	6	24	8	8	30
E	6	8	30	7	6	32
F	7	5	28	8	7	35

M = Percentage of unemployed male over total population  
F = Percentage of unemployed female over total population  
T = Total population of the states (in lakhs).

hi Passage

नीचे दी गई सारणी का ध्यानपूर्वक अध्ययनकर प्रश्नों के उत्तर दीजिए -

वर्ष 2008 तथा 2009 में विभिन्न राज्यों में बेरोजगार पुरुष तथा महिलाओं का प्रतिशत तथा कुल जनसंख्या (लाखों में)

राज्य	2008			2009		
	पुरुष	महिला	कुल जनसंख्या	पुरुष	महिला	कुल जनसंख्या
	M	F	T	M	F	T
A	12	15	32	7	8	35
B	8	7	18	10	9	20
C	9	10	28	10	12	34
D	10	6	24	8	8	30
E	6	8	30	7	6	32
F	7	5	28	8	7	35

M = कुल जनसंख्या में बेरोजगार पुरुषों का प्रतिशत  
F = कुल जनसंख्या में बेरोजगार महिलाओं का प्रतिशत  
T = राज्यों की कुल जनसंख्या (लाखों में)

Q-52

eng

Number of unemployed males in state A in 2008 was what percent of the number of unemployed females in state E in 2009?

01. 66

02. 50

03. 200

04. 133

05. None of these

Q-52

hi

वर्ष 2008 में राज्य A में बेरोजगार पुरुषों की संख्या, वर्ष 2009 में राज्य E में बेरोजगार महिलाओं की संख्या का कितना प्रतिशत है?

01. 66

02. 50

03. 200

04. 133

05. इनमें से कोई नहीं

Solution for Question 52

eng

Number of unemployed males in state A  
in 2008 =  $32,00,000 \times \frac{12}{100}$   
= 3,84,000  
Number of unemployed females in 2009  
in State E  
=  $32,00,000 \times \frac{6}{100}$   
= 1,92,000  
Required percent =  $\frac{384000}{192000} \times 100$   
= 200%

hi

वर्ष 2008 में राज्य A में बेरोजगार पुरुषों की  
संख्या =  $32,00,000 \times \frac{12}{100} = 3,84,000$   
वर्ष 2009 में राज्य E में बेरोजगार महिलाओं  
की संख्या =  $32,00,000 \times \frac{6}{100} = 1,92,000$   
अभीष्ट प्रतिशत =  $\frac{384000}{192000} \times 100$   
= 200%

Q-53

eng

Mathew got 42 marks in Biology, 51 marks in Chemistry, 58 in Mathematics, 35 marks in Physics and 48 marks in English. A student can get maximum 60 marks in each subject. How much percent marks did Mathew get in the examination?

01. 76  
03. 76  
05. None of these
02. 82  
04. 78

मैथ्यू को जीव विज्ञान में 42, रसायन विज्ञान में 51, गणित में 58, भौतिक विज्ञान में 35 और अंग्रेजी में 48 अंक मिले। प्रत्येक विषय में एक विद्यार्थी अधिकतम 60 अंक प्राप्त कर सकता है। परीक्षा में मैथ्यू ने कितने प्रतिशत अंक प्राप्त किये?

01. 76  
03. 68  
05. इनमें से कोई नहीं
02. 82  
04. 78

#### Solution for Question 53

percent marks =  $\frac{234}{300} \times 100 = 78$

प्रतिशत अंक =  $\frac{234}{300} \times 100 = 78$

The sum of length, breadth and depth of a cuboid is 19 cm. and its diagonal is  $5\sqrt{5}$  cm. What will be its surface area ?

01. 196 cm<sup>2</sup>.  
03. 169 cm<sup>2</sup>.  
05. None of these
02. 256 cm<sup>2</sup>.  
04. 236 cm<sup>2</sup>.

एक घनाभ की लम्बाई, चौड़ाई और गहराई का योग 19 सेमी. है और इसका विकर्ण  $5\sqrt{5}$  सेमी. है। इसकी सतह का क्षेत्रफल क्या होगा?

01. 196 सेमी<sup>2</sup>  
03. 169 सेमी<sup>2</sup>  
05. इनमें से कोई नहीं
02. 256 सेमी<sup>2</sup>  
04. 236 सेमी<sup>2</sup>

#### Solution for Question 54

$l+b+h = 19$  \_\_\_\_\_ (I)  
 $l^2+b^2+h^2 = 125$  \_\_\_\_\_ (II)  
Squaring equation (I)  
 $(l+b+h)^2 = 361$   
 $(l+b+h)^2 - SA = (l^2+b^2+h^2)$   
 $(l^2+b^2+h^2) = 361 - 125$   
 $= 236 \text{ cm}^2$

$l+b+h = 19$  \_\_\_\_\_ (I)  
 $l^2+b^2+h^2 = 125$  \_\_\_\_\_ (II)  
समीकरण (I) का वर्ग करने पर  
 $(l+b+h)^2 = 361$   
 $(l+b+h)^2 - SA = (l^2+b^2+h^2)$   
 $(l^2+b^2+h^2) = 361 - 125$   
 $= 236 \text{ cm}^2$

The price of a product first increased by 20% then decreased by 10% and again increased by 25%. If the final price is Rs. 5427. What is the original price?

01. Rs. 4820  
03. Rs. 3830  
05. None of these
02. Rs. 4230  
04. Rs. 3690

एक वस्तु के मूल्य में पहले 20% की वृद्धि की गई उसके बाद 10% की कमी की गई फिर 25% की वृद्धि कर दी जाती है यदि अन्त में मूल्य 5427 ₹. है तो वस्तु का वास्तविक मूल्य क्या है?

01. 4820 ₹.  
03. 3830 ₹.  
05. इनमें से कोई नहीं
02. 4230 ₹.  
04. 3690 ₹.

#### Solution for Question 55

$x \times \frac{120}{100} \times \frac{90}{100} \times \frac{125}{100} = 5427$

hi

hi

hi

eng

- hi

- eng

hi

hi

- eng

hi

माना वस्तु का आरम्भिक मूल्य 100 रु. था वस्तु के मूल्य में 60% की कमी के बाद विक्रय मूल्य = 40 रु.

क्रय मूल्य =  $40 \times \frac{100}{90} = \frac{400}{9}$  रु.

लाभ =  $100 - \frac{400}{9} \Rightarrow \frac{500}{9}$

लाभ% =  $\frac{500/9}{400/9} \times 100 = 125\%$



**Q-58** **eng** A train is running at the speed of 80 km/hr and covers a certain distance in 4.5 hours. What will be the speed of train in order to cover the same distance in 4 hours?

01. 100 km/hr

02. 70 km/hr
03. 85 km/hr

04. 90 km/hr
05. None of these
- Q-58** **hi** एक रेलगाड़ी 80 कि/घं.. की चाल से चलती है और एक निश्चित दूरी को 4.5 घंटे में पूरा करती है। उसी दूरी को 4 घंटे में पूरा करने के लिए रेलगाड़ी की चाल क्या होगी?

01. 100 कि/घं.

02. 70 कि/घं.
03. 85 कि/घं.

04. 90 कि/घं.
05. इनमें से कोई नहीं

**Solution for Question 58**

<b>eng</b>	Distance = 80 × 4.5 = 360 km Speed = $\frac{360}{4}$ = <b>90</b> km/hr
<b>hi</b>	दूरी = 80 × 4.5 = 360 किमी चाल = $\frac{360}{4}$ = <b>90</b> कि/घं.

**Q-59** **eng** Milk and water are in the ratio of 3:2 in a mixture of 180 litre. How much water should be added so that the ratio of the milk and water becomes 2:3?

01. 108 litres

02. 90 litres
03. 72 litres

04. 30 litres
05. None of these
- Q-59** **hi** 180 लीटर मिश्रण में दूध और पानी का अनुपात 3 : 2 है। पानी की कितनी मात्रा और मिलायी जानी चाहिए कि दूध और पानी का अनुपात 2: 3 हो जाये।

01. 108 लीटर

02. 90 लीटर
03. 72 लीटर

04. 30 लीटर
05. इनमें से कोई नहीं

**Solution for Question 59**

<b>eng</b>	Milk = 108 litre Water = 72 litre $\frac{108}{72+x} = \frac{2}{3}$ 144+2x = 324 2x = 180 x = 90 litres
<b>hi</b>	दूध = 108 लीटर पानी = 72 लीटर $\frac{108}{72+x} = \frac{2}{3}$ 144+2x = 324 2x = 180 x = 90 लीटर

**Q-60** **eng** Three taps A, B and C can fill a tank in 12, 15 and 20 hours respectively. If A is open all the time and B and C are open for one hour each alternatively, the tank will be fill in -

01. 6 hours

02. 5 hours
03.  $7\frac{1}{2}$  hours

04. 7 hours
05.  $8\frac{1}{2}$  hours

**Q-60** **hi** तीन नल A, B और C किसी टंकी को क्रमशः 12, 15 और 20 घंटों में भरते है। यदि A को पूरे समय तक खुला रखते है और B और C नल को प्रत्येक को एक घंटे के अंतराल पर बारी-बारी से खोलते है। टंकी कितने समय में भर जायेगी?

01. 6 घंटे

02. 5 घंटे
03.  $7\frac{1}{2}$  घंटे

04. 7 घंटे

05.  $8\frac{1}{2}$  घंटे

### Solution for Question 60

eng

$$(A+B)\text{'s 1 hour work} = \frac{1}{12} + \frac{1}{15} = \frac{3}{20}$$

$$(A+C)\text{'s 1 hour work} = \frac{1}{12} + \frac{1}{20} = \frac{2}{15}$$

$$2 \text{ hours work} = \frac{3}{20} + \frac{2}{15} = \frac{17}{60}$$

$$\text{Remaining part} = 1 - \frac{17}{60} = \frac{3}{20}$$

Total time = 6+1 = 7

hi

$$(A+B) \text{ का 1 घंटे का कार्य} = \frac{1}{12} + \frac{1}{15} = \frac{3}{20}$$

$$(A+C) \text{ का 1 घंटे का कार्य} = \frac{1}{12} + \frac{1}{20} = \frac{2}{15}$$

$$2 \text{ घंटे का कार्य} = \frac{3}{20} + \frac{2}{15} = \frac{17}{60}$$

$$\text{शेष भाग} = 1 - \frac{17}{60} = \frac{3}{20}$$

कुल समय = 6+1 = 7

**Q-61**

Pure milk costs Rs. 12 per litre. A milkman add some water to 16 litres of pure milk and sells the mixture at Rs. 10 per litre by making 25% profit. How many litres of water does he added?

eng

**01.** 5 litres

**02.** 6 litres

**03.** 8 litres

**04.** 12 litres

**05.** None of these

**Q-61**

शुद्ध दूध का क्रय मूल्य 12 रु. प्रति लीटर है। एक दूधवाला 16 लीटर शुद्ध दूध में कुछ पानी मिलाता है और उसको 10 रु. प्रति लीटर में बेचकर 25% का लाभ अर्जित करते है। कितने लीटर पानी मिलाया गया?

hi

**01. 5 लीटर**

**02. 6 लीटर**

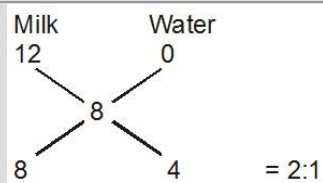
**03. 8 लीटर**

**04.** 12 लीटर

**05.** इनमें से कोई नहीं

### Solution for Question 61

eng

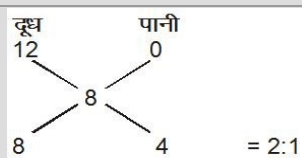


$$\text{Cost price of mixture} = \frac{10 \times 100}{125} = \text{Rs.}$$

8

$$\text{Water (added)} = 16 \times \frac{1}{2} = 8 \text{ litre}$$

hi



$$\text{मिश्रण का क्रय मूल्य} = \frac{10 \times 100}{125} = 8 \text{ रु.}$$

पानी (मिलाया गया) =  $16 \times \frac{1}{2} = 8$  लीटर

**Q-62**

In each of the following questions, two equations are given. You have to solve them and

eng

**I.**  $4x + 7y = 42$

**II.**  $3x - 11y = -1$

**01.** If  $x > y$

**02.** If  $x \geq y$

03. If  $x < y$

05. If  $x = y$  or relationship can not be established

Q-62

hi

I.  $4x + 7y = 42$

II.  $3x - 11y = -1$

01. यदि  $x > y$

03. यदि  $x < y$

05. यदि  $x = y$  या सम्बन्ध स्थापित नहीं किया जा सकता है।

02. यदि  $x \geq y$

04. यदि  $x \leq y$

Solution for Question 62	
eng	From Eq. I. and II. $y = 2$ $x = 7$ $x > y$
hi	समीकरण I. और II. से $y = 2$ $x = 7$ $x > y$

Q-63

eng

In each of the following questions, two equations are given. You have to solve them and state the correct relationship-

I.  $9x^2 - 29x + 22 = 0$

II.  $7y^2 - 7y - 12 = 0$

01. If  $x > y$

03. If  $x < y$

05. If  $x = y$  or relationship can not be established

02. If  $x \geq y$

04. If  $x \leq y$

Q-63

hi

I.  $9x^2 - 29x + 22 = 0$

II.  $7y^2 - 7y - 12 = 0$

01. यदि  $x > y$

03. यदि  $x < y$

05. यदि  $x = y$  या सम्बन्ध स्थापित नहीं किया जा सकता है।

02. यदि  $x \geq y$

04. यदि  $x \leq y$

Solution for Question 63	
eng	I. $9x^2 - 18 - 11x + 22 = 0$ $9x(x-2) - 11(x-2) = 0$ <b><math>x = 2\frac{11}{9}</math></b> II. $7y^2 - 14y + 6y - 12 = 0$ $7y(y-2) + 6(y-2) = 0$ $y = 2, -\frac{6}{7}, x \geq y$
hi	I. $9x^2 - 18 - 11x + 22 = 0$ $9x(x-2) - 11(x-2) = 0$ <b><math>x = 2\frac{11}{9}</math></b> II. $7y^2 - 14y + 6y - 12 = 0$ $7y(y-2) + 6(y-2) = 0$ $y = 2, -\frac{6}{7}, x \geq y$

Q-64

eng

In each of the following questions, two equations are given. You have to solve them and state the correct relationship-

I.  $x^2 + 14x + 49 = 0$

II.  $2y^2 - 17y + 36 = 0$

01. If  $x > y$

03. If  $x < y$

05. If  $x = y$  or relationship can not be established

02. If  $x \geq y$

04. If  $x \leq y$

Q-64

निम्नलिखित प्रश्नों में दो समीकरण (I) और (II) दिये गये हैं दोनों समीकरण हल कीजिए और सही सम्बन्ध स्थापित कीजिये-

hi

I.  $x^2 + 14x + 49 = 0$

II.  $2y^2 - 17y + 36 = 0$

01. यदि  $x > y$

02. यदि  $x \geq y$

03. यदि  $x < y$

04. यदि  $x \leq y$

05. यदि  $x = y$  या सम्बन्ध स्थापित नहीं किया जा सकता है।

Solution for Question 64

eng

I.  $x^2 + 7x + 7x + 49 = 0$   
 $x(x+y) + 7(x+7) = 0$   
 $x = -7$   
II.  $2y^2 - 8y - 9y + 36 = 0$   
 $2y(y-4) - 9(y-4) = 0$   
 **$y = 4\frac{9}{2}$**   
 $x < y$

hi

I.  $x^2 + 7x + 7x + 49 = 0$   
 $x(x+y) + 7(x+7) = 0$   
 $x = -7$   
II.  $2y^2 - 8y - 9y + 36 = 0$   
 $2y(y-4) - 9(y-4) = 0$   
 **$y = 4\frac{9}{2}$**   
 $x < y$

Q-65

In each of the following questions, two equations are given. You have to solve them and state the correct relationship-

eng

I.  $x^2 + 14x + 49 = 0$

II.  $y^2 + 9y = 0$

01. If  $x > y$

02. If  $x \geq y$

03. If  $x < y$

04. If  $x \leq y$

05. If  $x = y$  or relationship can not be established

Q-65

निम्नलिखित प्रश्नों में दो समीकरण (I) और (II) दिये गये हैं दोनों समीकरण हल कीजिए और सही सम्बन्ध स्थापित कीजिये-

hi

I.  $x^2 + 14x + 49 = 0$

II.  $y^2 + 9y = 0$

01. यदि  $x > y$

02. यदि  $x \geq y$

03. यदि  $x < y$

04. यदि  $x \leq y$

05. यदि  $x = y$  या सम्बन्ध स्थापित नहीं किया जा सकता है।

Solution for Question 65

eng

I.  $x^2 + 7x + 7x + 49 = 0$   
 $x(x+7) + 7(x+7) = 0$   
 $x = -7, -7$   
II.  $y(y+9) = 0$   
 $y = 0, -9$

hi

I.  $x^2 + 7x + 7x + 49 = 0$   
 $x(x+7) + 7(x+7) = 0$   
 $x = -7, -7$   
II.  $y(y+9) = 0$   
 $y = 0, -9$

Passage for Question 66, 67, 68, 69, 70 (ST-42 CWEPO (96-100) 2014)

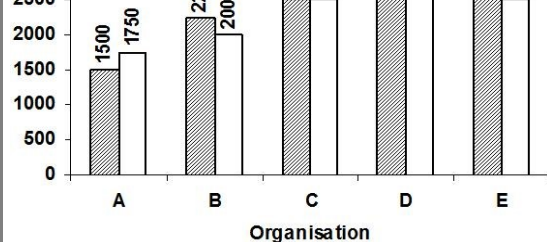
eng Passage

Study the following bar graph carefully and give the answer of the questions.

Number of females and males working in five different organisation.

Male Female

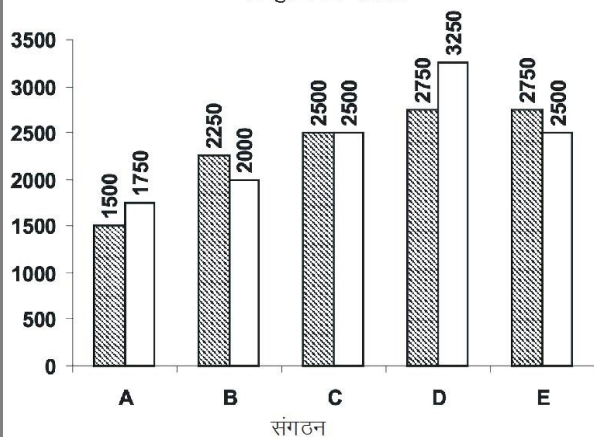
Organization	Male	Female
1	2500	2500
2	2750	3250
3	2500	2500
4	2750	2500
5	2500	2500



hi Passage

निम्नलिखित दण्ड आरेख का अध्ययन कर प्रश्नों के उत्तर दीजिए  
पाँच विभिन्न संगठनों में कार्य करने वाले पुरुषों तथा महिलाओं की संख्या

■ पुरुष □ महिला



**Q-66** The number of males in the organisation D is what percent of the total number of employees from that organisation (rounded off to two digits after decimal)

eng

01. 54.17
02. 62.64
03. 52.64
04. 61.475
05. None of these

**Q-66** संगठन D में पुरुषों की संख्या उसी संगठन में कुल कर्मचारियों की संख्या का कितना प्रतिशत है। (दशमलव के दो अंको तक)

hi

01. 54.17
02. 62.64
03. 52.64
04. 61.475
05. इनमें से कोई नहीं

#### Solution for Question 66

eng

$$\text{Required \%} = \frac{2750 \times 100}{6000} = 45.83\%$$

hi

$$\text{अभीष्ट प्रतिशत} = \frac{2750 \times 100}{6000} = 45.83 \%$$

**Q-67** What is the respective ratio of the number of females to the number of males from organisation A ?

eng

01. 11 : 8
02. 7 : 6
03. 8 : 11
04. 6 : 7
05. None of these

**Q-67** संगठन A में पुरुषों की संख्या तथा महिलाओं की संख्या के मध्य अनुपात है ?

hi

01. 11 : 8
02. 7 : 6
03. 8 : 11
04. 6 : 7
05. इनमें से कोई नहीं

#### Solution for Question 67

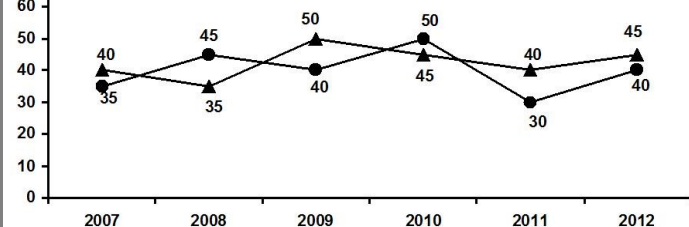
eng

$$\text{Required ratio} = 1500 : 1750 \\ = 6 : 7$$

hi

$$\text{अभीष्ट अनुपात} = 1500 : 1750$$

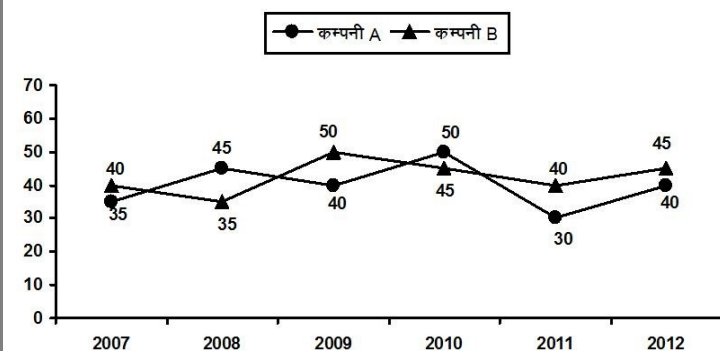




hi Passage

निम्नलिखित ग्राफ का ध्यानपूर्वक अध्ययन कर नीचे पूछे गये प्रश्नों के उत्तर दीजिए।

विभिन्न वर्षों में दो कंपनियों द्वारा अर्जित प्रतिशत लाभ



**Q-71** If respective ratio of expenditure of company A and B in 2011 was 3 : 4, what was the expenditure in 2011?  
eng

- |                   |             |
|-------------------|-------------|
| 01. 21 : 26       | 02. 13 : 14 |
| 03. 14 : 13       | 04. 26 : 21 |
| 05. None of these |             |

**Q-71** यदि 2011 में कंपनी A और B के व्यय का अनुपात क्रमशः 3 : 4 था, 2011 में आय का अनुपात क्या था?  
hi

- |                       |             |
|-----------------------|-------------|
| 01. 21 : 26           | 02. 13 : 14 |
| 03. 14 : 13           | 04. 26 : 21 |
| 05. इनमें से कोई नहीं |             |

**Solution for Question 71**

eng Ratio =  $3 \times \frac{130}{100} : 4 \times \frac{140}{100} = 39:56$

hi अनुपात =  $3 \times \frac{130}{100} : 4 \times \frac{140}{100} = 39:56$

**Q-72** If expenditure of company A in all the years was Rs. 82.5 lakhs, what was the total income of company A in all the years together?  
eng

- |                     |                          |
|---------------------|--------------------------|
| 01. Rs.1.23 crore   | 02. Rs.95.75 lakhs       |
| 03. Rs. 99.85 lakhs | 04. Cannot be determined |
| 05. None of these   |                          |

**Q-72** सभी वर्षों में कंपनी A का व्यय रु.82.5 लाख था तो सभी वर्षों में कंपनी A की कुल आय क्या थी?  
hi

- |                       |                            |
|-----------------------|----------------------------|
| 01. रु.1.23 करोड़     | 02. रु.95.75 लाख           |
| 03. रु. 99.85 लाख     | 04. निर्धारित नहीं कर सकते |
| 05. इनमें से कोई नहीं |                            |

**Q-73** If expenditure of company B in 2008 and 2009 are Rs.12 lakhs and Rs.14.5 lakhs respectively, what was the total income of company B in 2008 and 2009?  
eng

- |                    |                    |
|--------------------|--------------------|
| 01. Rs.39.75 lakhs | 02. Rs.37.95 lakhs |
| 03. Rs.38.75 lakhs | 04. Rs.38.50 lakhs |
| 05. None of these  |                    |

**Q-73** यदि 2008 और 2009 में कंपनी B का व्यय क्रमशः रु.12 लाख और रु. 14.5 लाख था तो 2008 और 2009 में कंपनी B की कुल आय क्या थी?  
hi



01. ₹. 39.75 लाख  
03. ₹. 38.75 लाख  
05. इनमें से कोई नहीं

02. ₹. 37.95 लाख  
04. ₹. 38.50 लाख

### Solution for Question 73

eng Total income =  $12 \times \frac{135}{100} + 14.5 \times \frac{150}{100}$   
= 16.2 + 21.75  
= Rs. 37.95

hi कुल आय =  $12 \times \frac{135}{100} + 14.5 \times \frac{150}{100}$   
= 16.2 + 21.75  
= ₹. 37.95

**Q-74** If expenditure of company A and company B in 2012 was equal and income of both companies was Rs.5.7 lakhs. What was the total expenditure of both companies in 2012?  
eng

01. Rs.4 lakhs  
03. Rs.4.2 lakhs  
05. None of these

02. Rs. 2 lakhs  
04. Cannot be determined

**Q-74** यदि 2012 में कम्पनी A और कम्पनी B का व्यय समान है और दोनों कम्पनियों की आय ₹. 5.7 लाख है तो 2012 में दोनों कम्पनियों का कुल व्यय क्या था?

hi

01. ₹. 4 लाख  
03. ₹. 4.2 लाख  
05. इनमें से कोई नहीं

02. ₹. 2 लाख  
04. निर्धारित नहीं कर सकते

### Solution for Question 74

eng Total income =  $E \times \frac{140}{100} + E \times \frac{145}{100}$   
=  $5.7 = E \times \frac{285}{100}$   
E = Rs. 2 lakh  
Total expenditure of both companies = Rs. 4 lakh

hi कुल आय =  $E \times \frac{140}{100} + E \times \frac{145}{100} =$   
 $5.7 = E \times \frac{285}{100}$   
लाख दोनों कम्पनियों का कुल व्यय = ₹ 4 लाख

**Q-75** If ratio of income of company B in 2009 and 2010 was 2:3 respectively, what was the ratio of expenditure of same company in both the years?  
eng

01. 20 : 29  
03. 29 : 45  
05. None of these

02. 9 : 10  
04. 10 : 29

**Q-75** यदि 2009 में और 2010 में कम्पनी B की आय का अनुपात क्रमशः 2 : 3 था तो दोनों वर्षों में उसी कम्पनी के व्यय का अनुपात क्या था?

hi

01. 20 : 29  
03. 29 : 45  
05. इनमें से कोई नहीं

02. 9 : 10  
04. 10 : 29

### Solution for Question 75

eng Ratio =  $2 \times \frac{100}{150} : 3 \times \frac{100}{145} = 29 : 45$

hi अनुपात =  $2 \times \frac{100}{150} : 3 \times \frac{100}{145} = 29 : 45$

**Passage for Question 76, 77, 78, 79, 80** (ST-122 CWEPO (116-120) 2014)

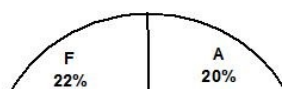
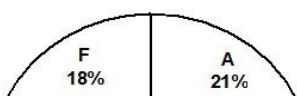
eng Passage

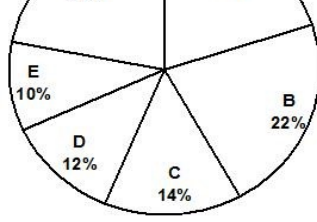
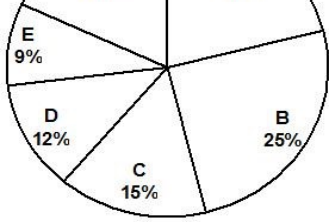
Read the following pie-chart carefully and answer the questions given below.

Percentage wise distribution of players participating from different countries in Commonwealth Games.

Total number of players = 3200

Total number of male players = 1800

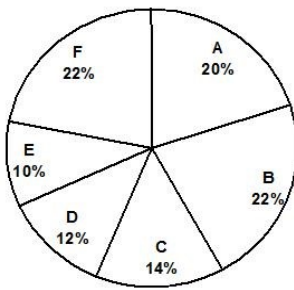
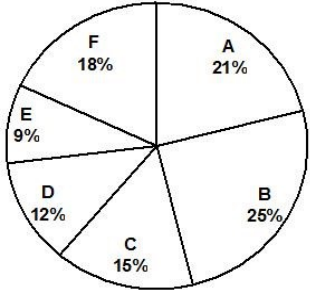




hi Passage

निम्नलिखित पाई-चार्ट का ध्यानपूर्वक अध्ययनकर नीचे पूछे गये प्रश्नों के उत्तर दीजिए।

राष्ट्रमण्डल खेल में विभिन्न देशों से भाग लेने वाले खिलाड़ियों का प्रतिशतवार वितरण  
 खिलाड़ियों की कुल संख्या = 3200 पुरुष खिलाड़ियों की संख्या = 1800



**Q-76** What is the respective ratio between the number of male players in country B and number of female players in country C?

eng

01. 31:17
02. 35:23
03. 29:13
04. 33:19
05. None of these

**Q-76** देश B में पुरुष खिलाड़ियों की संख्या और देश C में महिला खिलाड़ियों की संख्या के बीच क्रमशः अनुपात क्या है?

hi

01. 31:17
02. 35:23
03. 29:13
04. 33:19
05. इनमें से कोई नहीं

#### Solution for Question 76

eng

Ratio = 396 : 228 = 33 : 19

hi

अनुपात = 396 : 228 = 33 : 19

**Q-77** What is the sum of number of female players from country D and number of male players from country C?

eng

01. 420
02. 428
03. 424
04. 437
05. None of these

**Q-77** देश D में महिला खिलाड़ियों की संख्या और देश C में पुरुष खिलाड़ियों की संख्या का योग क्या है?

hi

01. 420
02. 428
03. 424
04. 437
05. इनमें से कोई नहीं

#### Solution for Question 77

eng

Sum = 168+252 = 420

hi

योग = 168+252 = 420

**Q-78** What is the difference between the number of male players from country A and number of female players from country E?

eng

01. 250
02. 248
03. 255
04. 258
05. None of these

**Q-78** देश A में पुरुष खिलाड़ियों की संख्या और देश E में महिला खिलाड़ियों की संख्या के बीच अन्तर क्या है?

hi

01. 250  
03. 255  
05. इनमें से कोई नहीं
02. 248  
04. 258

#### Solution for Question 78

eng Difference =  $360 - 108 = 252$

hi अन्तर =  $360 - 108 = 252$

Q-79 The number of male players from country F is approximately what percentage of the number of female players from country B?

eng

01. 93  
03. 88  
05. 102
02. 98  
04. 85

Q-79 देश F में पुरुष खिलाड़ियों की संख्या देश B में महिला खिलाड़ियों की संख्या का लगभग कितने प्रतिशत है?

hi

01. 93  
03. 88  
05. 102
02. 98  
04. 85

#### Solution for Question 79

eng Req. percent =  $\frac{396}{404} \times 100 = 98$  (approx)

hi अभीष्ट प्रतिशत =  $\frac{396}{404} \times 100 = 98$  (लगभग)

Q-80 What is the average of number of male players from country E and number of female players from country A?

eng

01. 242  
03. 238  
05. None of these
02. 248  
04. 246

Q-80 देश E में पुरुष खिलाड़ियों की संख्या और देश A में महिला खिलाड़ियों की संख्या का औसत क्या है?

hi

01. 242  
03. 238  
05. इनमें से कोई नहीं
02. 248  
04. 246

#### Solution for Question 80

eng Average =  $\frac{180 + 312}{2} = 246$

hi औसत =  $\frac{180 + 312}{2} = 246$

Q-81 Which of the following city, will host the annual session of the 108th Indian Science Congress on January 3-7, 2021?

eng

01. Pune  
03. Jaipur  
05. Jammu
02. Lucknow  
04. Patna

Q-81 निम्नलिखित में से कौन सा शहर, 3-7 जनवरी, 2021 को 108 वें भारतीय विज्ञान कांग्रेस के वार्षिक सत्र की मेजबानी करेगा?

hi

01. पुणे  
03. जयपुर  
05. जम्मू
02. लखनऊ  
04. पटना

#### Solution for Question 81

eng The Indian Science Congress Association (ISCA) announced that Pune will host the annual session of the 108th Indian Science Congress on January 3-7, 2021.

hi इंडियन साइंस कांग्रेस एसोसिएशन (ISCA) ने घोषणा की कि पुणे 3-7 जनवरी, 2021 को 108 वें भारतीय विज्ञान कांग्रेस के वार्षिक सत्र की मेजबानी करेगा।

<b>Q-82</b> eng	Recently who has been appointed as the Managing Director and Chief Executive of Bank of Baroda?
	<div><div>01. Rishi Sethi</div><div>02. Challa Sreenivasulu Setty</div><div>03. Rajnish Kumar</div><div>04. Sanjiv Chaddha</div><div>05. Rajeev Kumar</div></div>
<b>Q-82</b> hi	हाल ही में बैंक ऑफ बड़ौदा के प्रबंध निदेशक और मुख्य कार्यकारी के रूप में किसे नियुक्त किया गया है?
	<div><div>01. ऋषि सेठी</div><div>02. चल्ला श्रीनिवासुलु सेट्टी</div><div>03. रजनीश कुमार</div><div>04. संजीव चड्ढा</div><div>05. राजीव कुमार</div></div>
<b>Solution for Question 82</b>	
eng	Recently Sanjiv Chaddha has been appointed as the Managing Director and Chief Executive of Bank of Baroda.
hi	हाल ही में संजीव चड्ढा को बैंक ऑफ बड़ौदा के प्रबंध निदेशक और मुख्य कार्यकारी के रूप में नियुक्त किया गया है।

<b>Q-83</b> eng	Navegaon National Park is located in which state?
	<div><div>01. Karnataka</div><div>02. West Bengal</div><div>03. Andhra Pradesh</div><div>04. Rajasthan</div><div>05. Maharashtra</div></div>
<b>Q-83</b> hi	नवेगाँव राष्ट्रीय उद्यान किस राज्य में स्थित है?
	<div><div>01. कर्नाटक</div><div>02. पश्चिम बंगाल</div><div>03. आंध्र प्रदेश</div><div>04. राजस्थान</div><div>05. महाराष्ट्र</div></div>
<b>Solution for Question 83</b>	
eng	Navegaon National Park is a National park located in the Arjuni Morgaon subdivision of Gondia district in state of Maharashtra, India.
hi	नवेगांव राष्ट्रीय उद्यान भारत के महाराष्ट्र राज्य में गोंदिया जिले के अर्जुनी मोरगाँव उपखंड में स्थित एक राष्ट्रीय उद्यान है।

<b>Q-84</b> eng	Where is the National Sugar Institute established?
	<div><div>01. Kanpur</div><div>02. New Delhi</div><div>03. Lucknow</div><div>04. Gorakhpur</div><div>05. Varanasi</div></div>
<b>Q-84</b> hi	राष्ट्रीय चीनी संस्थान कहाँ स्थापित किया गया है?
	<div><div>01. कानपुर</div><div>02. नई दिल्ली</div><div>03. लखनऊ</div><div>04. गोरखपुर</div><div>05. वाराणसी</div></div>
<b>Solution for Question 84</b>	
eng	The National Sugar Institute established in 1936, is involved in research, training and advisory services to the sugar and allied industry, and functions under the Department of Food and Public Distribution of the Ministry of Consumer Affairs, Food and Public Distribution.
hi	1936 में स्थापित राष्ट्रीय चीनी संस्थान, चीनी और संबद्ध उद्योग के लिए अनुसंधान, प्रशिक्षण और सलाहकार सेवाओं में कार्यरत है, और यह उपभोक्ता मामलों, खाद्य और सार्वजनिक वितरण मंत्रालय के खाद्य और सार्वजनिक वितरण विभाग के अंतर्गत कार्य करता है।

<b>Q-85</b> eng	Which state has hosted the Shirui Lily Festival?
	<div><div>01. Assam</div><div>02. Manipur</div><div>03. Meghalaya</div><div>04. Tripura</div><div>05. Nagaland</div></div>
<b>Q-85</b> hi	किस राज्य ने शिरुई लिली महोत्सव की मेजबानी की है?

01. असम

03. मेघालय

05. नागालैंड
02. मणिपुर

04. त्रिपुरा

Solution for Question 85

eng Manipur has hosted Shirui Lily Festival.

hi मणिपुर ने शिरुई लिली महोत्सव की मेजबानी की है।

Q-86 Dhansiri is river of which state?

eng

01. Meghalaya

03. Kerala

05. Odisha
02. Assam

04. Andhra Pradesh

Q-86 धनसिरी किस राज्य की नदी है?

hi

01. मेघालय

03. केरल

05. ओडिशा
02. असम

04. आंध्र प्रदेश

Solution for Question 86

eng Dhansiri is the main river of Golaghat District of Assam and the Dimapur District of Nagaland. It originates from Laisang peak of Nagaland.

hi धनसिरी, असम के गोलाघाट जिले और नागालैंड के दीमापुर जिले की मुख्य नदी है। यह नागालैंड के ल्यासांग शिखर से निकलती है।

Q-87 Which of the following is not a Gallantry Awards?

eng

01. Padma Bhushan

03. Ashoka chakra

05. Shaurya Chakra
02. Mahavir Chakra

04. Kirti Chakra

Q-87 निम्नलिखित में से कौन वीरता पुरस्कार नहीं है?

hi

01. पद्म भूषण

03. अशोक चक्र

05. शौर्य चक्र
02. महावीर चक्र

04. कीर्ति चक्र

Solution for Question 87

eng **Civilian Awards** – Bharat Ratna, Padma Shri, Padma Bhushan and Padma Vibhushan.  
**Gallantry Awards** – Param Vir Chakra, Mahavir Chakra, Vir Chakra, Ashoka chakra, Shaurya Chakra, Kirti Chakra.

hi **नागरिक पुरस्कार** - भारत रत्न, पद्म श्री, पद्म भूषण और पद्म विभूषण।  
**वीरता पुरस्कार** - परमवीर चक्र, महावीर चक्र, वीर चक्र, अशोक चक्र, शौर्य चक्र, कीर्ति चक्र।

Q-88 Who is the Chairman of the National Disaster Response Force?

eng

01. President

03. Prime Minister

05. Lok Sabha Speaker
02. Vice President

04. Minister of Home Minister

Q-88 राष्ट्रीय आपदा प्रतिक्रिया बल के अध्यक्ष कौन हैं?

hi

01. राष्ट्रपति

03. प्रधान मंत्री

05. लोकसभा स्पीकर
02. उपाध्यक्ष

04. गृह मंत्री

Solution for Question 88

eng The National Disaster Management Authority is the authoritative Apex Body for Disaster Management. The Prime Minister of India is the Chairman of the NDMA.

hi राष्ट्रीय आपदा प्रबंधन प्राधिकरण, आपदा प्रबंधन के लिए आधिकारिक सर्वोच्च निकाय है। भारत के प्रधान मंत्री एनडीएमए के अध्यक्ष होते हैं।

Q-89 Loktak Lake is located in which Indian State?

eng

01. Tamil Nadu

02. Kerala
03. Manipur

04. Karnataka
05. Andhra Pradesh

Q-89 लोकतक झील भारत के किस राज्य में स्थित है?

hi

01. तमिलनाडु

02. केरल
03. मणिपुर

04. कर्नाटक
05. आंध्र प्रदेश

Solution for Question 89

eng

Loktak Lake is located in Manipur state. Loktak Lake is the largest freshwater lake in Northeast India.

hi

लोकतक झील मणिपुर राज्य में स्थित है। लोकतक झील पूर्वोत्तर भारत की सबसे बड़ी ताजे पानी की झील है।

Q-90 Where is the headquarters of The World Trade Organization?

eng

01. Madrid, Spain

02. Geneva, Switzerland
03. Paris, France

04. Beijing, China
05. New York, USA

Q-90 विश्व व्यापार संगठन का मुख्यालय कहाँ है?

hi

01. मैड्रिड, स्पेन

02. जिनेवा, स्विट्जरलैंड
03. पेरिस, फ्रांस

04. बीजिंग, चीन
05. न्यूयॉर्क, यूएसए

Solution for Question 90

eng

The World Trade Organization is an intergovernmental organization that is concerned with the regulation of international trade between nations. The WTO officially commenced on 1 January 1995. It is headquartered in Geneva, Switzerland.

hi

विश्व व्यापार संगठन एक अंतर सरकारी संगठन है जो राष्ट्रों के बीच अंतर्राष्ट्रीय व्यापार के नियमन से संबंधित है। विश्व व्यापार संगठन आधिकारिक तौर पर 1 जनवरी 1995 को शुरू हुआ था। इसका मुख्यालय स्विट्जरलैंड के जिनेवा में है।

Q-91 What is the position of India in the recently released 'Social Mobility Index 2020' by World Economic Forum?

eng

01. 52

02. 61
03. 76

04. 86
05. 80

Q-91 विश्व आर्थिक मंच द्वारा हाल ही में जारी 'सोशल मोबिलिटी इंडेक्स 2020' में भारत कौन से स्थान पर है?

hi

01. 52

02. 61
03. 76

04. 86
05. 80

Solution for Question 91

eng

Denmark is at the top and India at the 76th position in the recently released 'Social Mobility Index 2020' by the World Economic Forum.

hi

विश्व आर्थिक मंच द्वारा हाल ही में जारी 'सोशल मोबिलिटी इंडेक्स 2020' में डेनमार्क शीर्ष स्थान पर और भारत 76 वें स्थान पर है।

Q-92 Which of the following Indian city has been adjudged as the ‘World’s most dynamic city’, as per the JLL City Momentum Index, 2020?

eng

01. Mumbai

02. Bengaluru
03. Kolkata

04. Hydrabad
05. Lucknow

Q-92 जेएलएल सिटी मोमेंटम इंडेक्स, 2020 के अनुसार निम्नलिखित में से किस भारतीय शहर को 'विश्व के सबसे गतिशील शहर' के रूप में घोषित किया गया है?

hi

01. मुंबई

02. बेंगलुरु
03. कोलकाता

04. हैदराबाद
05. लखनऊ

Solution for Question 92

eng	Hyderabad has secured the first place in the list of the world's most dynamic cities. Jones Lang Lasalle (JLL) has recently released the city momentum index that comprised of 129 cities across the world. JLL evaluated 129 cities and selected Hyderabad as the world’s most dynamic city.
hi	हैदराबाद ने दुनिया के सबसे गतिशील शहरों की सूची में पहला स्थान प्राप्त किया है। जोन्स लैंग लासेल (जेएलएल) ने हाल ही में शहर की गति सूचकांक जारी किया है जिसमें दुनिया भर के 129 शहर शामिल हैं। जेएलएलने 129 शहरों का मूल्यांकन किया और हैदराबाद को दुनिया के सबसे गतिशील शहर के रूप में चुना।

Q-93 'Chapchar Kut' is a popular festival of which state?

- eng
01. Sikkim

02. Mizoram
03. Nagaland

04. Meghalaya
05. Tripura

Q-93 'चापचर कुट' किस राज्य का लोकप्रिय त्यौहार है?

- hi
01. सिक्किम

02. मिजोरम
03. नागालैंड

04. मेघालय
05. त्रिपुरा

Solution for Question 93

eng	'Chapchar Kut' is a popular festival of Mizoram. This festival is celebrated to welcome Vasant Ritu.
hi	'चापचर कुट' मिजोरम का एक लोकप्रिय त्यौहार है। यह त्यौहार वसंत ऋतु का स्वागत करने के लिए मनाया जाता है।

Q-94 The Dudhwa National Park is located in which State?

- eng
01. Assam

02. Maharashtra
03. Tamil Nadu

04. Uttar Pradesh
05. Andhra Pradesh

Q-94 दुधवा राष्ट्रीय उद्यान किस राज्य में स्थित है?

- hi
01. असम

02. महाराष्ट्र
03. तमिलनाडु

04. उत्तर प्रदेश
05. आंध्र प्रदेश

Solution for Question 94

eng	The Dudhwa National Park is located in the Lakhimpur Kheri district of Uttar Pradesh.
hi	दुधवा राष्ट्रीय उद्यान उत्तर प्रदेश के लखीमपुर खीरी जिले में स्थित है।

Q-95 Who is the present union minister of Animal Husbandry and Dairying?

- eng
01. Thawar Chand Gehlot

02. Giriraj Singh
03. Ram Vilas Paswan

04. Uma Bharti
05. Harsh Vardhan

Q-95 वर्तमान केंद्रीय पशुपालन और डेयरी मंत्री कौन हैं?

- hi
01. थावर चंद गहलोत

02. गिरिराज सिंह
03. रामविलास पासवान

04. उमा भारती
05. हर्षवर्धन

Solution for Question 95

eng	Giriraj Singh is the present union minister of Animal Husbandry and Dairying. The Department of Animal Husbandry and Dairying, operating under Ministry of Fisheries, Animal Husbandry and Dairying released 20th Livestock Census.
-----	---

**Q-99** **hi** बच्चों को राष्ट्रीय वीरता पुरस्कार किस मंत्रालय / संगठन द्वारा प्रतिवर्ष प्रदान किए जाते हैं?



- |                                    |  |
|------------------------------------|--|
| <b>01.</b> कौशल भारत मंत्रालय      | <b>02.</b> महिला और बाल विकास मंत्रालय |
| <b>03.</b> भारतीय बाल कल्याण परिषद | <b>04.</b> यूनिसेफ                     |
| <b>05.</b> आयुष मंत्रालय           |  |

### Solution for Question 99

**eng** The National Bravery Awards for children are presented by Indian Council for child welfare.

**hi** बच्चों के लिए राष्ट्रीय वीरता पुरस्कार भारतीय बाल कल्याण परिषद द्वारा प्रस्तुत किए जाते हैं।

**Q-100** Recently, Nikhat Zareen was in news. She is related to which sport?

**eng**

- |                      |                     |
|----------------------|---------------------|
| <b>01.</b> Swimming  | <b>02.</b> Shooting |
| <b>03.</b> Wrestling | <b>04.</b> Boxing   |
| <b>05.</b> Cycling   |                     |

**Q-100** हाल ही में, निखत ज़रीन खबरों में थीं। वह किस खेल से संबंधित हैं?

**hi**

- |                      |                       |
|----------------------|-----------------------|
| <b>01.</b> तैराकी    | <b>02.</b> निशानेबाजी |
| <b>03.</b> कुश्ती    | <b>04.</b> मुक्केबाजी |
| <b>05.</b> साइकिलिंग |                       |

### Solution for Question 100

**eng** Nikhat Zareen is a woman boxer from Nizamabad who won a silver medal at the 2nd India Open International Boxing Tournament held in Guwahati.

**hi** निखत ज़रीन, निज़ामाबाद की एक महिला मुक्केबाज़ हैं, जिन्होंने गुवाहाटी में आयोजित दूसरे इंडिया ओपन इंटरनेशनल बॉक्सिंग टूर्नामेंट में रजत पदक जीता था।

**Q-101** Recently, which among the following has released the Global Health Challenges report 2020?

**eng**

- |                 |                 |
|-----------------|-----------------|
| <b>01.</b> WHO  | <b>02.</b> UNGA |
| <b>03.</b> UNDP | <b>04.</b> WHF  |
| <b>05.</b> IMF  |                 |

**Q-101** हाल ही में, निम्नलिखित में से किसने ग्लोबल हेल्थ चैलेंजेज रिपोर्ट 2020 जारी की है?

**hi**

- |                       |                        |
|-----------------------|------------------------|
| <b>01.</b> डब्ल्यूएचओ | <b>02.</b> यूएनजीए     |
| <b>03.</b> यूएनडीपी   | <b>04.</b> डब्ल्यूएचएफ |
| <b>05.</b> आईएमएफ     |                        |

### Solution for Question 101

**eng** Recently, WHO has released the Global Health Challenges report 2020.

**hi** हाल ही में, डब्ल्यूएचओ ने ग्लोबल हेल्थ चैलेंजेज रिपोर्ट 2020 जारी की है।

**Q-102** Barabati Cricket Stadium is located in which state?

**eng**

- |                           |                       |
|---------------------------|-----------------------|
| <b>01.</b> Madhya Pradesh | <b>02.</b> Odisha     |
| <b>03.</b> Kerala         | <b>04.</b> Tamil Nadu |
| <b>05.</b> Jharkhand      |                       |

**Q-102** बाराबती क्रिकेट स्टेडियम किस राज्य में स्थित है?

**hi**

- |                        |                     |
|------------------------|---------------------|
| <b>01.</b> मध्य प्रदेश | <b>02.</b> ओडिशा    |
| <b>03.</b> केरल        | <b>04.</b> तमिलनाडु |
| <b>05.</b> झारखंड      |                     |

### Solution for Question 102

**eng** Barabati Stadium is located in Cuttack, Odisha.

**hi** बाराबती स्टेडियम कटक, ओडिशा में स्थित है।

**Q-103** Nagarhole National Park, also known as Rajiv Gandhi National Park, is situated in which state?

**eng**

- |                        |                           |
|------------------------|---------------------------|
| <b>01.</b> West Bengal | <b>02.</b> Andhra Pradesh |
|------------------------|---------------------------|

03. Maharashtra  
05. Tamil Nadu  
Q-103 hi नागरहोल राष्ट्रीय उद्यान, जिसे राजीव गांधी राष्ट्रीय उद्यान भी कहा जाता है, किस राज्य में स्थित है?

01. पश्चिम बंगाल
02. आंध्र प्रदेश
03. महाराष्ट्र
04. कर्नाटक
05. तमिलनाडु

Solution for Question 103	
eng	Nagarhole National Park, also known as Rajiv Gandhi National Park, is a wildlife reserve in the South Indian state of Karnataka.
hi	नागरहोल राष्ट्रीय उद्यान, जिसे राजीव गांधी राष्ट्रीय उद्यान भी कहा जाता है, दक्षिण भारतीय राज्य कर्नाटक में एक वन्यजीव अभ्यारण्य है।

Q-104 eng When NITI Aayog was formed?

01. 2016
02. 2014
03. 2013
04. 2015
05. 2017

Q-104 hi नीति आयोग का गठन कब हुआ था?

01. 2016
02. 2014
03. 2013
04. 2015
05. 2017

Solution for Question 104	
eng	NITI Aayog is a policy think tank of the Government of India, established with the aim to achieve sustainable development goals. It was established in 2015.
hi	नीति आयोग भारत सरकार का एक नीति थिंक टैंक है, जिसे स्थायी विकास लक्ष्यों को प्राप्त करने के उद्देश्य से स्थापित किया गया है। इसकी स्थापना 2015 में हुई थी।

Q-105 eng Who is the union minister of Food Processing Industries?

01. Narendra Singh Tomar
02. Maneka Gandhi
03. D. V. Sadananda Gowda
04. Harsimrat Kaur Badal
05. Smriti Irani

Q-105 hi खाद्य प्रसंस्करण उद्योग के केंद्रीय मंत्री कौन हैं?

01. नरेंद्र सिंह तोमर
02. मेनका गांधी
03. डी. वी. सदानंद गौड़ा
04. हरसिमरत कौर बादल
05. स्मृति ईरानी

Solution for Question 105	
eng	Harsimrat Kaur Badal is the union minister of Food Processing Industries.
hi	हरसिमरत कौर बादल खाद्य प्रसंस्करण उद्योग की केंद्रीय मंत्री हैं।

Q-106 eng Shekel is the currency of which country?

01. Jordan
02. Libya
03. Eretria
04. Fiji
05. Israel

Q-106 hi शेकेल किस देश की मुद्रा है?

01. जॉर्डन
02. लीबिया
03. इरिट्रिया
04. फिजी
05. इजरायल

Solution for Question 106	
eng	The Israeli Shekel is the currency of Israel.
hi	इजरायली शेकेल, इजरायल की मुद्रा है।

<b>Q-107</b> eng	Nur-Sultan is the capital of which country?
	<div><div>01. Yemen</div><div>02. Kazakhstan</div><div>03. Oman</div><div>04. Kyrgyzstan</div><div>05. Uzbekistan</div></div>
<b>Q-107</b> hi	नूर-सुल्तान किस देश की राजधानी है?
	<div><div>01. यमन</div><div>02. कजाकिस्तान</div><div>03. ओमान</div><div>04. किर्गिज़स्तान</div><div>05. उज़्बेकिस्तान</div></div>

<b>Solution for Question 107</b>	
eng	Nur-Sultan is the capital of Kazakhstan. Nur-Sultan, previously named Astana from 1998 to 2019. In March 2019, it was renamed to Nur-Sultan after the death of Kazakh president, Nursultan Nazarbayev.
hi	नूर-सुल्तान कजाकिस्तान की राजधानी है। नूर-सुल्तान, जिसे पहले 1998 से 2019 तक अस्ताना नाम दिया गया था। मार्च 2019 में, कजाख राष्ट्रपति नूरसुल्तान नज़रबयेव की मृत्यु के बाद इसका नाम बदलकर नूर-सुल्तान कर दिया गया।

<b>Q-108</b> eng	On which among the following birth anniversary India celebrates National Farmers Day on 23rd December?
	<div><div>01. Jai Prakash Narayan</div><div>02. Choudhary Charan Singh</div><div>03. Ram Manohar Lohia</div><div>04. Syama Prasad Mukherjee</div><div>05. Deendayal Upadhyaya</div></div>
<b>Q-108</b> hi	निम्नलिखित में से किसकी जयंती पर भारत 23 दिसंबर को राष्ट्रीय किसान दिवस मनाता है?
	<div><div>01. जय प्रकाश नारायण</div><div>02. चौधरी चरण सिंह</div><div>03. राम मनोहर लोहिया</div><div>04. श्यामा प्रसाद मुखर्जी</div><div>05. दीनदयाल उपाध्याय</div></div>

<b>Solution for Question 108</b>	
eng	India celebrates National Farmers Day on 23rd December to commemorate the birth anniversary of the 5th Prime Minister of India, Choudhary Charan Singh. He was a farmer’s leader and he had introduced many policies to improve the lives of the Indian farmers. The day is being observed since 2001.
hi	भारत के 5 वें प्रधानमंत्री चौधरी चरण सिंह की जयंती मनाने के लिए भारत 23 दिसंबर को राष्ट्रीय किसान दिवस मनाता है। वह एक किसान नेता थे और उन्होंने भारतीय किसानों के जीवन को बेहतर बनाने के लिए कई नीतियों की शुरुआत की थी। यह दिवस 2001 से मनाया जा रहा है।

<b>Q-109</b> eng	The UN World Tourism Organization has recently released its ‘UNWTO World Tourism Barometer report’. Where is the head-quarters of UNWTO located?
	<div><div>01. Madrid</div><div>02. Vietnam</div><div>03. New York</div><div>04. Geneva</div><div>05. Paris</div></div>
<b>Q-109</b> hi	संयुक्त राष्ट्र विश्व पर्यटन संगठन ने हाल ही में अपनी ‘UNWTO विश्व पर्यटन बैरोमीटर रिपोर्ट’ जारी की है। UNWTO का मुख्यालय कहाँ स्थित है?
	<div><div>01. मैड्रिड</div><div>02. वियतनाम</div><div>03. न्यूयॉर्क</div><div>04. जिनेवा</div><div>05. पेरिस</div></div>

<b>Solution for Question 109</b>	
eng	The UN World Tourism Organization is the United Nations specialized agency responsible for the promotion of responsible, sustainable and universally accessible tourism. It is headquartered in Madrid, Spain.
hi	संयुक्त राष्ट्र विश्व पर्यटन संगठन जिम्मेदार, स्थायी और सार्वभौमिक रूप से सुलभ पर्यटन को बढ़ावा देने के लिए संयुक्त राष्ट्र की विशेष एजेंसी है। इसका मुख्यालय मैड्रिड, स्पेन में है।

<b>Q-110</b> eng	Retired IAS Officer Yudvir Singh Malik has been recently appointed as the Chairman and Managing director of which crisis-hit firm?
	<div><div>01. Altico Capital</div><div>02. IL &amp; FS</div><div>03. Unitech</div><div>04. DHFL</div><div>05. None of the above</div></div>

**Q-110** सेवानिवृत्त आईएएस अधिकारी युदवीर सिंह मलिक को हाल ही में किस संकटग्रस्त फर्म के अध्यक्ष और प्रबंध निदेशक के रूप में नियुक्त किया गया है?

hi

01. अल्टिको कैपिटल

02. आईएल एंड एफएस

03. यूनिटेक

04. डीएचएफएल

05. उपरोक्त में से कोई नहीं

**Solution for Question 110**

**eng** Retired IAS Officer Yudvir Singh Malik has been recently appointed as the Chairman and Managing director of Unitech. Unitech Limited was India's second largest real estate investment company, and once claimed to be the largest real estate builder in the country. The company is based in New Delhi.

**hi** सेवानिवृत्त आईएएस अधिकारी युदवीर सिंह मलिक को हाल ही में यूनिटेक के अध्यक्ष और प्रबंध निदेशक के रूप में नियुक्त किया गया है। यूनिटेक लिमिटेड भारत की दूसरी सबसे बड़ी रियल एस्टेट निवेश कंपनी थी, और एक बार देश में सबसे बड़ी रियल एस्टेट बिल्डर होने का दावा किया गया था। यह कंपनी नई दिल्ली में स्थित है।

**Q-111** Which country will host the 11th edition of the Indoor Cricket World Cup in October 10 to 17, 2020?

eng

01. New Zealand

02. India

03. Australia

04. United States of America

05. Indonesia

**Q-111** कौन सा देश 10 से 17 अक्टूबर, 2020 तक इंडोर क्रिकेट विश्व कप के 11 वें संस्करण की मेजबानी करेगा?

hi

01. न्यूज़ीलैंड

02. भारत

03. ऑस्ट्रेलिया

04. संयुक्त राज्य अमेरिका

05. इंडोनेशिया

**Solution for Question 111**

**eng** 11th Edition of the Indoor Cricket World Cup is to be hosted by Australia from October 10 to 17, 2020. The World Indoor Cricket Federation (WICF) announced the tournament will be held at indoor cricket venues in Melbourne, Australia in Casey Stadium and City Power Centre.

**hi** इंडोर क्रिकेट विश्व कप के 11 वें संस्करण की मेजबानी ऑस्ट्रेलिया द्वारा 10 से 17 अक्टूबर, 2020 तक की जानी है। वर्ल्ड इंडोर क्रिकेट फेडरेशन (डब्ल्यूआईसीएफ) ने घोषणा की कि यह टूर्नामेंट मेलबर्न में इनडोर क्रिकेट स्थलों, केसी स्टेडियम और सिटी पावर में आयोजित किया जाएगा।

**Q-112** The Reserve Bank of India has instructed banks to make all online payments done through which of the following method free of cost for savings account holders?

eng

01. National Electronic Funds Transfer

02. Real-time gross settlement

03. BHIM App

04. Only 1 and 2

05. All of the above

**Q-112** भारतीय रिजर्व बैंक ने बैंकों को निम्नलिखित में से किस विधि के माध्यम से किये गए सभी ऑनलाइन भुगतान को बचत खाताधारकों के लिए निःशुल्क करने का निर्देश दिया है?

hi

01. राष्ट्रीय इलेक्ट्रॉनिक फंड ट्रांसफर

02. वास्तविक समय सकल निपटान

03. भीम ऐप

04. केवल 1 और 2

05. उपरोक्त सभी

**Solution for Question 112**

**eng** The Reserve Bank of India has instructed banks to make all online payments done through National Electronic Funds Transfer and Real-time gross settlement (RTGS) free of cost for savings account holders.

**hi** भारतीय रिजर्व बैंक ने बैंकों को निर्देश दिया है कि वे राष्ट्रीय इलेक्ट्रॉनिक फंड ट्रांसफर और रियल-टाइम ग्रास सेटलमेंट (RTGS) के माध्यम से किए गए सभी ऑनलाइन भुगतान बचत खाताधारकों के लिए निःशुल्क करें।

**Q-113** The Securitization Act does not cover:

eng

01. Private Sector Banks

02. Consortium of Banks

03. Private Financial Institutions

04. Chit Fund Companies

05. None of these

**Q-113** प्रतिभूतिकरण अधिनियम \_\_\_\_\_ को कवर नहीं करता है।

hi

01. निजी क्षेत्र के बैंक

02. बैंकों के संघ

03.

निजी वित्तीय संस्थाओं
04.

चिट फंड कंपनियों
05.

इनमें से कोई नहीं

Solution for Question 113	
eng	The Securitization Act does not cover Chit Fund Companies.
hi	प्रतिभूतिकरण अधिनियम चिट फंड कंपनियों को कवर नहीं करता है।

Q-114 What is the full form of ASEAN?

eng

01.

Association of Southeast African Nations
02.

Association of Southeast American Nations
03.

Association of Southeast Antarctic Nations
04.

Association of Southeast Asian Nations
05.

None of these
- Q-114

ASEAN का पूर्ण रूप क्या है?
- hi

01.

Association of Southeast African Nations
02.

Association of Southeast American Nations
03.

Association of Southeast Antarctic Nations
04.

Association of Southeast Asian Nations
05.

इनमें से कोई नहीं

Solution for Question 114	
eng	ASEAN stands for Association of Southeast Asian Nations.
hi	ASEAN का विस्तृत रूप Association of Southeast Asian Nations है।

Q-115 What is the currency of New Zealand?

eng

01.

Dollar
02.

Krona
03.

Franc
04.

Rand
05.

Bolívar
- Q-115

न्यूज़ीलैंड की मुद्रा क्या है?
- hi

01.

डॉलर
02.

क्रोना
03.

फ्रैंक
04.

रेंड
05.

बोलिवर

Solution for Question 115	
eng	Dollar is the currency of New Zealand.
hi	न्यूज़ीलैंड की मुद्रा डॉलर है।

Q-116 In which state Jog waterfall is located?

eng

01.

Kerala
02.

Karnataka
03.

Tamil Nadu
04.

Andhra Pradesh
05.

Manipur
- Q-116

किस राज्य में जोग जलप्रपात स्थित है?
- hi

01.

केरल
02.

कर्नाटक
03.

तमिलनाडु
04.

आंध्र प्रदेश
05.

मणिपुर

Solution for Question 116	
eng	Jog waterfall is located in the state of Karnataka.
hi	जोग जलप्रपात कर्नाटक राज्य में स्थित है।

Q-117 Where is the headquarters of International Cricket Council (ICC)?

eng

01.

Dubai
02.

New Delhi
03.

London
04.

Abu Dhabi

05. Vienna  
Q-117 अंतरराष्ट्रीय क्रिकेट परिषद (आईसीसी) का मुख्यालय कहाँ है?  
hi

01. दुबई
02. नई दिल्ली
03. लंदन
04. अबू धाबी
05. वियना

Solution for Question 117

eng The Headquarters of International Cricket Council (ICC) is in Dubai.

hi अंतरराष्ट्रीय क्रिकेट परिषद (आईसीसी) का मुख्यालय दुबई में है।

Q-118 What is Inclusive Banking?  
eng

01. Providing financial services to low-income groups at an affordable cost.
02. Doing banking business in remote areas.
03. It is the amount of money reserved for the government schemes.
04. Providing financial services especially to women and children of lower income groups.
05. None of these

Q-118 समावेशी बैंकिंग क्या है?  
hi

01. एक किरायेती लागत पर कम आय वाले समूहों को वित्तीय सेवाएं प्रदान करना।
02. दूरदराज के क्षेत्रों में बैंकिंग व्यापार करना।
03. यह सरकारी योजनाओं के लिए आरक्षित धन की राशि है।
04. विशेष रूप से कम आय वर्ग की महिलाओं और बच्चों को वित्तीय सेवाएं प्रदान करना।
05. इनमें से कोई नहीं

Solution for Question 118

eng Providing financial services to low-income groups at an affordable cost is Inclusive Banking.

hi एक किरायेती लागत पर कम आय वाले समूहों को वित्तीय सेवाएं प्रदान करना समावेशी बैंकिंग है।

Q-119 Which of the following is a money market instrument?  
eng

01. Treasury bill
02. Share
03. Derivative
04. Insurance
05. None of these

Q-119 इनमें से कौन सा मनी मार्केट इंस्ट्रूमेंट है?  
hi

01. ट्रेजरी बिल
02. शेयर
03. व्युत्पन्न
04. बीमा
05. इनमें से कोई नहीं

Solution for Question 119

eng Treasury bill is a money market instrument.

hi ट्रेजरी बिल एक मनी मार्केट इंस्ट्रूमेंट है।

Q-120 What is the capital of Venezuela?  
eng

01. Miranda
02. Caracas
03. Maracaibo
04. Valencia
05. Bogotá

Q-120 वेनेज़ुएला की राजधानी क्या है?  
hi

01. मिरांडा
02. कराकस
03. मारकैइबो
04. वालेंसिया
05. बोगोटा

Solution for Question 120

eng Caracas is the capital of Venezuela.

**Passage for Question 121, 122, 123, 124, 125, 126, 127, 128, 129, 130 (ST-110 RRBPO (126-135) 2014)**  
eng Passage

Read the following passage carefully and answer the questions given below it. Certain words have been printed in **bold** to help you locate them while answering some questions.

India needs more banks. There’s no question about that. That’s the only way to generate financial inclusion in a country where banking penetration, defined as the percentage of population with a bank account, is to touch 60%. Compare that with the near 100% penetration in the West and over 90% in Brazil, and you get the picture.

And financial inclusion, the stated goal of the government, will remain a pipedream unless the banking sector expands **exponentially** to include every adult in India. The Rangarajan Committee defined financial inclusion as “the process of ensuring access to financial services and timely and adequate credit where needed by vulnerable groups such as weaker sections and low-income groups at an affordable cost.”

So, the news that more than two dozen of India’s leading corporate houses, financial services companies, non-banking financial companies, public sector firms and India Post have applied for licences to set up new banks is a welcome one.

But here, we must **temper** our enthusiasm for financial inclusion with some caution. Ownership of banks by corporate houses should not become a licence for crony capitalism.

It is to preclude just this possibility that the US and South Korea bar industrial houses from owning banks. Japan **discourages** such cross-ownership. In Britain, Germany, France, Brazil and South Africa, however, corporate houses are allowed to set up and run banks.

In India, the Reserve Bank of India has a long and distinguished history of **robust**, responsible and successful supervision of the banking sector. It can, by law, supersede the board of any bank to ensure, among other things, the security of depositors’ funds. So, there is every reason to be confident that, by and large, India’s new banks, which will come into existence from 2014 onwards, will deliver on their mandate.

The new private sector banks that will come into existence from next year will surely improve financial inclusion. Competition changed the game in telecom and aviation.

There’s every reason to expect it to do the same in banking.

hi Passage

गद्यांश को पढ़ कर निम्नलिखित प्रश्नों में से सबसे उचित विकल्प चुनिए।

शिक्षा को वैज्ञानिक और प्राविधिक मूलाधार देकर हमने जहाँ भौतिक परिवेश को पूर्णतया परिवर्तित कर दिया है और जीवन को अप्रत्याशित गतिशीलता दे दी है, वहाँ साहित्य, कला, कर्म और दर्शन को अपनी चेतना से बहिष्कृत कर मानव-विकास को एकांगी बना दिया है। पिछली शताब्दी में विकास के सूत्र प्रकृति के हाथ से निकलकर मनुष्य के हाथ में पहुँच गए हैं, विज्ञान के हाथ में पहुँच गए हैं और इस बंद गली में पहुँचने का अर्थ मानव-जाती का नाश भी हो सकता है। इसलिए, नैतिक और आत्मिक मूल्यों को साथ-साथ विकसित करने की आवश्यकता है, जिससे विज्ञान हमारे लिए भस्मासुर का हाथ न बन जाये। व्यक्ति कि क्षुद्रता यही राष्ट्र कि क्षुद्रता बन जाती है तो विज्ञान भस्मासुर बन जाता जाता है। इस सत्य को प्रत्येक क्षण सामने रखकर ही अणु-विस्फोट को मानव-प्रेम और लोकहित कि मर्यादा दे सकेंगे। अपरिसिम भौतिक शक्तियों का स्वामी मानव आज अपने व्यक्तित्व के प्रति आस्थावान नहीं है और प्रत्येक क्षण अपने अस्तित्व के संबंध में संकाग्रस्त है।

**Q-121** Which of the following is/are the goal of financial inclusion?  
eng

(A) Providing statement for every financial transaction done  
(B) Providing credit to the deserving sections of the society at reasonable cost  
(C) Providing universal access to financial services

01. Only A

02. Only B and C

03. Only C

04. Only A and B

05. Only B

**Q-121** हमारी विज्ञानधृत शिक्षा की सर्वाधिक महत्वपूर्ण देन है?

01. गतिशील जीवन का प्रत्यावर्तन

02. जीवन का अपरिसीम भौतिक विकास

03. जीवन का सर्वांगीर्ण विकास

04. जीवन का एकांगी विकास

05. उपर्युक्त में से कोई नहीं

**Solution for Question 121**

eng ANSWER LIES IN THE THIRD LINE OF THE PASSAGE

**Q-122** Why has the author compared the banking penetration in India to that of other countries?  
eng

01. To explain that other countries are still far behind in terms of banking facilities.

02. To show that like India other countries too have made significant progress in terms of banking facilities.

03.

To prove that people in other countries are not aware of the advantage of banking.
04.

To prove that India needs to increase banking penetration to make financial inclusion possible.
05.

The reason is not clear in the passage.
- Q-122

आधुनिक मानव-विकास को सर्वांगीर्ण नहीं कहा जा सकता, क्योंकि-
- hi
01.

विकास के सूत्र मानव के हाथ में है
02.

जीवन में आशातीत गतिशीलता का समावेश नहीं हुआ है
03.

भौतिक परिवेश पूर्णतया परिवर्तित हो गया है
04.

साहित्य-धर्म-कला आदि मानव-चेतना से निर्वासित
05.

उपर्युक्त में से कोई नहीं

Solution for Question 122

eng

ANSWER LIES IN THE THIRD LINE OF THE PASSAGE

- Q-123

In which of the following countries, corporate houses are allowed to set up and run banks?
- eng
- (A) France

(B) Germany

(C) Sweden

(D) South Africa

(E) Britain

01.

Only B and E
02.

Only C and D
03.

All except C
04.

All except E
05.

All of the above

- Q-123

अणु-विसफोट को मानवतावाद कि मर्यादा देनी तभी संभव है जब व्यक्ति कि -
- hi

01.

उदात्त भावनाओ को विकसित किया जाय
02.

क्षुद्रता राष्ट्र कि क्षुद्रता बन जाए
03.

क्षुद्रता को राष्ट्र कि क्षुद्रता न बनने दिया जाए
04.

क्षुद्र भावनाओं का उन्नयन हो
05.

उपर्युक्त में से कोई नहीं

- Q-124

Why is author not in the favour of Ownership of banks by corporate houses?
- eng

01.

Corporate houses, generally, fail to keep adequate staff to ensure smooth functioning of the bank
02.

Corporate houses remain busy in profit-making and ignore customer satisfaction
03.

Corporate houses are barred by the law to open banks
04.

Only 2 and 3
05.

Not mentioned in the passage

- Q-124

मानव विज्ञान को भस्मासुर कानने से कैसे रोक सकते हैं?
- hi

01.

मानव-जाति का विनाश रोककर
02.

मानव जाति का विनाश करके
03.

भौतिक-आत्मिक-मूल्यों का निर्धारण करके
04.

प्रकृति-जगत का पूर्ण स्वामित्व प्राप्त करके
05.

नैतिक-आत्मिक मूल्यों को विकसित करके

- Q-125

Which of the following is **FALSE** in the context of the passage?
- eng

01.

India has adequate number of banks functioning for a long time
02.

Reserve Bank Of India has remained very strict in the supervision of the banking sector
03.

Credit is provided to weaker sections and low-income groups, under financial inclusion
04.

Banking penetration is the percentage of population with a bank account
05.

All of the above

- Q-125

आज का मानव अपने व्यक्तिव और अस्तित्व के प्रति इसलिए शंकालु है, क्योंकि -
- hi

01.

वह विज्ञान की विध्वन्सक शक्तियों से भयभीत है
02.

वह सिमित भौतिक शक्तियों का स्वामी है
03.

वह ईश्वर के प्रति आस्थावान नहीं है
04.

उसका आत्मविश्वास लुप्त होता जाता है
05.

उपर्युक्त में से कोई नहीं

- Q-126

Which of the following institutions have applied for licenses to set up new banks except-
- eng

01.

Non-banking financial companies
02.

Public sector firms
03.

Chit fund companies
04.

Leading corporate houses
05.

India post

- Q-126

गद्यांश में प्रयुक्त शब्द ‘अप्रत्याशित’ का असमानार्थी निम्नलिखित में से कौन-सा है?



- |                |              |
|----------------|--------------|
| 01. अधर्मी     | 02. दूरदर्शी |
| 03. प्रत्याशित | 04. महापुरूष |
| 05. अलौकिक     |              |

**Q-127** Choose the word most **SIMILAR** in meaning to the word printed in bold, as used in the passage.

eng

**Robust**

- |              |              |
|--------------|--------------|
| 01. Strict   | 02. Humorous |
| 03. Flexible | 04. Fit      |
| 05. Straight |              |

**Q-127** गद्यांश में प्रयुक्त शब्द 'बहिष्कृत' का असमानार्थी निम्नलिखित में से कौन-सा है?

hi

- |               |               |
|---------------|---------------|
| 01. स्वीकृत   | 02. अंगीकृत   |
| 03. तिरस्कृत  | 04. निष्कासित |
| 05. प्रतिकारी |               |

### Solution for Question 127

eng

Strict  
For other options:  
Humorous (adj)-full of humour  
Fit (adj)- healthy

**Q-128** Choose the word most **SIMILAR** in meaning to the word printed in bold, as used in the passage.

eng

**Temper**

- |              |           |
|--------------|-----------|
| 01. Define   | 02. Shock |
| 03. Question | 04. Calm  |
| 05. Satisfy  |           |

**Q-128** गद्यांश में प्रयुक्त शब्द 'अस्तित्व, का प्रयोग किस सम्बन्ध में किया गया है?

hi

- |                       |                         |
|-----------------------|-------------------------|
| 01. परलोक में उपस्थित | 02. भविष्यवाणी          |
| 03. भूतकाल में घटित   | 04. वर्तमान में उपस्थित |
| 05. इनमें से कोई नहीं |                         |

### Solution for Question 128

eng

Calm

**Q-129** Choose the word which is most nearly the **OPPOSITE** in meaning as the word printed in bold as used in the passage.

eng

**Exponentially**

- |                |               |
|----------------|---------------|
| 01. Digitally  | 02. Finally   |
| 03. Hopefully  | 04. Quarterly |
| 05. Marginally |               |

**Q-129** गद्यांश में प्रयुक्त शब्द 'विकसित' का समानार्थी निम्न में से कौन-सा है?

hi

- |                |              |
|----------------|--------------|
| 01. निर्धन     | 02. अविकसित  |
| 03. अल्पविकसित | 04. विकासशील |
| 05. समपन्न     |              |

### Solution for Question 129

eng

Marginally  
For other options:  
Quarterly (adv)- once in three months

**Q-130** Choose the word which is most nearly the **OPPOSITE** in meaning as the word printed in bold as used in the passage.

eng

Discourages

01. Threatens

02. Aims
03. Welcomes

04. Disturbs
05. Eliminates

Q-130 गद्यांश में प्रयुक्त शब्द ‘नाश’ का समानार्थी निम्नलिखित में से कौन-सा है?

hi

01. निर्माण

02. पोषण
03. ध्वंश

04. हराश
05. भंगुर

Solution for Question 130

eng

Welcomes  
For other options:  
Eliminates (v)- removes

Passage for Question 131, 132, 133, 134, 135 (ST-110 RRBPO (156-160) 2014)

eng Passage

Rearrange the following sentences (A), (B), (C), (D), (E) and (F) in the proper sequence to form a meaningful paragraph, then answer the questions given below them.

- (A) The winner is chosen solely at the discretion of the judging panel and there are
- (B) Different from the annual Man Booker Prize for Fiction as the judges consider a writer's body of work rather than a single novel, for this award.
- (C) Or whose work is generally available in translation in the English Language
- (D) The Man Booker International Prize recognises one writer for his or her achievement in fiction. Worth 60000 pounds
- (E) No submissions from publishers. The Man Booker International Prize is significantly
- (F) This prize is awarded every two years to a living author who has published fiction either originally in English.

hi Passage

नीचे (A), (B), (C), (D), (E), (F) और (G) में सात कथन दिए गए हैं। इन सभी सात कथनों को इस तरह व्यवस्थित करिए कि उनमें एक अर्थपूर्ण परिच्छेद बन जाए। फिर उसके बाद दिए गए प्रश्नों का उत्तर दीजिए।

- (A) किसी भी काम को पूर्णता से करने के लिए स्वस्थ दिल और स्वस्थ दिमाग दोनों जरूरी होते हैं।
- (B) इसलिए शास्त्रों में सांसारिक दृष्टि से सुखों की प्राप्ति के लिए शारीरिक परिश्रम और पुरुषार्थ का भी महत्व बताया गया है।
- (C) गीता में कहा गया है- योगः कर्मसु कौशलम् यानी जो भी काम करें, उसे पूरी तरह दक्षता, खूबसूरती और कुशलता के साथ करें।
- (D) हिन्दू धर्मग्रंथ शिवपुराण में खास तौर पर ऐसे ही चार काम न करने की सीख दी गई है, जो आखिरकार शरीर व स्वास्थ्य को बिगाड़ने वाले ही सिद्ध होते हैं।
- (E) दरअसल, जान है तो जहान है यह सूत्र सभी जानते और समझते हैं, लेकिन शरीर की सेहत खान-पान पर ही निर्भर नहीं, बल्कि ध्यान, योग, विचार, अध्ययन, चिंतन भी इसे ऊर्जा देते हैं।
- (F) ये शारीरिक पाप कर्म भी माने गए हैं। ;ळद्ध इसके लिए न केवल आलस्य से दूर रहना, बल्कि ऐसे शारीरिक कामों से दूर रहने की नसीहत दी गई है, जो तन व स्वास्थ्य ही नहीं, जीवन के लिए भी संकट भी साबित हो सकते हैं।

Q-131 Which of the following will be the **FOURTH** sentence after rearrangement?

eng

01. A

02. F
03. B

04. C
05. E

Q-131 उपरोक्त व्यवस्था में से कौन सा पुनर्व्यवस्था के बाद छठा वाक्य होगा?

hi

01. D

02. B
03. E

04. C
05. A

Solution for Question 131

eng

The correct rearrangement is DFCAEB.  
(D) Independent sentence. Opens the paragraph and tells us to whom is the Man Booker International Prize given.  
(F) Continues the meaning of 'D'. States the fact that it is given every two years.  
(C) tells what kind of work of the writers are awarded in this.  
(A) tells us how the winner is selected amongst so many  
(EB) explains that it is different from the Man Booker Prize and why.

Q-132 Which of the following will be the **FIFTH** sentence after rearrangement?

eng

01.

A
02.

D
03.

E
04.

B
05.

C

Q-132 उपरोक्त व्यवस्था में से कौन सा पुनर्व्यवस्था के बाद दूसरा वाक्य होगा?

hi

01.

E
02.

A
03.

C
04.

B
05.

F

Q-133 Which of the following will be the **FIRST** sentence after rearrangement?

eng

01.

B
02.

C
03.

D
04.

A
05.

F

Q-133 उपरोक्त व्यवस्था में से कौन सा पुनर्व्यवस्था के बाद चौथा वाक्य होगा?

hi

01.

D
02.

C
03.

G
04.

A
05.

E

Solution for Question 133

eng

The correct rearrangement is DFCAEB.  
(D) Independent sentence. Opens the paragraph and tells us to whom is the Man Booker International Prize given.  
(F) Continues the meaning of 'D'. States the fact that it is given every two years.  
(C) tells what kind of work of the writers are awarded in this.  
(A) tells us how the winner is selected amongst so many  
(EB) explains that it is different from the Man Booker Prize and why.

Q-134 Which of the following will be the **SECOND** sentence after rearrangement?

eng

01.

A
02.

D
03.

C
04.

B
05.

F

Q-134 उपरोक्त में से कौन सा पुनर्व्यवस्था के बाद तीसरा वाक्य होगा ?

hi

01.

F
02.

C
03.

D
04.

A
05.

E

Solution for Question 134

eng

The correct rearrangement is DFCAEB.  
(D) Independent sentence. Opens the paragraph and tells us to whom is the Man Booker International Prize given.  
(F) Continues the meaning of 'D'. States the fact that it is given every two years.  
(C) tells what kind of work of the writers are awarded in this.  
(A) tells us how the winner is selected amongst so many  
(EB) explains that it is different from the Man Booker Prize and why.

Q-135 Which of the following will be the **SIXTH** sentence after rearrangement?

eng

01.

A
02.

C
03.

F
04.

B
05.

D

Q-135 उपरोक्त में से कौन सा पुनर्व्यवस्था के बाद आखिरी वाक्य होगा ?

hi

01.

C
02.

E
03.

B
04.

F

**Q-136** Read each part of the sentence to find out if there is any error in it. The error, if any, will be in one part of the sentence. The number of that part is the answer. If there is no error, mark your answer as (5).

Helmets not only save your life (1)/ but also retain (2)/ the healthy of your hair (3)/ and serve as a skin hair protector (4)/ No error (5)

- |            |   |            |   |
|------------|---|------------|---|
| <b>01.</b> | 1 | <b>02.</b> | 2 |
| <b>03.</b> | 3 | <b>04.</b> | 4 |
| <b>05.</b> | 5 |            |   |

**Q-136** नीचे दिया गया प्रत्येक वाक्य चार भागों में बांटा गया है जिनमें (1), (2), (3) और (4) क्रमांक दिए गये हैं। आपको यह देखना है कि वाक्य के किसी भाग में व्याकरण, भाषा, वर्तनी, शब्दों के गलत प्रयोग या इसी तरह की कोई त्रुटि अगर होगी तो वाक्य के किसी एक भाग में ही होगी। उस भाग का क्रमांक ही उत्तर है। अगर वाक्य त्रुटिरहित है तो उत्तर (5) अर्थात् 'कोई त्रुटि नहीं' दीजिए।

साम्राज्यवादी देश पूर्व (1)/ उपनिवेशित देशों की गुलाम प्रवृत्तियों को (2)/ जिन्दा रखने में ही अपनी मुर्दा हुई विरासत (3)/ और खोई हुई शक्ति को जिन्दा रखे हुए हैं। (4)/ कोई त्रुटि नहीं है। (5)

- |            |   |            |   |
|------------|---|------------|---|
| <b>01.</b> | 1 | <b>02.</b> | 2 |
| <b>03.</b> | 3 | <b>04.</b> | 4 |
| <b>05.</b> | 5 |            |   |

### Solution for Question 136

**eng** 'Health' should replace 'healthy'- a noun is to be used.

hi 'सुर्दा हुई' के स्थान पर 'मरी हुई' आएगा।

**Q-137** Read each part of the sentence to find out if there is any error in it. The error, if any, will be in one part of the sentence. The number of that part is the answer. If there is no error, mark your answer as (5).

The campaign would increase awareness to prevent gender-bias (1)/ ensure protection and education of the girl child, (2)/ improve nutrition status of girls (3)/ and promote a protective environment for them (4)/ No error (5)

- |            |   |            |   |
|------------|---|------------|---|
| <b>01.</b> | 1 | <b>02.</b> | 2 |
| <b>03.</b> | 3 | <b>04.</b> | 4 |
| <b>05.</b> | 5 |            |   |

**Q-137** नीचे दिया गया प्रत्येक वाक्य चार भागों में बांटा गया है जिन्हें (1), (2), (3) और (4) क्रमांक दिए गये हैं। आपको यह देखना है कि वाक्य के किसी भाग में व्याकरण, भाषा, वर्तनी, शब्दों के गलत प्रयोग या इसी तरह की कोई त्रुटि अगर होगी तो वाक्य के किसी एक भाग में ही होगी। उस भाग का क्रमांक ही उत्तर है। अगर वाक्य त्रुटिरहित है तो उत्तर (5) अर्थात् 'कोई अशुद्धि नहीं' दीजिए।

हजारों वर्षों तक मुख्य रूप से (1)/ सभी संस्कृतियों के आधार में (2)/ किसी न किसी रूप में कोई उत्पादन और उपभोक्ता (3)/ सम्बन्धी सिद्धान्त ही रहा है। (4)/ कोई वृत्ति नहीं है। (5)

- |            |   |            |   |
|------------|---|------------|---|
| <b>01.</b> | 1 | <b>02.</b> | 2 |
| <b>03.</b> | 3 | <b>04.</b> | 4 |
| <b>05.</b> | 5 |            |   |

### Solution for Question 137

eng no error

**hi** 'उपभोक्ता' के स्थान पर 'उपभोग' आएगा।

**Q-138** Read each part of the sentence to find out if there is any error in it. The error, if any, will be in one part of the sentence. The number of that part is the answer. If there is no error, mark your answer as (5).

Within minutes of the discovery of animals, (1)/ residents were seen crowding their rooftops, (2)/ curious staring at the animals which had (3)/ unknowingly strayed into an unfamiliar territory (4)/ No error (5)

- 01.** 1                               **02.** 2  
**03.** 3                               **04.** 4  
**05.** 5

**Q-138** नीचे दिया गया प्रत्येक वाक्य चार भागों में बांटा गया है जिनमें (1), (2), (3) और (4) क्रमांक दिए गये हैं। आपको यह देखना है कि वाक्य के किसी भाग में व्याकरण, भाषा, वर्तनी, शब्दों के गलत प्रयोग या इसी तरह की कोई त्रुटि अगर होगी तो वाक्य के किसी एक भाग में ही होगी। उस भाग का क्रमांक ही उत्तर है। अगर वाक्य त्रुटिरहित है तो उत्तर (5) अर्थात् 'कोई अशुद्धि नहीं' दीजिए।

मिश्र में प्राचीन काल में (1)/ उस जमाने की इबारतों को पढ़ पाना (2)/ सिर्फ धार्मिक नेताओं के पदानुकूल था और इसी कारण वह एक नितान्त सुरक्षापूर्ण (3)/ और गुप्त रहस्य की तरह रखा जाता था। (4)/ कोई वृष्टि नहीं है। (5)

- |            |   |            |   |
|------------|---|------------|---|
| <b>01.</b> | 1 | <b>02.</b> | 2 |
| <b>03.</b> | 3 | <b>04.</b> | 4 |

05. 5

Solution for Question 138

eng	‘Curiously’ should replace ‘curious’- an adverb is required.
hi	‘सुरक्षापूर्ण’ के स्थान पर ‘सुरक्षित’ आएगा।

**Q-139** Read each part of the sentence to find out if there is any error in it. The error, if any, will be in one part of the sentence. The number of that part is the answer. If there is no error, mark your answer as (5).

With Holi fastly approaching, (1)/ heaps of branches wantonly dumped at various crossings (2)/ have resulted in long traffic snarls in the city, (3)/ raising the hackles of daily commuters, especially those travelling at night (4)/ No error (5)

01. 1
02. 2
03. 3
04. 4
05. 5

**Q-139** नीचे दिया गया प्रत्येक वाक्य चार भागों में बांटा गया है जिन्हें (1), (2), (3) और (4) क्रमांक दिए गये हैं। आपको यह देखना है कि वाक्य के किसी भाग में व्याकरण, भाषा, वर्तनी, शब्दों के गलत प्रयोग या इसी तरह की कोई त्रुटि अगर होगी तो वाक्य के किसी एक भाग में ही होगी। उस भाग का क्रमांक ही उत्तर है। अगर वाक्य त्रुटिरहित है तो उत्तर (5) अर्थात् ‘कोई अशुद्धि नहीं’ दीजिए।

किसी भी धर्म के लिए जीने के पहले वर्ष (1)/ कोई खास महत्व नहीं रखते सिवाय इसके कि (2)/ बालमनों पर इनकी छाप ऐसी पड़े कि (3)/ जीवन भर वे उनका अनुसरण करें। (4)/ कोई त्रुटि नहीं है। (5)

01. 1
02. 2
03. 3
04. 4
05. 5

Solution for Question 139

eng	‘Fast’ is the appropriate word.
hi	‘जीने’ के स्थान पर जीवन’ आएगा।

**Q-140** Read each part of the sentence to find out if there is any error in it. The error, if any, will be in one part of the sentence. The number of that part is the answer. If there is no error, mark your answer as (5).

The lack of parking space (1)/ across the city has created (2)/ a tough task for the district police administration (3)/ to regulate traffic (4)/ No error (5)

01. 1
02. 2
03. 3
04. 4
05. 5

**Q-140** नीचे दिया गया प्रत्येक वाक्य चार भागों में बांटा गया है जिन्हें (1), (2), (3) और (4) क्रमांक दिए गये हैं। आपको यह देखना है कि वाक्य के किसी भाग में व्याकरण, भाषा, वर्तनी, शब्दों के गलत प्रयोग या इसी तरह की कोई त्रुटि अगर होगी तो वाक्य के किसी एक भाग में ही होगी। उस भाग का क्रमांक ही उत्तर है। अगर वाक्य त्रुटिरहित है तो उत्तर (5) अर्थात् ‘कोई अशुद्धि नहीं’ दीजिए।

अमेरिका के कामगार बच्चों के इतिहास में (1)/ कई स्वर्ण पृष्ठ हैं जब बच्चों ने (2)/ अपने मालिकों के खिलाफ (3)/ विद्रोह का ऐलान किया। (4)/ कोई त्रुटि नहीं है।(5)

01. 1
02. 2
03. 3
04. 4
05. 5

**Q-141** In each of the following sentences there is a blank space given. Below each five words have been denoted by numbers (1), (2), (3), (4) and (5). Find out which word can be filled up in the blank to make the sentence meaningfully complete.

For the past few days, the temperature was -----and the air was dry, giving hope that flu cases will go down.

01. Marking
02. Pushing
03. Soaring
04. Ceiling
05. Driving

**Q-141** नीचे दिए गए प्रत्येक प्रश्न में एक रिक्त स्थान छूटा हुआ है और उसके नीचे पांच शब्द सुझाए गए हैं। इनमें से किस एक शब्द को रिक्त स्थान पर रख देने से वह वाक्य एक अर्थपूर्ण वाक्य बन जाता है। सही शब्द को ज्ञात कर उसकी क्रम संख्या को उत्तर के रूप में अंकित कीजिए। आपको दिए गए शब्दों में से सर्वाधिक उपयुक्त शब्द का चयन करना है।

उन्नीसवीं शताब्दी के आरंभ में विज्ञान की जो अपूर्ण दशा थी उसकी ओर ध्यान देते हुए यही कहना होगा कि गत 50 वर्षों के बीच विज्ञान ने बड़ी ----- उन्नति की है।

01. भीषण
02. गंभीर
03. विलक्षण
04. गहन
05. तीक्ष्ण

Solution for Question 141

eng	Soaring
hi	विलक्षण

**Q-142**  
**eng** In each of the following sentences there is a blank space given. Below each five words have been denoted by numbers (1), (2), (3), (4) and (5). Find out which word can be filled up in the blank to make the sentence meaningfully complete.

Humans are entering animal kingdom for their own needs hence the conflicts are getting -----and intervention is required to allow animals live and survive.

01. Common

02. Informal

03. Subside

04. Homely

05. Standard
- Q-142**  
**hi** नीचे दिए गए प्रत्येक प्रश्न में एक रिक्त स्थान छूटा हुआ है और उसके नीचे पांच शब्द सुझाए गए हैं। इनमें से किस एक शब्द को रिक्त स्थान पर रख देने से वह वाक्य एक अर्थपूर्ण वाक्य बन जाता है। सही शब्द को ज्ञात कर उसकी क्रम संख्या को उत्तर के रूप में अंकित कीजिए। आपको दिए गए शब्दों में से सर्वाधिक उपयुक्त शब्द का चयन करना है।

- जीवों के समस्त व्यापारों और धर्मों के ----- के लिए हमें पहले शरीर को लेना चाहिए जिसमें जीवन सम्बन्धी भिन्न भिन्न क्रियाएँ देखी जाती हैं।
01. अन्वेषण

02. दोहन

03. समाधान

04. उत्थान

05. प्रोत्साहन

Solution for Question 142	
<b>eng</b>	Common For other options: Subside (v)- come down Homely (adj)- comfortable

**Q-143**  
**eng** In each of the following sentences there is a blank space given. Below each five words have been denoted by numbers (1), (2), (3), (4) and (5). Find out which word can be filled up in the blank to make the sentence meaningfully complete.

In the -----of a road, most residents were either forced to walk or use horses for commuting.

01. Hence

02. Presence

03. Chance

04. Absence

05. Sustenance
- Q-143**  
**hi** नीचे दिए गए प्रत्येक प्रश्न में एक रिक्त स्थान छूटा हुआ है और उसके नीचे पांच शब्द सुझाए गए हैं। इनमें से किस एक शब्द को रिक्त स्थान पर रख देने से वह वाक्य एक अर्थपूर्ण वाक्य बन जाता है। सही शब्द को ज्ञात कर उसकी क्रम संख्या को उत्तर के रूप में अंकित कीजिए। आपको दिए गए शब्दों में से सर्वाधिक उपयुक्त शब्द का चयन करना है।

- शरीर का संचालन भी उन्हीं ----- नियमों के अनुसार होता है जिनके अनुसार मनुष्य की बनाई हुई मशीन का होता है।
01. जैविक

02. सांसारिक

03. काल्पनिक

04. भौतिक

05. आध्यात्मिक

Solution for Question 143	
<b>eng</b>	Absence For other options: Sustenance (n)- maintenance
<b>hi</b>	भौतिक

**Q-144**  
**eng** In each of the following sentences there is a blank space given. Below each five words have been denoted by numbers (1), (2), (3), (4) and (5). Find out which word can be filled up in the blank to make the sentence meaningfully complete.

Schools that send children for door to door collection of money for various causes will be -----under the Child Rights Act.

01. Hailed

02. Distanced

03. Mourned

04. Prosecuted

05. Liberated
- Q-144**  
**hi** नीचे दिए गए प्रत्येक प्रश्न में एक रिक्त स्थान छूटा हुआ है और उसके नीचे पांच शब्द सुझाए गए हैं। इनमें से किस एक शब्द को रिक्त स्थान पर रख देने से वह वाक्य एक अर्थपूर्ण वाक्य बन जाता है। सही शब्द को ज्ञात कर उसकी क्रम संख्या को उत्तर के रूप में अंकित कीजिए। आपको दिए गए शब्दों में से सर्वाधिक उपयुक्त शब्द का चयन करना है।

- आप जिस विषय की ----- लिए यहाँ आए हैं वह हमेशा से मेरे लिए भी प्रिय विषय रहा है।
01. लालसा

02. उत्सुकता

03. पुस्तक

04. जिज्ञासा

05. जानकारी

### Solution for Question 144

**eng** Prosecuted  
For other options:  
Hailed (v)- welcomed  
Liberated (v)- given freedom

**hi** जिज्ञासा

**Q-145** In each of the following sentences there is a blank space given. Below each five words have been denoted by numbers (1), (2), (3), (4) and (5). Find out which word can be filled up in the blank to make the sentence meaningfully complete.

**eng**

As the doors of many of the buses get jammed during accidents and fire, emergency exits were planned to speed up -----operations.

01. Service

02. Rescue

03. Peril

04. Recover

05. Acquit

**Q-145** नीचे दिए गए प्रत्येक प्रश्न में एक रिक्त स्थान छूटा हुआ है और उसके नीचे पांच शब्द सुझाए गए हैं। इनमें से किस एक शब्द को रिक्त स्थान पर रख देने से वह वाक्य एक अर्थपूर्ण वाक्य बन जाता है। सही शब्द को ज्ञात कर उसकी क्रम संख्या को उत्तर के रूप में अंकित कीजिए। आपको दिए गए शब्दों में से सर्वाधिक उपयुक्त शब्द का चयन करना है।

**hi**

अपने बचपन के दिनों में मैंने राजकोट में हिंदुओं और मुसलमानों को एक-दूसरे के घरों में आते-जाते, घुलते-मिलते, एक-दूसरे के पर्व-त्यौहार में ----- होते देखा है।

01. फरीक

02. शरीक

03. शतरीक

04. फारिग

05. शरीफ

### Solution for Question 145

**eng** Rescue  
For other options:  
Peril (n)- danger  
Acquit (v)- let go

**hi** शरीक

### Passage for Question 146, 147, 148, 149, 150, 151, 152, 153, 154, 155 (ST-110 RRBPO (146-155) 2014)

**eng** Passage

In the following passage there are blanks each of which has been numbered. These numbers are printed below the passage and against each five words have been suggested, one of which fits the blanks appropriately. Find out the appropriate word in each case.

Around the world three billion people have no access to modern cooking fuels. They **(A)** mostly on direct burning of solid biomass for cooking and heating. The smoke from these **(B)** stoves causes some four million deaths annually, **(C)** millions of tonnes of crops and leads to global warming and large-scale regional climate change. In India, 400 million people, of which 90 per cent are women, are **(D)** to indoor air pollution from inefficient cookstoves. This results in respiratory, pulmonary and vision problems. In addition, inefficient cookstoves mean that women spend five to eight hours per day on cooking **(E)**, 20 per cent of that time collecting fuel. This is time that could be **(F)** on educational or other activities. Searching for fuel also puts women and children at risk of violence. The government of India is taking action. The National Programme on Improved Cookstoves has been successful at the State level. The National Biomass Cookstoves Initiative (NBCI) is providing improved cookstoves, which directly help the weakest and most **(G)** sections of society. But extending the take-up of new cookstoves involves changing perceptions and practices around some of the most **(H)** activities of a **(I)**. To make such changes sustainable, local conditions need to be taken into account. The stoves need to be **(J)** and the households need to see tangible benefits.

**hi** Passage

नीचे दिए परिच्छेद में कुछ रिक्त स्थान छोड़ दिए गए हैं तथा उन्हें प्रश्न संख्या से दर्शाया गया है। ये संख्याएं परिच्छेद के नीचे मुद्रित हैं, और प्रत्येक के सामने (1), (2), (3), (4) और (5) विकल्प दिए गए हैं। इन पांचों में से कोई एक रिक्त स्थान को पूरे परिच्छेद के संदर्भ में उपयुक्त ढंग से पूरा कर देता है। आपको वह विकल्प ज्ञात करना है, और उसका क्रमांक ही उत्तर के रूप में दर्शाना है। आपको दिए गए विकल्पों में से सबसे उपयुक्त विकल्प का चयन करना है।

भारत **(A)** पर आए ऑस्ट्रेलिया के प्रधानमंत्री टोनी एबोट और भारतीय पीएम नरेंद्र मोदी की मौजूदगी में दोनों देशों के बीच सिविल न्यूक्लियर डील पर हस्ताक्षर हुए। इससे भारत के परमाणु ऊर्जा संयंत्रों में परमाणु **(B)** यूरैनियम की आपूर्ति का मार्ग प्रशस्त हो गया। दोनों देशों के बीच खेल और **(C)** के क्षेत्र में भी करार हुए। इसके पहले एबोट ने पीएम मोदी को वे मूर्तियां सौंपी, जो सालों पहले तमिलनाडु से तस्करो द्वारा **(D)** किए जाने के बाद किसी तरह ऑस्ट्रेलिया के राष्ट्रीय संग्रहालय में **(E)** गई थीं। वहां संग्रहालय में काफी वक्त से रखी गईं नटराज और अर्धनारीश्वर की **(F)** एबोट ने भारत को सौंप दिया। एबोट ने एक बिजनेस मीट में पहले ही न्यूक्लियर डील होने की घोषणा कर दी थी। एबोट और भारतीय प्रधानमंत्री नरेंद्र मोदी के बीच हैदराबाद हाउस में द्विपक्षीय बैठक में समझौतों पर **(G)** हुए। एबोट ने कहा कि मोदी और वह, **(H)** ही चाहते हैं कि उन्हें 'इन्फ्रास्ट्रक्चर' प्रधानमंत्री के रूप में जाना जाए। उन्होंने कहा कि वह उम्मीद करते हैं कि उनकी **(I)** से भारत और ऑस्ट्रेलिया के बीच मित्रता को **(J)** मिलेगी।

**Q-146** Choose the correct option for (A)

**eng**

01. depend

03. establish

05. relegate
02. flaunt

04. tempt

Q-146 (A) के लिये सही विकल्प का चयन करें।  
hi

01. दौरे

03. आने

05. इनमें से कोई नहीं
02. गये

04. घूमने

Solution for Question 146

eng Depend  
For other options:  
Relegate (v)- come to a lower level

Q-147 Choose the correct option for (B)  
eng

01. economic

03. intricate

05. advanced
02. immature

04. rudimentary

Q-147 (B) के लिये सही विकल्प का चयन करें।  
hi

01. गोले

03. अयस्क

05. इनमें से कोई नहीं
02. अभ्रक

04. ईंधन

Solution for Question 147

eng Rudimentary  
For other options:  
Immature (adj)- not mature  
Intricate (adj)- Fancy

Q-148 Choose the correct option for (C)  
eng

01. dissolves

03. cultivates

05. improves
02. destroys

04. validates

Q-148 (C) के लिये सही विकल्प का चयन करें।  
hi

01. देश

03. खिलौना

05. इनमें से कोई नहीं
02. शिक्षा

04. परिवार

Solution for Question 148

eng Destroys  
For other options:  
Dissolves (v)- liquefies  
Validates (v)- proves

Q-149 Choose the correct option for (D)  
eng

01. inclined

03. catered

05. evident
02. supposed

04. exposed

Q-149 (D) के लिये सही विकल्प का चयन करें।  
hi

01. पाये

03. गायब

05. इनमें से कोई नहीं
02. निकालें

04. चोरी

Solution for Question 149



eng	Exposed For other options: Catered (v)- provided Evident (adj)- clear
-----	--

**Q-150** Choose the correct option for (E)

eng	
	01. varieties
	02. indolence
	03. accessories
	04. prepared
	05. activities

**Q-150** (E) के लिये सही विकल्प का चयन करें।

hi	
	01. स्थित
	02. पायी
	03. मिल
	04. रखा
	05. पहुंच

**Solution for Question 150**

eng	activities For other options: Accessories (n)- additions Indolence (n)- laziness
-----	---

**Q-151** Choose the correct option for (F)

eng	
	01. consume
	02. spent
	03. expanded
	04. energized
	05. lacked

**Q-151** (F) के लिये सही विकल्प का चयन करें।

hi	
	01. आकृति
	02. प्रतिमाएं
	03. खिलौने
	04. फोटो
	05. इनमें से कोई नहीं

**Solution for Question 151**

eng	Spent For other options: Energized (v)- filled with energy Expanded (v)- increased
-----	---

**Q-152** Choose the correct option for (G)

eng	
	01. liable
	02. sensitive
	03. vulnerable
	04. unsafe
	05. publicize

**Q-152** (G) के लिये सही विकल्प का चयन करें।

hi	
	01. मिलन
	02. दोस्ती
	03. हस्ताक्षर
	04. दुश्मनी
	05. इनमें से कोई नहीं

**Solution for Question 152**

eng	Vulnerable For other options: Liable (adj)- responsible Publicize (v)- made known
-----	--

**Q-153** Choose the correct option for (H)

eng	
	01. trivial
	02. major

03. key

05. necessary

04. fundamental

02. समझौता

Q-153

(H) के लिये सही विकल्प का चयन करें।

hi

01. सभी

03. वक्त

05. इनमें से कोई नहीं

02. समझौता

04. दोनों

Solution for Question 153	
eng	Fundamental For other options: Trivial (adj)- unimportant

Q-154

Choose the correct option for (I)

eng

01. household

03. society

05. asylum

02. industry

04. institution

Q-154

(I) के लिये सही विकल्प का चयन करें।

hi

01. यात्रा

03. दोस्ती

05. इनमें से कोई नहीं

02. भ्रमण

04. हस्ताक्षर

Solution for Question 154	
eng	Household For other options: Asylum (n)- shelter

Q-155

Choose the correct option for (J)

eng

01. nominal

03. bargain

05. creative

02. fair

04. affordable

Q-155

(J) के लिये सही विकल्प का चयन करें।

hi

01. रोशनी

03. दिशा

05. इनमें से कोई नहीं

02. रास्ता

04. नई ऊर्जा

Solution for Question 155	
eng	Affordable For other options: Bargain (n)- negotiation Nominal (adj)- for namesake
hi	

Q-156

Which of the Phrases(1), (2) (3) and (4) given below each sentence should replace the phrases printed in bold in the sentence to make it grammatically correct. If the sentence is correct as it is given and no correction is required, mark (5) as the answer.

eng

Every village **had a grazing landed** for cattle where during summer the animals not only got grass but also water.

01. Had a land grazing

03. Had a grazing land

05. No correction required

02. Has a graze land

04. Have a graze lands

Q-156

प्रत्येक वाक्य में रेखांकित वाक्यांश को नीचे दिये गये वाक्यांशों (1), (2), (3) और (4) में से किसके द्वारा प्रतिस्थापित करने पर दिया गया वाक्य व्याकरण के आधार पर शुद्ध हो जायेगा। यदि दिया गया वाक्य शुद्ध है और किसी भी शुद्धिकरण की आवश्यकता नहीं है तो अपना उत्तर (5) दीजिए।

hi

अगर अफ्रीका की नीग्रो जाति ने गोरे यूरोपियनों की तरह **दुनिया पर सत्ता किया होता** तो स्त्रियों की सुंदरता की कसौटी निश्चय ही अलग होती।

01. दुनिया पर एहसान किया होता

03. दुनिया पर घमासान किया होता

03. दुनिया पर शासन किया होता 04. दुनिया की प्रशंसा की होती
05. कोई सुधार आवश्यक नहीं है।

### Solution for Question 156

eng 'Grazing' would serve as an adjective.

hi 'सत्ता' के स्थान पर 'शासन' आएगा।

Q-157 Which of the Phrases(1), (2) (3) and (4) given below each sentence should replace the phrases printed in bold in the sentence to make it grammatically correct. If the sentence is correct as it is given and no correction is required, mark (5) as the answer.

Many of the healthcare centres **some are not proper maintained** will get a facelift and the issue of manpower shortage in the health centres will also be addressed.(

01. Which have not proper maintained 02. That are not properly maintained
03. What are not proper maintaining 04. Few were not properly maintains
05. No correction required

Q-157 प्रत्येक वाक्य में रेखांकित वाक्यांश को नीचे दिये गये वाक्यांशों (1), (2), (3) और (4) में से किसके द्वारा प्रतिस्थापित करने पर दिया गया वाक्य व्याकरण के आधार पर शुद्ध हो जायेगा। यदि दिया गया वाक्य शुद्ध है और किसी भी शुद्धिकरण की आवश्यकता नहीं है तो अपना उत्तर (5) दीजिए।

यह सामान्य अनुभव है कि बड़े नेता किसी सरकारी विभाग के कार्यक्रम में पहुंचते हैं, तो वहां का लगभग सारा अमला अपना कार्यकाज छोड़ कर उस में शिरकत करने पहुंच जाता है।

01. अपना गोरखधंधा छोड़ कर 02. अपना कामकाज छोड़ कर
03. अपना मान सम्मान छोड़ कर 04. अपना घर-परिवार छोड़ कर
05. कोई सुधार आवश्यक नहीं है।

### Solution for Question 157

eng 'Properly' as an adverb would qualify verb 'maintained'

hi 'कार्यकाज' के स्थान पर 'कामकाज' आएगा।

Q-158 Which of the Phrases(1), (2) (3) and (4) given below each sentence should replace the phrases printed in bold in the sentence to make it grammatically correct. If the sentence is correct as it is given and no correction is required, mark (5) as the answer.

India is rich in indigenouse knowledge of our geography and topography and this knowledge **is the most use fully one**.

01. Is the most useful one 02. Having the most useful one
03. Were the most usefully ones 04. For the most usefully ones
05. No correction required

Q-158 प्रत्येक वाक्य में रेखांकित वाक्यांश को नीचे दिये गये वाक्यांशों (1), (2), (3) और (4) में से किसके द्वारा प्रतिस्थापित करने पर दिया गया वाक्य व्याकरण के आधार पर शुद्ध हो जायेगा। यदि दिया गया वाक्य शुद्ध है और किसी भी शुद्धिकरण की आवश्यकता नहीं है तो अपना उत्तर (5) दीजिए।

जिस रास्ते से नेताओं का काफिला गुजरता होता है, उन पर प्रायः सैकड़ों स्कूली बच्चों को घंटों कतारबद्ध खड़ा रखा जाता है।

01. नेताओं का काफिला गुजरना होता है, 02. नेताओं का काफिला गुजर गया होता है,
03. नेताओं का काफिला गुजर जाना होता है, 04. नेताओं का काफिला गुजारना होता है,
05. कोई सुधार आवश्यक नहीं है।

### Solution for Question 158

eng 'useful' is an adjective.

hi 'गुजरता' के स्थान पर 'गुजरना' आएगा।

Q-159 Which of the Phrases(1), (2) (3) and (4) given below each sentence should replace the phrases printed in bold in the sentence to make it grammatically correct. If the sentence is correct as it is given and no correction is required, mark (5) as the answer.

Showers have damaged mango crop as **fruits at many trees got drop** due to heavy wind and showers.

01. Fruits for many trees got drops 02. Fruits from many trees get dropping
03. Fruits on many trees get drop 04. Fruits from many trees got dropped
05. No correction required

Q-159 प्रत्येक वाक्य में रेखांकित वाक्यांश को नीचे दिये गये वाक्यांशों (1), (2), (3) और (4) में से किसके द्वारा प्रतिस्थापित करने पर दिया गया वाक्य व्याकरण के आधार पर शुद्ध हो जायेगा। यदि दिया गया वाक्य शुद्ध है और किसी भी शुद्धिकरण की आवश्यकता नहीं है तो अपना उत्तर (5) दीजिए।

अगर आप लोगों से संपर्क करने और उनके बीच खुल कर बोलने में असरल महसूस करते हैं तो आज से ही इसे बदलने की कोशिश शुरू करें।

01. खुल कर बोलने में असान महसूस करते हैं
03. खोल कर बोलने में सहज महसूस करते हैं
05. कोई सुधार आवश्यक नहीं है।

02. खुल कर बोलने में आसहज महसूस करते हैं
04. खुल कर बोलने में असहज महसूस करते हैं

### Solution for Question 159

**eng** 'Got dropped' means 'fell'

**hi** 'असरल' के स्थान पर 'असहज' आएगा।

**Q-160 eng** Which of the Phrases(1), (2) (3) and (4) given below each sentence should replace the phrases printed in bold in the sentence to make it grammatically correct. If the sentence is correct as it is given and no correction is required, mark (5) as the answer.

Sleep disorders **frequently occurrence** in psychiatric and medical disorders, amplifying the suffering and disability that accompany them.

01. Frequent occurred into
02. Frequently co-occur with
03. Frequent occur on
04. Frequent occurrence at
05. No correction required

**Q-160 hi** प्रत्येक वाक्य में रेखांकित वाक्यांश को नीचे दिये गये वाक्यांशों (1), (2), (3) और (4) में से किसके द्वारा प्रतिस्थापित करने पर दिया गया वाक्य व्याकरण के आधार पर शुद्ध हो जायेगा। यदि दिया गया वाक्य शुद्ध है और किसी भी शुद्धिकरण की आवश्यकता नहीं है तो अपना उत्तर (5) दीजिए।

अमृत क्रांति के रूप में भारत सरकार ने नदी संपर्क योजना का प्रस्ताव पारित करा जिसमें लगभग सैंतीस नदियों को जोड़ने की बात कही गई।

01. योजना का प्रस्ताव पास करा
02. योजना का प्रस्ताव पारित किया
03. योजना के प्रस्ताव पारित करे
04. योजना के प्रस्ताव पास करे
05. कोई सुधार आवश्यक नहीं है।

### Solution for Question 160

**eng** 'Frequently' is an adverb qualifying verb 'co-occur'

**Q-161 eng** Which of the following option to the most frequently used instructions of a computer program are likely to be fetched from:

01. registers
02. Flip-Flop
03. Hard disk
04. RAM
05. None of these

**Q-161 hi** निम्नलिखित में से एक कंप्यूटर प्रोग्राम के सर्वाधिक इस्तेमाल निर्देश के कहाँ से मिलने की संभावना होती है?

01. रजिस्टर्स
02. फ्लिप-फ्लॉप
03. हार्ड डिस्क
04. रैम
05. इनमें से कोई नहीं

### Solution for Question 161

**eng** The most frequently used instructions of a computer program are likely to be fetched from Cache memory.

**hi** एक कंप्यूटर प्रोग्राम के सर्वाधिक इस्तेमाल निर्देश कैश मेमोरी से मिलने की संभावना होती है।

**Q-162 eng** To select multiple non-adjacent cells in a worksheet(EXCEL) you will click them by holding-

01. CTRL key
02. Ctrl+Shift key
03. Shift Key
04. ALT key
05. None of these

**Q-162 hi** एक वर्कशीट में ना जुड़े हुए सेल को एक साथ जोड़ने के लिए सेल को क्लिक करने के साथ ----- दबाते हैं।

01. CTRL key
02. Ctrl+Shift key
03. Shift Key
04. ALT key
05. इनमें से कोई नहीं

### Solution for Question 162

**eng** - Holding Ctrl and clicking cells will allow you to select multiple cells that are not joined with each other.

**hi** - CTRL की को दबाकर और सेल को क्लिक करके आप कई सेल को सेलेक्ट करते हैं जो जुड़ी हुयी नहीं होती है।

**Q-163** Which of the following option is the short cut for opening Task Manager?  
**eng**

01.

Alt + Windows + Del
02.

Alt + Shift + Del
03.

Ctrl + Alt + Del
04.

Ctrl + Shift + Del
05.

None of these

**Q-163** निम्न में से कौन सा टास्क मैनेजर खोलने के लिए शॉर्टकट है?  
**hi**

01.

ऑल्ट+ विंडोज+ डेल
02.

ऑल्ट + शिफ्ट + डेल
03.

कंट्रोल + ऑल्ट + डेल
04.

कंट्रोल + शिफ्ट + डेल
05.

इनमें से कोई नहीं

**Solution for Question 163**

**eng** Ctrl + Alt + Del is the short cut for opening Task Manager.

**hi** Ctrl + Alt + Del टास्क मैनेजर खोलने के लिए शॉर्टकट है।

**Q-164** Which of the following type of software secretly collects information about you and your internet habits?  
**eng**

01.

Detect ware
02.

Spam
03.

Spyware
04.

Adware
05.

None of these

**Q-164** निम्नलिखित में से किस प्रकार का सॉफ्टवेयर गुप्त रूप से आपके और आपके इंटरनेट की आदतों के बारे में जानकारी एकत्र करता है?  
**hi**

01.

डिटेक्ट वेयर
02.

स्पैम
03.

स्पाइवेयर
04.

एडवेयर
05.

इनमें से कोई नहीं

**Solution for Question 164**

**eng** Spyware software secretly collects information about you and your internet habits.

**hi** स्पाइवेयर सॉफ्टवेयर गुप्त रूप से आपके और आपके इंटरनेट की आदतों के बारे में जानकारी एकत्र करता है।

**Q-165** Which of the following options to have for dial up internet connection?  
**eng**

01.

Telephone Line
02.

Internet Account with an ISP
03.

Computer with modem
04.

All of the above
05.

None of these

**Q-165** निम्नलिखित में से डायल अप इंटरनेट कनेक्शन के लिए आपको किसकी जरूरत होती है?  
**hi**

01.

टेलीफोन लाइन
02.

एक आईएसपी के साथ इंटरनेट एकाउण्ट
03.

मॉडेम के साथ कंप्यूटर
04.

उपरोक्त सभी
05.

इनमें से कोई नहीं

**Solution for Question 165**

**eng** Telephone Line,Internet Account with an ISP and Computer with modem these all are required

**hi** एक आईएसपी के साथ इंटरनेट एकाउण्ट,टेलीफोन लाइन और मॉडेम के साथ कंप्यूटर ये सभी की जरूरत होती है

**Q-166** Remote Computing Service involves the use of time sharing and \_\_\_\_\_.  
**eng**

01.

interactive processing
02.

multi-processing

03. batch processing

05. Both 1 and 2
04. real-time processing
- Q-166 hi दूरस्थ कम्प्यूटिंग सेवा में टाइम शेयरिंग और ----- का इस्तेमाल शामिल होता है।
01. इंटरैक्टिव प्रोसेसिंग

02. मल्टीप्रोसेसिंग
03. बैच प्रोसेसिंग

04. रियल टाइम प्रोसेसिंग
05. 1 और 2 दोनों

Solution for Question 166	
eng	batch processing
hi	बैच प्रोसेसिंग

- Q-167 eng A stack is \_\_\_\_\_
01. a 16-bit memory address stored in the program counter

02. a 16-bit register in the microprocessor
03. a set of memory locations in R/WM reserved for storing information temporarily during the execution of computer

04. an 8-bit register in the microprocessor
05. None of these

- Q-167 hi एक स्टैक \_\_\_\_\_ होता है
01. एक 16 बिट मेमोरी एड्रेस कार्यक्रम काउंटर में संग्रहित

02. माइक्रोप्रोसेसर में एक 16 बिट रजिस्टर
03. R/EMमें मेमोरी स्थानों का एक सेट जो कंप्यूटर के एकजीक्यूशन के दौरान अस्थायी रूप से जानकारी के भंडारण के लिए आरक्षित होती है

04. माइक्रोप्रोसेसर में एक 8 बिट रजिस्टर
05. इनमें से कोई नहीं

Solution for Question 167	
eng	Stack is a set of memory locations in R/WM reserved for storing information temporarily during the execution of computer
hi	स्टैक R/WM में मेमोरी लोकेशन का एक सेट होता है जिसे कंप्यूटर के एक्सिक्यूशन के दौरान अस्थायी रूप से इनफॉर्मेशन स्टोर करने के लिए रिजर्व रखा जाता है।

- Q-168 eng The scrambling of code is well known as:
01. encryption.

02. password-proofing.
03. scrambling.

04. a firewall.
05. None of these
- Q-168 hi कोड की स्कैम्बलिंग को-----के रूप में जाना जाता है।
01. एन्क्रिप्शन

02. पासवर्ड प्रूफिंग
03. स्कैम्बलिंग

04. फायरवॉल
05. इनमें से कोई नहीं

Solution for Question 168	
eng	The scrambling of code is known as encryption.
hi	कोड की स्कैम्बलिंग को एन्क्रिप्शन के रूप में जाना जाता है।

- Q-169 eng If a user needs information instantly available on CPU, it should be stored at \_\_\_\_\_
01. on a CD

02. in secondary storage
03. in RAM

04. in the CPU
05. None of these
- Q-169 यदि यूजर को CPU पर उपलब्ध जानकारी की तुरंत जरूरत है, तो यह----- संग्रहीत किया जाना चाहिए।

- |                              |                                 |
|------------------------------|---------------------------------|
| <b>01.</b> एक सीडी पर        | <b>02.</b> सेकेंडरी स्टोरेज में |
| <b>03.</b> रैम में           | <b>04.</b> सीपीयू में           |
| <b>05.</b> इनमें से कोई नहीं |                                 |

### Solution for Question 169

**eng** If a user needs information instantly available to the CPU, it should be stored in secondary storage memory.

**hi** यदि यूजर को CPU पर उपलब्ध जानकारी की तुरंत जरूरत है, तो यह सेकेंडरी स्टोरेज में संग्रहीत किया जाना चाहिए।

**Q-170** The first part of a complete URL is define the \_\_\_\_\_ needed to access the web resource.

**eng**

- |                          |                     |
|--------------------------|---------------------|
| <b>01.</b> address       | <b>02.</b> name     |
| <b>03.</b> communication | <b>04.</b> protocol |
| <b>05.</b> location      |                     |

**Q-170** वेब रिसोर्स को एक्सेस करने के लिये -----एक पूर्ण यूआरएल का पहला भाग होता है।

**hi**

- |                        |                      |
|------------------------|----------------------|
| <b>01.</b> एड्रेस      | <b>02.</b> नाम       |
| <b>03.</b> कम्युनिकेशन | <b>04.</b> प्रोटोकॉल |
| <b>05.</b> लोकेशन      |                      |

### Solution for Question 170

**eng** The first part of a complete URL is the Protocol needed to access the web resource.

**hi** प्रोटोकॉल

**Q-171** The \_\_\_\_\_ program compresses larger files into a smaller file.

**eng**

- |                          |                             |
|--------------------------|-----------------------------|
| <b>01.</b> WinZip        | <b>02.</b> Win Style        |
| <b>03.</b> Win Shrink    | <b>04.</b> All of the above |
| <b>05.</b> None of these |                             |

**Q-171** ----- प्रोग्राम बड़ी फाइलों को छोटी फाइलों में कम्प्रेस करता है।

**hi**

- |                              |                        |
|------------------------------|------------------------|
| <b>01.</b> विनज़िप           | <b>02.</b> विन स्त्रिक |
| <b>03.</b> विन स्टायल        | <b>04.</b> उपरोक्त सभी |
| <b>05.</b> इनमें से कोई नहीं |                        |

### Solution for Question 171

**eng** The WinZip program compresses larger files into a smaller file.

**hi** विनज़िप प्रोग्राम बड़ी फाइलों को छोटी फाइलों में कम्प्रेस करता है।

**Q-172** POP-3 is a \_\_\_\_\_.

**eng**

- |                          |                 |
|--------------------------|-----------------|
| <b>01.</b> Server        | <b>02.</b> File |
| <b>03.</b> Protocol      | <b>04.</b> All  |
| <b>05.</b> None of these |                 |

**Q-172** POP-3 एक \_\_\_\_\_ है।

**hi**

- |                              |                 |
|------------------------------|-----------------|
| <b>01.</b> सर्वर             | <b>02.</b> फाइल |
| <b>03.</b> प्रोटोकॉल         | <b>04.</b> सभी  |
| <b>05.</b> इनमें से कोई नहीं |                 |

### Solution for Question 172

**eng** -a server is a computer program running to serve the requests of other programs, the “clients”.

-In information technology, a protocol is the special set of rules that end points in a telecommunication connection use when they communicate.

**hi** - सर्वर एक कम्प्यूटर प्रोग्राम है जो दूसरे प्रोग्राम के रिक्वेस्ट को सर्व करता है। - इन्फार्मेशन टेक्नालॉजी में, एक प्रोटोकॉल, नियमों का एक सेट होता है, जिसे कम्यूनिकेशन के अन्तिम प्वाइंट (होस्ट) कम्यूनिकेट के लिए प्रयोग करते हैं।

**Q-173** XHTML is .....accessible to more computers and browsers.

eng

01.

More
02.

More or Less
03.

About the same
04.

Less
05.

None of these

**Q-173** XHMTL अधिक कंप्यूटर और ब्राउजर के लिए ---- सुलभ है।

hi

01.

अधिक
02.

अधिक या कम
03.

लगभग समान
04.

कम
05.

इनमें से कोई नहीं

**Solution for Question 173**

eng

XHMTL is more accessible to more computers and browsers.

hi

XHMTL अधिक कंप्यूटर और ब्राउजर के लिए अधिक सुलभ है।

**Q-174** \_\_\_\_\_ gate is called as Inverter gate.

eng

01.

NOR
02.

NOT
03.

AND
04.

XOR
05.

NAND

**Q-174** \_\_\_\_\_ गेट को इन्वर्टर गेट कहा जाता है।

hi

01.

NOR
02.

NOT
03.

AND
04.

XOR
05.

NAND

**Solution for Question 174**

eng

NOT gate is called as Inverter gate.

hi

**NOT** गेट को इन्वर्टर गेट कहा जाता है

**Q-175** The \_\_\_\_\_ cells involves creating a single cell by combining two or more selected cells.

eng

01.

Formatting
02.

Editing
03.

Embedding
04.

Splitting
05.

None of these

**Q-175** ----- सेल दो या अधिक चयनित सेल के संयोजन के द्वारा एक एकल कक्ष का निर्माण शामिल होता है।

hi

01.

फॉर्मेटिंग
02.

एडिटिंग
03.

एम्बेडिंग
04.

स्प्लिटिंग
05.

इनमें से कोई नहीं

**Solution for Question 175**

eng

Merging cells involves creating a single cell by combining two or more selected cells.

hi

दो या दो से अधिक चयनित सेल के संयोजन के द्वारा एक एकल सेल का निर्माण शामिल होता है।

**Q-176** Which of the following option suited if you press Ctrl + Shift + F8?

eng

01.

It selects three word
02.

It activates the rectangular selection
03.

It selects the paragraph on which the insertion line is
04.

It activates extended selection
05.

None of above

**Q-176** यदि आप Ctrl + Shift + F8 प्रेस करते है तो क्या होगा?

hi

01.

यह तीन शब्द को सेलेक्ट करता है।
02.

यह आयताकार सलेक्सन को सक्रिय करता है
03.

यह उस पैराग्राफ को सेलेक्ट करता है जिस पर इंसर्शन लाइन होता है।
04.

यह विस्तारित सलेक्सन को एक्टिवेट करते है



05. उपरोक्त में से कोई नहीं

### Solution for Question 176

eng	Ctrl + Shift + F8 activates the rectangular selection.
hi	Ctrl + Shift + F8 आयताकार चयन को सक्रिय करता है।

**Q-177** In Bluetooth technology , the \_\_\_\_\_ layer is roughly equivalent to the physical layer of the Internet model.

eng

01.	L2CAP	02.	radio
03.	baseband	04.	all of above
05.	None of these		

**Q-177** ब्लूटूथ में, ----- लेयर इंटरनेट मॉडल की फिजिकल लेयर के समतुल्य है।

hi

01.	एल2सीएपी	02.	रेडियो
03.	बेसबैंड	04.	उपरोक्त सभी
05.	इनमें से कोई नहीं		

### Solution for Question 177

eng	In Bluetooth, the radio layer is roughly equivalent to the physical layer of the Internet model.
hi	ब्लूटूथ की रेडियो लेयर, इंटरनेट मॉडल की फिजिकल लेयर के समतुल्य होती है।

**Q-178** Which of the following are included in the word program.....Title Bar, Ribbon, Status Bar, Views, Document workspace.

eng

01.	Window	02.	Website
03.	Explorer	04.	Browser
05.	None of these		

**Q-178** वर्ड प्रोग्राम में टाइटल बार, रिबन, स्टेटस बार, व्यू, डॉक्युमेन्ट वर्कस्पेस ----- में शामिल किए जाते हैं।

hi

01.	विंडोज	02.	वेबसाइट
03.	एक्सप्लोरर	04.	ब्राउजर
05.	इनमें से कोई नहीं		

### Solution for Question 178

eng	The word program Window included Title Bar, Ribbon, Status Bar, Views, Document workspace.
hi	टाइटल बार, रिबन, स्टेटस बार, व्यू, डॉक्युमेन्ट वर्कस्पेस, विंडो वर्ड प्रोग्राम में शामिल किए गए हैं।

**Q-179** Storage place for Documents, Movies, Images and Photographs is \_\_\_\_\_.

eng

01.	Print Server	02.	Web Sever
03.	Application Sever	04.	File Sever
05.	None of these		

**Q-179** दस्तावेज, फिल्म, चित्र और तस्वीरों के लिए भंडारण स्थान ----- होता है।

hi

01.	प्रिंट सर्वर	02.	वेब सर्वर
03.	एप्लीकेशन सर्वर	04.	फाइल सर्वर
05.	इनमें से कोई नहीं		

### Solution for Question 179

eng	Storage place for Documents, Movies, Images and Photographs is File server.
hi	दस्तावेज, सिनेमा, चित्र और तस्वीरों के लिए भंडारण स्थान फाइल सर्वर होता है।

**Q-180** Press the ENTER key in all of the following circumstances except \_\_\_\_\_.

eng

01.	to begin a new paragraph	02.	when the insertion point reaches the right margin
03.	to insert a blank line into a document	04.	in response to certain Word commands

05. None of these

Q-180

----- छोड़कर निम्न सभी परिस्थितियों में Enter कुंजी दबाएं जाते हैं।

hi

01. एक नया पैराग्राफ शुरू करने के लिए

02. जब इंसर्शन पॉइंट दायें मार्जिन पर पहुँचता है

03. किसी डॉक्यूमेंट में एक रिक्त पंक्ति सम्मिलित करने के लिए

04. कुछ निश्चित वर्ड कमांड के जवाब में

05. इनमें से कोई नहीं

Solution for Question 180

eng

Press the ENTER key in all of the following circumstances except in response to certain Word commands

hi

कुछ निश्चित वर्ड कमांड के जवाब में, को छोड़कर निम्न सभी परिस्थितियों में एंटर कुंजी दबाएं जाते हैं।

Q-181

eng

The horizontal and vertical lines on a worksheet(Excel) are called ?

01. Lines

02. sheets

03. block lines

04. gridlines

05. cells

Q-181

hi

किसी वर्कशीट(एक्सेल) पर क्षैतिज और ऊर्ध्वाधर लाइनों को ----- कहा जाता है।

01. लाइन

02. शीट

03. ब्लॉक लाइन

04. ग्रिडलाइन

05. सेल

Solution for Question 181

eng

The horizontal and vertical lines on a worksheet are called gridlines.

hi

एक वर्कशीट पर क्षैतिज और ऊर्ध्वाधर लाइनों को ग्रिडलाइनें कहा जाता है।

Q-182

eng

Where is the copyright information located on most webpages available ?

01. Sidebar

02. Header

03. Footer

04. Title

05. Status bar

Q-182

hi

अधिकतर वेबपेजों पर स्थित कॉपीराइट इंफोर्मेशन कहां स्थित होती है?

01. साइडबार

02. हैडर

03. फुटर

04. टाइटिल

05. स्टेटस बार

Solution for Question 182

eng

Footer It is often used to display company data or copyright information.

hi

फुटर का प्रयोग प्रायः कंपनी डेटा या कॉपीराइट जानकारी प्रदर्शित करने के लिए प्रयोग किया जाता है।

Q-183

eng

Pipeline implements \_\_\_\_\_.

01. fetch operand

02. decode instruction

03. fetch instruction

04. calculate operand

05. All of the above

Q-183

hi

पाइपलाइन ----- इम्प्लिमेंट करता है।

01. फेच ऑपरेन्ड

02. डिकोड इंस्ट्रक्शन

03. फेच इंस्ट्रक्शन

04. कैलकुलेट ऑपरेन्ड

05. उपरोक्त सभी

**Solution for Question 183**

eng	Pipeline implement fetch instruction, decode instruction, fetch operand, and calculate operand.
hi	पाइपलाइन, फेच इंस्ट्रक्शन, डिकोड इंस्ट्रक्शन, फेच ऑपरेंड और कैलकुलेट ऑपरेंड करने को इम्प्लेमेंट करता है।

**Q-184** When you quickly press and release the left mouse button twice?

eng

01. pointing	02. Primary-clicking
03. Double-clicking	04. Secondary-clicking
05. Drag and drop	

**Q-184** जब आप जल्दी से, बायां माउस बटन दो बार प्रेस करके छोड़ते हैं तो, आप ----- कर रहे होते हैं।

hi

01. पॉन्टिंग	02. प्राइमरी क्लिकिंग
03. डबल क्लिकिंग	04. सेकेंडरी - क्लिकिंग
05. ड्रैग और ड्रॉप	

**Solution for Question 184**

eng	When you quickly press and release the left mouse button twice , you are double clicking.
hi	जब आप जल्दी से बाईं माउस बटन दो बार प्रेस और छोड़ते हैं, तो आप डबल क्लिकिंग कर रहे हैं।

**Q-185** The IMAP protocol is used for what Internet service?

eng

01. File transfers	02. Email
03. Web hosting	04. Online chat
05. All of the above	

**Q-185** IMAP प्रोटोकॉल किस इन्टरनेट सर्विस के लिए प्रयोग किया जाता है?

hi

01. फाइल ट्रांसफर	02. ईमेल
03. वेब होस्टिंग	04. ऑनलाइन चैट
05. उपरोक्त सभी	

**Solution for Question 185**

eng	IMAP ("Internet Message Access Protocol") is a method of accessing e-mail messages on a server without having to download them to your local hard drive.
hi	आईमैप ('इंटरनेट मैसेज एक्सेस प्रोटोकॉल') सर्वर पर ई-मेल एक्सेस करने का एक मैथड है जिसे अपने हार्ड ड्राइव पर डाउनलोड किये बिना किया जाता है।

**Q-186** Disk cleaner, Disk defragmenters (system tools options ) are examples of?

eng

01. system softwares	02. application softwares
03. utility software	04. sharewares
05. all of the above	

**Q-186** डिस्क क्लीनर, डिस्क डिफ्रगमेंट्स (सिस्टम टूल्स) किस के उदाहरण हैं?

hi

01. सिस्टम सॉफ्टवेयर	02. एप्लीकेशन सॉफ्टवेयर
03. यूटीलिटी सॉफ्टवेयर	04. शेयरवेयर
05. उपरोक्त सभी	

**Solution for Question 186**

eng	Disk cleaner, Disk defragmenters are utility softwares.
hi	डिस्क क्लीनर, डिस्क defragmenters यूटिलिटी सॉफ्टवेयर हैं।

**Q-187** Every time the CPU performs a program instruction it goes through all the following steps EXCEPT:

eng

01. the CPU decodes the instruction so that the computer can understand it.
02. the CPU executes the instruction and stores it on an external device.
03. the CPU fetches the required piece of data from RAM.
04. the CPU executes the instruction and stores it in RAM.
05. None of these

**Q-187** प्रत्येक बार CPU एक प्रोग्राम इंस्ट्रक्शन परफार्म करता है तो निम्न में से वह कौन से स्टेप का अनुसरण नहीं करता है ?

01. CPU इंस्ट्रक्शन को इस प्रकार डिकोड करता है कि कंप्यूटर उसे समझ सके।
02. CPU इंस्ट्रक्शन को एक्जिक्यूट करता है और एक्स्टर्नल डिवाइस पर स्टोर करता है।
03. CPU, RAM से जरूरी डाटा के भाग को लाता है।
04. CPU इंस्ट्रक्शन को एक्जिक्यूट करता है और RAM में इसे स्टोर करता है।
05. इनमें से कोई नहीं

#### Solution for Question 187

**eng** - The CPU executes the instruction and stores it on an external device.

**hi** - CPU इंस्ट्रक्शन एक्जिक्यूट करता है और इसे एक्स्टर्नल डिवाइस पर स्टोर करता है।

**Q-188** This graphic type is commonly only found on the Macintosh family of Operating systems?

**eng**

01. jpg
02. bmp
03. gif
04. pict
05. tiff

**Q-188** कौन सा ग्राफिक प्रकार सामान्यतः केवल मैसिन्टोश ऑपरेटिंग सिस्टम फैमिली में पाया जाता है?

**hi**

01. जेपीजी
02. बीएमपी
03. जीआईएफ
04. पिक्ट
05. एफजीआई

#### Solution for Question 188

**eng** pict graphic type is commonly only found on the Macintosh family of operating systems.

**hi** पिक्ट ग्राफिक प्रकार सामान्यतः केवल मैसिन्टोश ऑपरेटिंग सिस्टम फैमिली में पाया जाता है।

**Q-189** To create word processed to document when the user at this stage, screen and in printed form in both words change is visible on the page ?

**eng**

01. Inserting Tables and Indexes
02. Editing text
03. Formatting text
04. All of the above
05. None of these

**Q-189** वर्ड प्रोसेस्ड डॉक्यूमेंट क्रिएट करते समय, इस चरण में यूजर स्क्रीन और प्रिंटेड फार्म दोनों में पेज पर दिखते वर्ड्स चेंज करता है।

**hi**

01. इन्सर्टिंग टेबल्स और इंडेक्सेस
02. एडिटिंग टेक्स्ट
03. फॉर्मेटिंग टेक्स्ट
04. उपरोक्त सभी
05. इनमें से कोई नहीं

#### Solution for Question 189

**eng** Formatting text

**hi** फॉर्मेटिंग टेक्स्ट

**Q-190** Mnemonic a memory trick is used in which of the following language?

**eng**

01. High level language
02. Assembly language
03. Machine language
04. All
05. None of above

**Q-190** निमोनिक्स, मेमोरी ट्रिक किस भाषा में प्रयोग किया जाता है?

**hi**

01. हाई लेवल भाषा
02. एसेम्बली भाषा

	03. मशीनी भाषा	04. सभी
	05. उपर्युक्त कोई नहीं	
Solution for Question 190		
eng	- Mnemonic on memory trick is used in assembly language.	
hi	- निमोनिक्स एक मेमोरी ट्रिक है जो एसेम्बली भाषा में प्रयोग की जाती है।	
Q-191	Which bar displays information about the current page number?	
eng		
	01. Title bar	02. Status bar
	03. Tool bar	04. All of the above
	05. None of these	
Q-191	करेन्ट पेज नम्बर के लिए कौन सा बार सूचना बताता है?	
hi		
	01. टाइटल बार	02. स्टेटस बार
	03. टूल बार	04. सभी
	05. इनमें से कोई नहीं	
Solution for Question 191		
eng	Status bar displays information about the current page.	
hi	स्टेटस बार करेन्ट पेज के बारे में सूचना को दर्शाता है।	
Q-192	Electronic Mail / Message System (EMMS) best suits to _____..	
eng		
	A. Postal Service	B. Telegram Service
	C. Telegraph Service	D. Telephone Service
Q-192	इलेक्ट्रॉनिक मेल/संदेश प्रणाली (EMMS) -----के लिए सबसे अच्छा सूट करता है।	
hi		
	A. पोस्टल सर्विस	B. टेलीग्राम सर्विस
	C. टेलीग्राफ सर्विस	D. टेलीफोन सर्विस
Solution for Question 192		
eng	Electronic Mail/Message System (EMMS) best suits to Postal Service.	
hi	इलेक्ट्रॉनिक मेल/संदेश प्रणाली (EMMS), पोस्टल सर्विस की तरह होते है।	
Q-193	Pipelining increases CPU instruction by _____.	
eng		
	01. efficiency	02. latency
	03. throughput	04. Both 1 and 3
	05. None of these	
Q-193	पाइपलाइनिंग से सीपीयू के निर्देशों की ----- बढ़ जाती है।	
hi		
	01. एफीसिएंसी	02. लैटेंसी
	03. थ्रुपुट	04. 1 और 3 दोनों
	05. इनमें से कोई नहीं	
Solution for Question 193		
eng	Pipelining increases the CPU instruction throughput.	
hi	पाइपलाइनिंग से सीपीयू के निर्देशों की थ्रुपुट बढ़ जाती है।	
Q-194	Magnetic tape is not practical for applications where data must be quickly recalled because tape is—	
eng		
	01. A sequential-access medium	02. A random-access medium
	03. A read-only medium	04. Fragile and easily damaged
	05. An expensive storage medium	
Q-194	मैग्नेटिक टेप एप्लीकेशन के लिए प्रैक्टिकल नहीं है जहाँ डाटा को जल्दी लिया जाता है क्योंकि टेप _____ होते है।	

hi

01.

सिक्रुएन्सिएल एक्सेस मीडियम
02.

एक रैंडम एक्सेस मीडियम
03.

रीड ओनली मीडियम
04.

फ्रेजाइल और आसानी से क्षतिग्रस्त
05.

एक महंगा स्टोरेज मीडियम

Solution for Question 194

eng Magnetic tape is an expensive storage medium.

hi चुंबकीय टेप एक महंगी भंडारण माध्यम है।

Q-195 DSL service, in which the maximum download speed is higher than the maximum upload speed, is known as:

eng

01.

DDSL
02.

SDSL
03.

ADSL
04.

BDSL
05.

Other than these options

Q-195 DSL सर्विस में निम्न में किसमें अधिकतम डाउनलोड गति, अधिकतम अपलोड गति की अपेक्षा ज्यादा होती है।

hi

01.

DDSL
02.

SDSL
03.

ADSL
04.

BDSL
05.

इन विकल्पों के अलावा

Solution for Question 195

eng - In DSL service, ADSL has maximum download speed is higher than the maximum upload speed.

hi - DSL सर्विस में, **ADSL** में डाउनलोड की गति, अपलोड की गति के अपेक्षा ज्यादा होती है।

Q-196 ..... is well known as unauthorized access to others systems

eng

01.

Hacking
02.

Encryption
03.

Decryption
04.

Trafficking
05.

Firewall

Q-196 ..... दूसरों के सिस्टम को अनधिकृत रूप में एक्सेस करना होता है।

hi

01.

हैकिंग
02.

एन्क्रिप्शन
03.

डिक्रिप्शन
04.

ट्रेफिकिंग
05.

फ़ायरवॉल

Solution for Question 196

eng Hacking is known as unauthorized access to others system.

hi हैकिंग दूसरों के सिस्टम को अनधिकृत रूप में एक्सेस करना होता है।

Q-197 VOIP stands for \_\_\_\_\_.

eng

01.

Voice over IP
02.

Visual over IP
03.

Viruses over IP
04.

Virtual over IP
05.

Video over IP

Q-197 वीओआइपी का पूर्ण रूप \_\_\_\_\_ होता है।

hi

01.

Voice over IP
02.

Visual over IP
03.

Viruses over IP
04.

Virtual over IP
05.

Video over IP

Solution for Question 197

eng VOIP is used to transmit audio over a network.

hi	वीओआईपी एक नेटवर्क पर ऑडियो संचारित करने के लिए प्रयोग किया जाता है।
----	--

Q-198	Which of the following topology is also known as MIXED topology?
eng	
	<div>01. TREE02. RING</div> <div>03. STAR04. BUS</div> <div>05. HYBRID</div>

Q-198	निम्नलिखित में से कौन सी टोपोलॉजी, मिश्रित टोपोलॉजी के रूप में जानी जाती है?
hi	
	<div>01. ट्री02. रिंग</div> <div>03. स्टार04. बस</div> <div>05. हाइब्रिड</div>

Solution for Question 198	
eng	HYBRID topology is combination of two or more topology, also known as MIXED topology.
hi	हाइब्रिड टोपोलॉजी दो या दो से अधिक टोपोलॉजी का संयोजन होती है, जिसे मिश्रित टोपोलॉजी के रूप में भी जाना जाता है।

Q-199	What file format began the trend of downloading songs online?
eng	
	<div>01. WMA02. MOV</div> <div>03. WAV04. MP3</div> <div>05. None of these</div>

Q-199	कौन से फाइल प्रारूप से ऑनलाइन गाने डाउनलोड करने की प्रवृत्ति शुरू हुई?
hi	
	<div>01. WMA02. MOV</div> <div>03. WAV04. MP3</div> <div>05. इनमें से कोई नहीं</div>

Solution for Question 199	
eng	MP3 is popular compressed audio file format.
hi	एमपी 3 लोकप्रिय कम्प्रेस्ड ऑडियो फाइल फॉर्मेट है।

Q-200	If you need to change the typeface of a document, which of the options menu will you choose?
eng	
	<div>01. Insert02. View</div> <div>03. Format04. Tools</div> <div>05. Edit</div>

Q-200	यदि आपको डॉक्युमेंट के टाइपफेस को बदलने की जरूरत हो तो आप कौन सा मेन्यु चुनेंगे?
hi	
	<div>01. इंसर्ट02. व्यू</div> <div>03. फॉर्मेट04. टूल्स</div> <div>05. एडिट</div>

Solution for Question 200	
eng	If you need to change the typeface of a document, you choose format menu.
hi	यदि आपको किसी दस्तावेज के टाइपफेस बदलने की जरूरत है तो आप फॉर्मेट मेनू का चयन करते हैं।